

**CEINTURE VERT FONCE**  
**FICHE 1/4**

- Complète.

80	
	quatre-vingt-six
87	
	quatre-vingt-trois
89	

**Place les nombres suivants : 85 / 76 / 69 / 81 / 87**



**Complète :**

avant	nombre	après
	83	
79		
	81	

avant	nombre	après
		89
	78	
86		

**Complète avec < ou >**

84 . 48

89 . 86

83 . 80

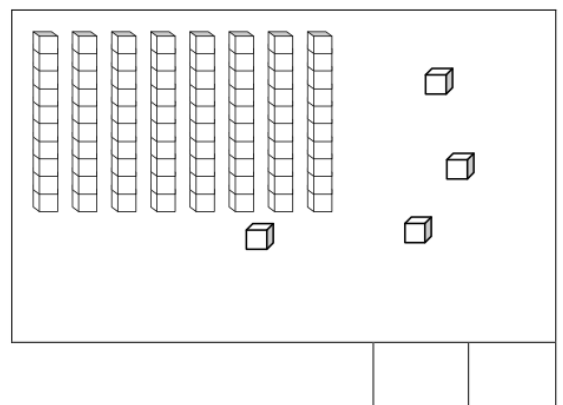
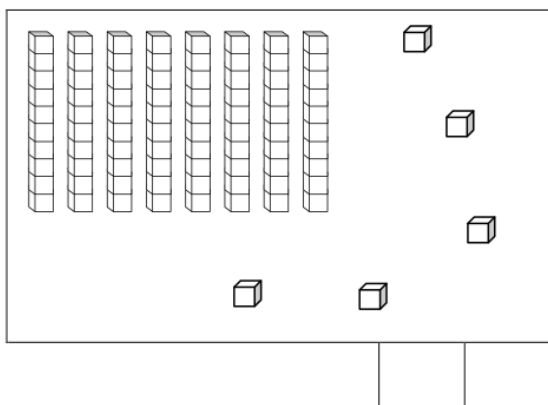
67 . 81

87 . 85

85 . 89

76 . 86

**Complète :**



- Range du plus petit au plus grand.

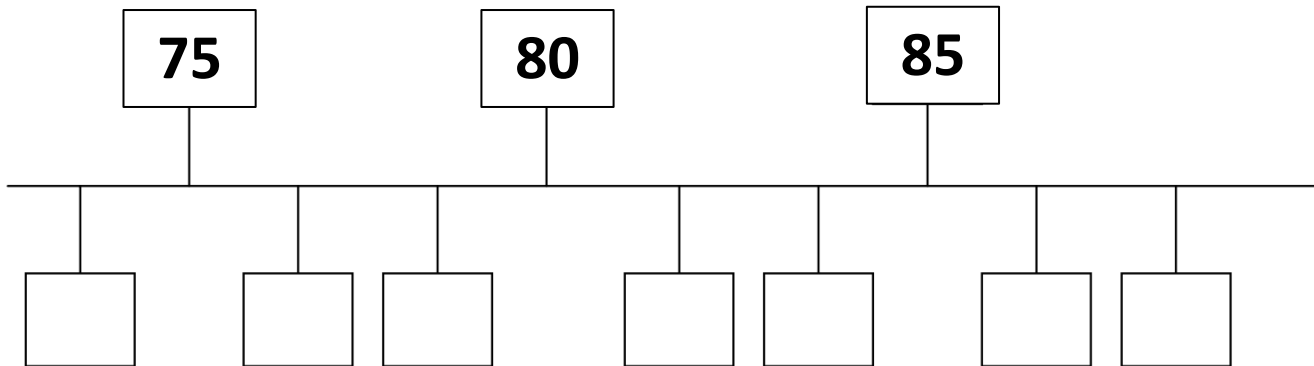
82 - 78 - 85 - 88 - 83 - 79

<  <  <  <  <

CEINTURE VERT FONCE  
FICHE 2/4

- Place les étiquettes des nombres suivants :

82 / 87 / 71 / 73 / 77 / 84 / 89



Calcule :

$$10 + 10 + 10 + 10 + 10 + 10 + 10 + 10 + 8 = \underline{\hspace{2cm}}$$

$$10 + 10 + 10 + 10 + 10 + 10 + 10 + 10 + 5 = \underline{\hspace{2cm}}$$

$$10 + 10 + 10 + 10 + 10 + 10 + 10 + 10 + 3 = \underline{\hspace{2cm}}$$

Compare :

$84 . 80+9$

$89 . 79$

$80+3 . 80+5$

$80+7 . 80+1$

$87 . 78$

$70+5 . 67$

$80+7 . 10+10+10+10+10+10+10+1$

Relie :

quatre-vingt-sept	81
quatre-vingt-un	87
quatre-vingt-cinq	89
quatre-vingt-neuf	85

80+2	10+10+10+10+10+10+10+10+2
80+4	10+10+10+10+10+10+10+10+7
80+7	10+10+10+10+10+10+10+10+4
80+8	10+10+10+10+10+10+10+10+8

## CEINTURE VERT FONCE FICHE 3/4

- Ecris en chiffres.

*quatre-vingt-deux*      ⇒      \_\_\_\_\_

*quatre-vingt-quatorze*      ⇒      \_\_\_\_\_

*quatre-vingt-six*      ⇒      \_\_\_\_\_

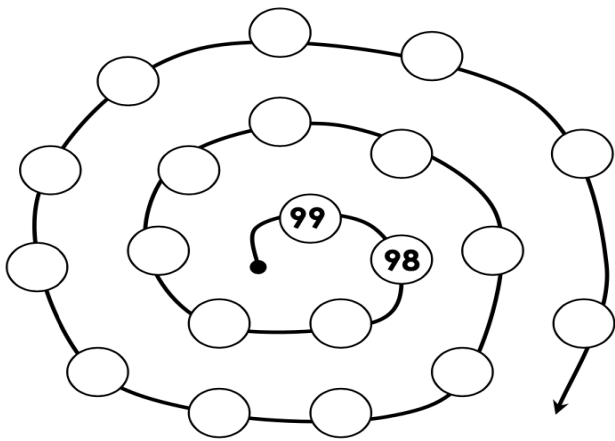
*quatre-vingt-dix-huit*      ⇒      \_\_\_\_\_

*quatre-vingt-huit*      ⇒      \_\_\_\_\_

- Complète.

avant	nombre	après
	87	
	95	
	85	
	97	
	90	

### Complète :



- Décompose.

Exemple :  $57 = 50 + 7$

$97 = \underline{\quad} + \underline{\quad}$

$96 = \underline{\quad} + \underline{\quad}$

$89 = \underline{\quad} + \underline{\quad}$

$76 = \underline{\quad} + \underline{\quad}$

$64 = \underline{\quad} + \underline{\quad}$

$78 = \underline{\quad} + \underline{\quad}$

- Range les nombres du plus petit au plus grand.

$68 - 75 - 78 - 65 - 98 - 86 - 89 - 56$

□ < □ < □ < □ < □ < □ < □ < □

- Décompose.

Exemple :  $79 = 70 + 9$

$75 = \underline{\quad} + \underline{\quad}$

$63 = \underline{\quad} + \underline{\quad}$

$85 = \underline{\quad} + \underline{\quad}$

$98 = \underline{\quad} + \underline{\quad}$

$91 = \underline{\quad} + \underline{\quad}$

$82 = \underline{\quad} + \underline{\quad}$

- Calcule.

$80 + 3 = \underline{\quad}$

$90 + 1 = \underline{\quad}$

$70 + 9 = \underline{\quad}$

$70 + 7 = \underline{\quad}$

$60 + 2 = \underline{\quad}$

$90 + 5 = \underline{\quad}$

$80 + 3 = \underline{\quad}$

$90 + 9 = \underline{\quad}$

$10+10+10+10+10+10+10+10+10+6 = \dots\dots\dots$





$90+2 = \dots\dots\dots$

$10+10+10+10+10+10+10+10+10+9 = \dots\dots\dots$

$90+7 = \dots\dots\dots$

# CEINTURE VERT FONCE

## FICHE 4/4

<b>D</b>	<b>U</b>	<b>D</b>	<b>U</b>	<b>D</b>	<b>U</b>
					
			91		

- Entoure dans chaque liste le nombre le plus petit.

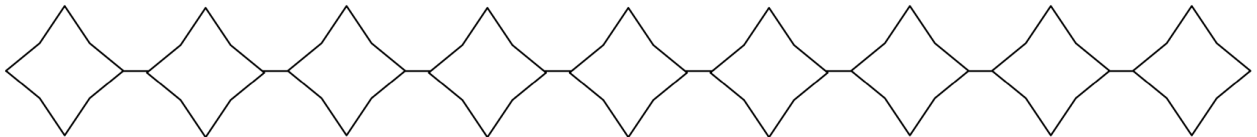
⇒ 74    78    64    72    65    71    96

⇒ 84    85    92    95    96    87    59

⇒ 96    98    60    74    63    51    69

- Ecris les nombres du plus petit au plus grand.

78 – 87 – 68 – 98 – 76 – 65 – 96 – 86 – 67



- Complète le tableau.

Avant	nombre	Après
	91	
	79	
	69	
	65	

### Relie :

90+2	92	80 + 12
90+4	97	80 + 17
90+7	98	80 + 14
90+8	94	80 + 18

quatre-vingt-dix-sept	10+10+10+10+10+10+10+10+10+10+1
quatre-vingt-onze	10+10+10+10+10+10+10+10+10+7
quatre-vingt-quinze	10+10+10+10+10+10+10+10+10+9
quatre-vingt-dix-neuf	10+10+10+10+10+10+10+10+10+5

# CEINTURE VERT FONCE VALIDATION

## Relie:

- |      |                       |
|------|-----------------------|
| 91 • | • quatre-vingt-quinze |
| 84 • | • quatre-vingt-onze   |
| 96 • | • quatre-vingt-quatre |
| 80 • | • quatre-vingt-seize  |
| 90 • | • quatre-vingt-deux   |
| 82 • | • quatre-vingt-dix    |
| 95 • | • quatre-vingts       |
| 93 • | • quatre-vingt-treize |

## Ecris les nombres :

Dizaines	Unités	
		⇒ _____
Dizaines	Unités	
		⇒ _____
Dizaines	Unités	
		⇒ _____

## Dessine :

D	U	
		87

D	U	
		96

## Compare < ou > :

$94 . 80+19$

$87 . 91$

$90+3 . 80+3$

$10+10+10+10+10+10+10+10+7 . 80+11$

$89 . 98$

$80+5 . 80+11$

$90+7 . 10+10+10+10+10+10+10+10+1$

Range du plus petit au plus grand : 84 / 67 / 94 / 49 / 81 / 99

	<		<		<		<		<	
--	---	--	---	--	---	--	---	--	---	--

Calcule:  $80 + 19 = \dots\dots\dots$

$90 + 3 = \dots\dots\dots$

$80 + 7 = \dots\dots\dots$

$10+10+10+10+10+10+10+10+10+7 = \dots\dots\dots$

$80 + 11 = \dots\dots\dots$

$80 + 5 = \dots\dots\dots$

$80 + 15 = \dots\dots\dots$

$90 + 3 = \dots\dots\dots$

$10+10+10+10+10+10+10+10+1 = \dots\dots\dots$