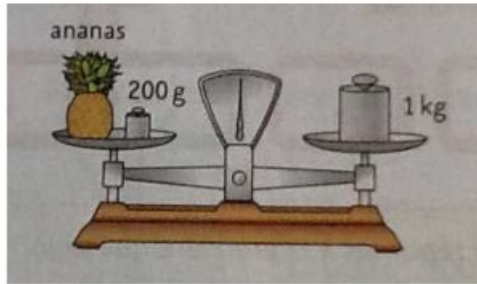


Problème n°1

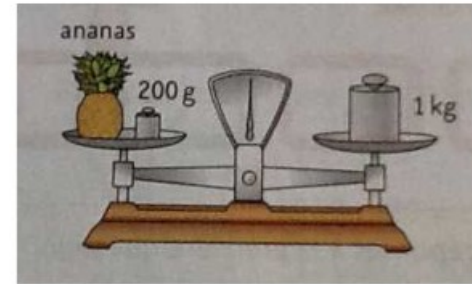
Maman prépare une salade de fruits. Elle met dans un saladier :
 250 g de pommes, 200 g de poires, 100 g de bananes,
 100 g de kiwis, 150 g de raisin et 50 g de sucre.
 Sa salade de fruits pèsera-t-elle plus d'un kilogramme ?

Problème n°1


Maman prépare une salade de fruits. Elle met dans un saladier :
 250 g de pommes, 200 g de poires, 100 g de bananes,
 100 g de kiwis, 150 g de raisin et 50 g de sucre.
 Sa salade de fruits pèsera-t-elle plus d'un kilogramme ?

Problème n°2

Quel est le poids de l'ananas ?

Problème n°2

Quel est le poids de l'ananas ?

Problème n°3 : (bonus)

Le camion vide pèse 2 600 kg. Il transporte 3 vachettes qui pèsent 800 kg, 750 kg et 695 kg. A-t-il le droit de passer sur le pont ?

Problème n°3 : (bonus)

Le camion vide pèse 2 600 kg. Il transporte 3 vachettes qui pèsent 800 kg, 750 kg et 695 kg. A-t-il le droit de passer sur le pont ?