



Je révise pendant les vacances

Jour 4 semaine 3

Orthographe

Mets le mot en gras au féminin et fais les transformations nécessaires.

Ce vieux **lapin** est très gentil.

Son **chien** blanc ressemblait à un ours blanc.

Il paraîtra heureux, reposé et serein.

Opérations

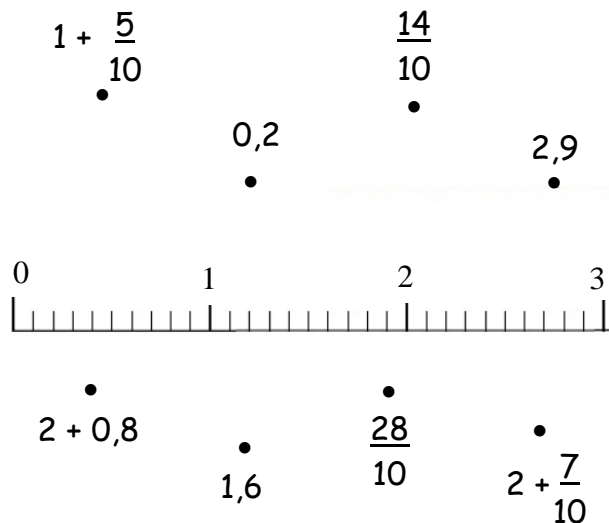
$$\begin{array}{r} 5 \text{ . } 6 \\ \times 2 \text{ . } \\ \hline 2 \text{ 1 } 8 \text{ 4} \\ 1 \text{ 0 } 9 \text{ 2 0} \\ \hline \end{array}$$

$$\begin{array}{r} \text{ . } 4 \text{ 3} \\ \times \text{ . } 5 \\ \hline 3 \text{ 7 } \text{ . } \text{ .} \\ \text{ . } 2 \text{ 2 } 9 \text{ 0} \\ \hline \end{array}$$

$$\begin{array}{r} 1 \text{ 2 } \text{ .} \\ \times \text{ . } 7 \\ \hline 8 \text{ . } 6 \\ \text{ . } 1 \text{ 2 0} \\ \hline \end{array}$$

Numération

Relie les nombres au bon endroit.



Grammaire

Écris D sous les déterminants, N sous les noms et Adj sous les adjectifs qualificatifs.

- Une sauterelle verte
- Sa grande intelligence
- La vie privée
- Cet entraînement
- Plusieurs opinions
- L'oiseau paradisiaque

Conjugaison

Écris au Futur Simple.

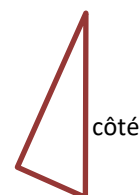
Charlie _____ ses plus belles photos sur une clé USB. (mettre) / Il _____ ainsi les revoir. (pouvoir) / Sa petite soeur _____ également une clé pour stocker les siennes. (avoir) Nous _____ plus tard d'autres types de mémoire. (posséder) Le monde informatique _____ encore d'évoluer. (continuer) Nous n'imaginons pas encore tout ce qui _____ en informatique, dans les prochaines années. (évoluer) Vous _____ surpris ! (être)

Les quadrilatères

Trace un losange à partir de ce triangle.



Trace un carré à partir de ces diagonales.



Trace un rectangle à partir de ces côtés.

Je lis




La maman de Tessa décide de changer les double-rideaux du salon pour les assortir aux murs récemment repeints. Il lui faut du tissu bien épais et de bonne qualité pour n'être abîmé ni par le soleil, ni par la pleine lune si elle ne ferme pas les volets.

Elle se rend dans un magasin où elle pourra acheter du tissu au mètre. Elle hésite entre deux tissus. Il lui faudra 10 mètres pour ses rideaux.

L'un des tissus, de couleur verte, coûte 35 € le mètre.

L'autre, de couleur bleu canard, revient à 29 € le mètre, mais comme il s'agit d'une chute, elle devra en acheter 12 mètres.



1. S'il faut 10 m pour les 4 rideaux, combien faut-il pour un rideau ?

Il faut _____ m pour un rideau.

2. Combien coûte un rideau vert ?

Un rideau vert revient à _____ €.

3. Combien coûtent les 10 m de rideaux verts ?

Les 10 m de rideaux verts coûtent _____ €.

4. Combien coûtent les 12 m de tissu bleu canard ?

Les 12 m bleu canard coûtent _____ €.

Dans ce texte :


1. Relève un verbe à l'infinitif : _____
2. Relève un verbe au futur simple : _____

Pourquoi la maman de Tessa souhaite-t-elle changer la couleur des double-rideaux de son salon ? (Réponds en rédigeant une phrase complète.) _____

Quel tissu est le moins cher ? *vert* / *bleu canard* (Entoure).

Avec quel tissu pourra-t-elle faire des coussins en plus ?

vert / *bleu canard* (Entoure la bonne réponse).



Explique à quoi correspondent les nombres suivants. Sois précis.



1. 10 représente la _____
2. 35 représente le _____
3. 12 représente la _____
4. 29 représente le _____