

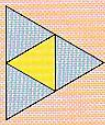
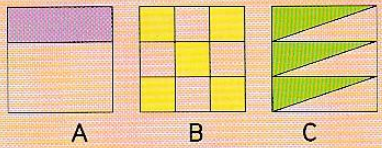

Je fais le point (3)



Pour chaque exercice, choisis la bonne réponse **A**, **B** ou **C**.

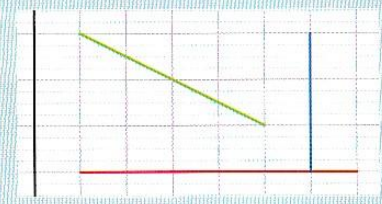
Nombres et calculs

- Reconnaître et utiliser les fractions
- Diviser par un nombre de un chiffre

	A	B	C	Aide
1 À quelle fraction du drapeau la partie coloriée en jaune correspond-elle ? 	$\frac{1}{3}$	$\frac{1}{6}$	$\frac{1}{4}$	L61 Ex. 2
2 Dans quelle figure l'aire coloriée est-elle égale à $\frac{1}{2}$ de celle du carré ? 	Figure A	Figure B	Figure C	
3 La longueur de la bande rouge est égale à : 	$\frac{2}{3}$	$\frac{3}{2}$	$\frac{3}{4}$	L63 Ex. 2
4 42 divisé par 5	Quotient : 8 Reste : 2	Quotient : 8 Reste : 5	Quotient : 2 Reste : 8	L48 Ex. 1 et 2
5 65 divisé par 6	Quotient : 5 Reste : 10	Quotient : 10 Reste : 5	Quotient : 9 Reste : 11	



Espace et géométrie

- Identifier des droites parallèles

	A	B	C	Aide
6 La droite parallèle à la droite noire est... 	La droite rouge	La droite bleue	La droite verte	L54 Ex. 2


Grandeurs et mesures

- Utiliser les unités de contenance
- Comparer des contenance
- Comparer, ranger et mesurer des aires

	A	B	C	Aide
7 1 L est égal à...	10 cL	100 dL	1000 mL	L47 Ex. 2, 3 et 6
8 2 dL est égal à...	20 L	20 mL	20 cL	
9 1 L 5 cL est égal à...	105 cL	15 cL	150 cL	
10 Range dans l'ordre croissant : 75 cL ; 1 L ; 500 mL	500 mL 1 L 75 cL	1 L 75 cL 500 mL	500 mL 75 cL 1 L	
11 Compare l'aire du carré bleu à celle du polygone rouge. 	Elles sont égales.	L'aire rouge est plus grande que l'aire bleue.	L'aire rouge est plus petite que l'aire bleue.	L57 Ex. 1
12 Quelle est l'aire de la figure verte ? 	8 u	15 u	6 u	L60 Ex. 2

Problèmes

- Résoudre un problème de comparaisons multiplicatives
- Résoudre une situation de proportionnalité

	A	B	C	Aide
13 Lilian possède 12 billes. Noé possède 3 fois plus de billes que Lilian. Combien de billes Noé possède-t-il ?	4 billes	15 billes	36 billes	L49 Problèmes de référence 1 et 2
14 Magali possède 15 images. Elle possède 3 fois plus d'images que Samia. Combien d'images Samia possède-t-elle ?	5 images	12 images	45 images	
15  Un carreau représente un écart de :	1	10	20	L50 Ex. 2