










N 09




Les nombres de 11 à 19







  et  $\longrightarrow 10 + 1 = 11$

  et  $\longrightarrow 10 + 2 = 12$

  et  $\longrightarrow 10 + 3 = 13$

  et  $\longrightarrow 10 + 4 = 14$

  et  $\longrightarrow 10 + 5 = 15$

  et   $\longrightarrow 10 + 6 = 16$

  et   $\longrightarrow 10 + 7 = 17$

  et   $\longrightarrow 10 + 8 = 18$

  et   $\longrightarrow 10 + 9 = 19$



Je m'entraîne (avec l'aide d'un adulte)
pour travailler sur le décomposition en dizaine et unité




Dire un nombre (exemple 12), l'enfant est invité à décomposer le nombre




- à l'oral « dix et deux »,
- à l'écrit : $10 + 2$




N 09




Les nombres de 11 à 19










  et  $\longrightarrow 10 + 1 = 11$

  et  $\longrightarrow 10 + 2 = 12$

  et  $\longrightarrow 10 + 3 = 13$

  et  $\longrightarrow 10 + 4 = 14$

  et  $\longrightarrow 10 + 5 = 15$

  et   $\longrightarrow 10 + 6 = 16$

  et   $\longrightarrow 10 + 7 = 17$

  et   $\longrightarrow 10 + 8 = 18$

  et   $\longrightarrow 10 + 9 = 19$



Je m'entraîne (avec l'aide d'un adulte)
pour travailler sur le décomposition en dizaine et unité

Dire un nombre (exemple 12), l'enfant est invité à décomposer le nombre

- à l'oral « dix et deux »,
- à l'écrit : $10 + 2$