


La frise chronologique (CE2)

Nous avons classé des cartes qui représentent des événements historiques dans l'ordre chronologique en classe. Nous avons appris qu'il existe cinq périodes historiques.





Je dois retenir le nom de chaque période et leur ordre chronologique.

Pour tout revoir : <http://opn.to/a/r0qLj>



La frise chronologique (CM)

Nous avons classé des cartes qui représentent des événements historiques dans l'ordre chronologique en classe. Nous avons appris qu'il existe cinq périodes historiques.



Des dates à retenir :

Fin de la préhistoire / début de l'Antiquité : _____

Fin de l'Antiquité / début du Moyen-âge : _____

Fin du Moyen-âge / début des Temps modernes : _____

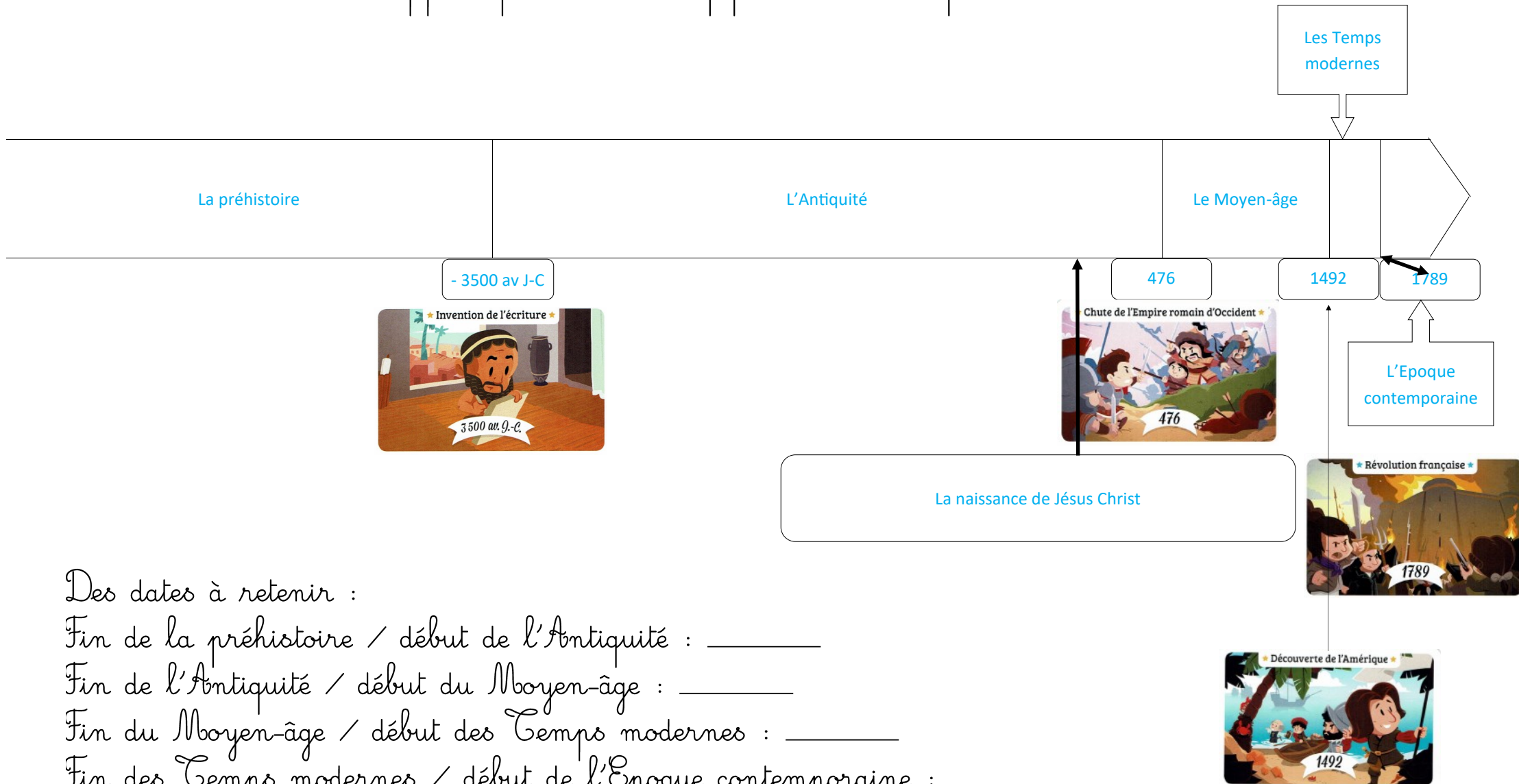
Fin des Temps modernes / début de l'époque contemporaine : _____

Pour tout revoir : <http://opn.to/a/r0qLj>



La frise chronologique (CM) Correction

Nous avons classé des cartes qui représentent des événements historiques dans l'ordre chronologique en classe. Nous avons appris qu'il existe cinq périodes historiques.



Des dates à retenir :

Fin de la préhistoire / début de l'Antiquité : _____

Fin de l'Antiquité / début du Moyen-âge : _____

Fin du Moyen-âge / début des Temps modernes : _____

Fin des Temps modernes / début de l'Epoque contemporaine : _____