





Ton prénom : \_\_\_\_\_

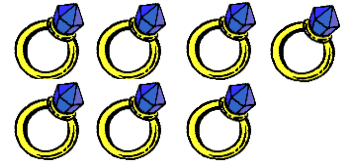
1 **Colorie le bon nombre**



4    5    6



3    4    5



5    6    7

2 **Ecris le nombre d'objets ou de doigts levés.**



.....

.....

.....

.....

.....

.....

.....

.....

3 **Dessine les points sur le dé blanc pour avoir 6 points au total.**



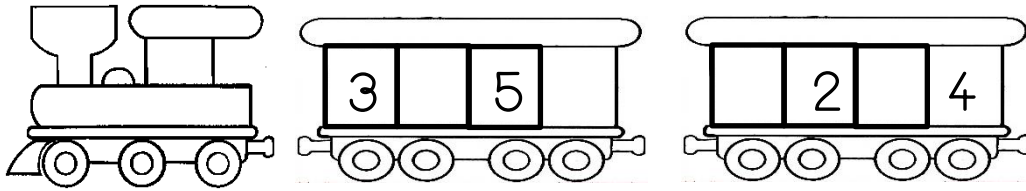
4 **Complète les additions**







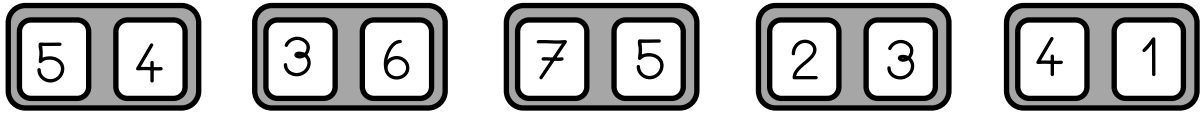
+  =





+  =

5  **Ecris les nombres qui manquent**   



6  **Colorie le plus grand des deux nombres.**   



7  **Compte le nombre de billes, puis  dessine**   




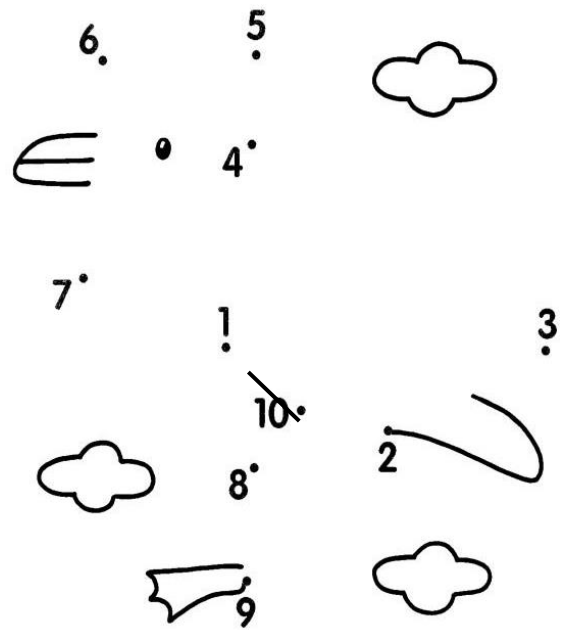

Plus de billes

Autant de billes

Moins de billes



8  **Relie les points dans l'ordre.**  
Applique-toi et utilise ta règle  
et un crayon de papier bien taillé.



Je sais dénombrer une collection de 1 à 7 objets	1, 2	
Je sais construire une collection de 1 à 7	3	
Je sais construire des décompositions additives en utilisant les symboles « + » et « = »	4	
Je sais comparer des quantités	6, 7	
Je connais la suite numérique des nombres jusqu'à 10	5, 8	