







# Lire et utiliser un tableau (1)

1 Colorie les lunes, les étoiles et les soleils en suivant les informations du tableau.

			
rouge	2	4	3
vert	2	1	0



2 Complète le tableau d'après les informations du dessin.



	CP	CE1
Pêche à la ligne	6	4
Gâteaux et confiseries	3	10

3 Voici le tableau des élèves inscrits à la cantine et à l'étude mardi prochain. Regarde le tableau et réponds aux questions.

	CP	CE1	CE2
cantine	13	12	10
étude	4	6	7

- Combien d'élèves de CP mangeront à la cantine ? **13**
- Combien d'élèves de CE1 resteront à l'étude ? **6**
- Combien d'élèves de CE2 mangeront à la cantine ? **10**



# Lire et utiliser un tableau (2)

**1** Cette semaine, Nicolas et Camille ont acheté leur nouvelle tenue de sport.  
Le tableau ci-dessous indique ce qu'ils ont acheté et quel jour.

	Lundi	Mardi	Mercredi	Jeudi	Vendredi
Nicolas	Le short 	Les chaussures 	Le polo 	Les protège-tibias 	Le ballon 
Camille	Le casque 	Les rollers 	Les coudières 	Les genouillères 	Le short 

- Quel jour Nicolas a-t-il acheté son ballon ? **vendredi**
- Qui a acheté Camille le mardi ? **les rollers**
- Qui a acheté un casque ? **Camille**
- Quel jour Camille a-t-elle acheté son short ? **vendredi**

**2** Complète le tableau en mettant des croix dans les bonnes cases.

Adrien va à l'étude cirque.

Lucie participe à l'étude dessin.

Marc reste à l'étude sport.

Sophie va à l'étude informatique.

	dessin	cirque	informatique	sport
Adrien		<del></del>		
Marc				<del></del>
Sophie			<del></del>	
Lucie	<del></del>			

**3** Dans l'école, les élèves viennent à l'école à pied, à vélo, en bus ou en voiture.  
Les maîtres ont noté les réponses des élèves dans ce tableau.



	Classe 1	Classe 2
À pied	8	9
À vélo	2	6
En bus	7	10
En voiture	9	2

- Combien d'enfants de la classe 1 viennent en vélo ? **2**
- Combien d'enfants de la classe 2 viennent en bus ? **10**
- Quel est le moyen le plus utilisé par les élèves de la classe 1 ? **en voiture**
- Dans la classe 2, il y a plus d'enfants qui viennent à pied qu'en voiture. Vrai ou faux ? **vrai**





# Lire et utiliser un tableau (3)

**1** À l'école, la maîtresse a commencé à noter dans le tableau les ateliers choisis par les enfants de la classe.

	danse	sport	dessin	chant
Paul		x		
Evan	x			
Yara	x			
Mathilde			x	
Marion				x
Clément				x

1 - Mathilde a choisi le dessin.

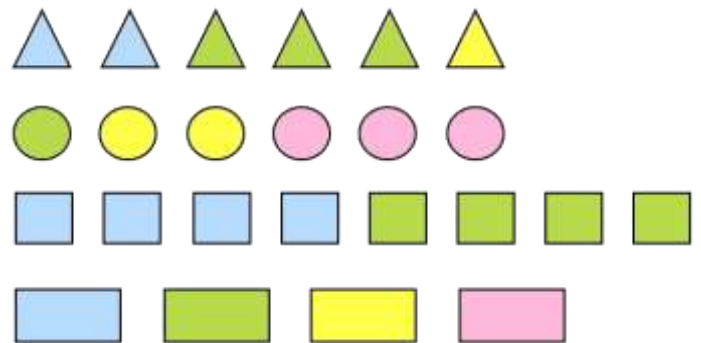
Marion et Clément ont choisi le chant.

Mets une croix pour indiquer ce que chacun a choisi.

2 - Quels enfants ont choisi l'atelier danse ? **Evan et Yara**

**2** Colorie les cercles, les carrés, les triangles et les rectangles selon les indications du tableau.

	bleu	vert	jaune	rose
	2	3	1	0
	0	1	2	3
	4	4	0	0
	1	1	1	1



**3** Lisa et Alex ont écrit chaque jour dans un tableau le nombre de gâteaux qu'ils ont mangés avec Moustik.

	lundi	mardi	mercredi	jeudi	vendredi	samedi	dimanche
Lisa	5	3	3	4	3	3	3
Alex	4	6	1	2	5	2	3
Moustik	0	6	0	5	4	5	3

1 - Quel jour nos 3 amis ont-ils mangé le même nombre de gâteaux ? **dimanche**

2 - Combien Moustik a-t-il mangé de gâteaux pendant la semaine ? **23 gâteaux**

3 - Combien ont-ils mangé de gâteaux lundi ? **10 gâteaux**

4 - Combien de jours dans la semaine Moustik a-t-il mangé des gâteaux ? **5 jours**

