

prénom: _____



CE1

Du/..... AU...../.....

Plan de travail n°17



FRANCAIS

Conjugaison		
Grammaire		
Orthographe		
Vocabulaire		
Écriture		

MATHEMATIQUES

Numération		
Géométrie/ Mesures		
Problèmes		
Opérations		
Calcul		



Mon travail est tout juste.



Il y a quelques petites erreurs.



Je n'ai pas compris, on me réexplique.

Signature des parents



Prénom:

PLAN DE TRAVAIL N°17 - CE1



1

Conjugué les verbes au présent:

- Les indiens (chasser) _____ le bison.
- Il (tirer) _____ une flèche avec son arc.
- Je (monter) _____ le tipi avec les peaux.
- Vous (danser) _____ autour du feu.
- Nous (regarder) _____ le spectacle.
- Les papooses (jouer) _____ dans le village.
- La squaw (préparer) _____ le repas.
- Le grand chef (porter) _____ ses plumes pour la fête.
- L'aigle (voler) _____ au-dessus de nos têtes.
- Nous (ramer) _____ sur le canoë.
- Les indiens (monter) _____ sur leurs mustangs.

2

Grammaire

Ecris les phrases au pluriel.
ATTENTION, pense à la terminaison du verbe:



Ex: Il mange un bonbon.
→ Ils mangent des bonbons.

Elle prépare le repas.

Il tire une flèche.

Il chasse et pêche.

Le mustang galope très vite.

L'indien attrape un saumon.

Le papoose joue avec son ami.

Elle lave la peau du bison.

Le grizzly attaque l'homme.

Le chef fume le calumet.



Orthographe



Je réponds aux devinettes (en cherchant parmi les mots de la dictée)

C'est un fleur mais aussi un prénom.

C'est une personne qui vit à côté de chez toi.

C'est le plus grand nombre dans ta liste.



Orthographe

Transforme les groupes de mots au pluriel:

Un petit indien	
Un grand cheval noir	
Un beau tipi	
Un ours féroce	
Un chef puissant	




Vocabulaire



Je cherche les mots dans le dictionnaire et je note si c'est : un verbe-un nom masculin-un nom féminin.

MOT	PAGE	VERBE NOM MASCULIN NOM FEMININ
castor		
voyager		
bison		
galoper		
western		
chasser		
canoë		

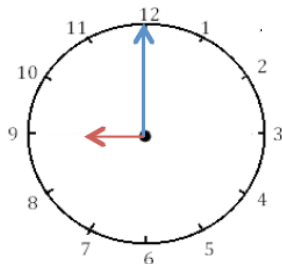
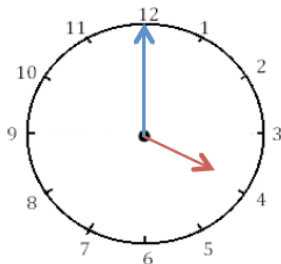


Mesures

Quelle heure est-il?



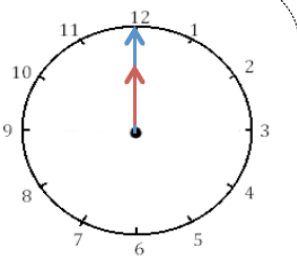
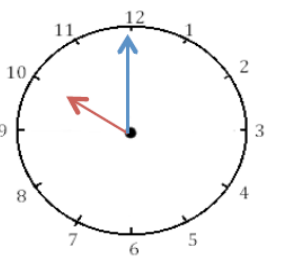
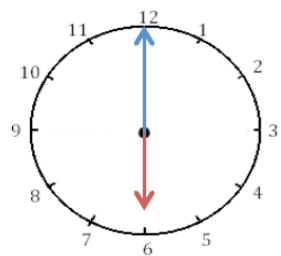
Quelle somme d'argent est dessinée?



Il est ___ h et ___ min.

Il est ___ h et ___ min.

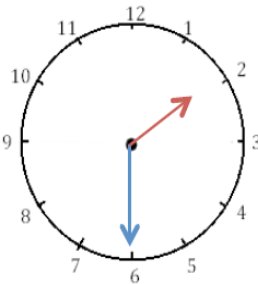
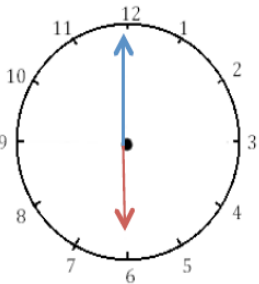
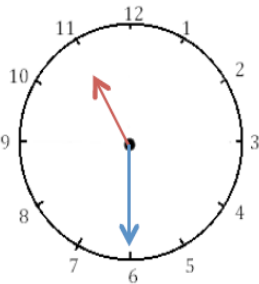
Il est _____



Il est ___ h et ___ min.

Il est ___ h et ___ min.


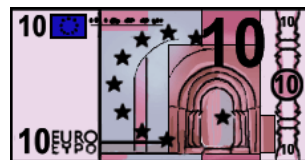
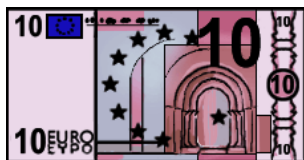
Il est _____



Il est ___ h et ___ min.

Il est ___ h et ___ min.

Il est ___ h et ___ min.



Opérations

	5	6	4
+	2	0	8
<hr/>			

	3	5	6
+	1	6	4
<hr/>			

	2	9	9
+	3	2	2
<hr/>			

● Relie les points de 10 à 260 en comptant de 10 en 10 pour compléter le dessin du Triceratops.

