

Nom-Prénom : \_\_\_\_\_

Date : \_\_\_\_/\_\_\_\_/\_\_\_\_

**Compétence 5 : LA CULTURE HUMANISTE**

**Domaine : Géographie**

**Item du LPC** - Connaître les principaux caractères géographiques physiques et humains de la région où vit l'élève, de la France et de l'Union européenne, les repérer sur des cartes à différentes échelles

**Item des IO** – identifier sur une carte et connaître quelques caractères principaux des grands ensembles physiques et humains de l'échelle locale à celle du monde.

**1) Complète ce texte avec les mots suivants.**

**océans – déformée – globes – continents - planisphères**

Le ..... terrestre représente la Terre sous la forme d'une boule.

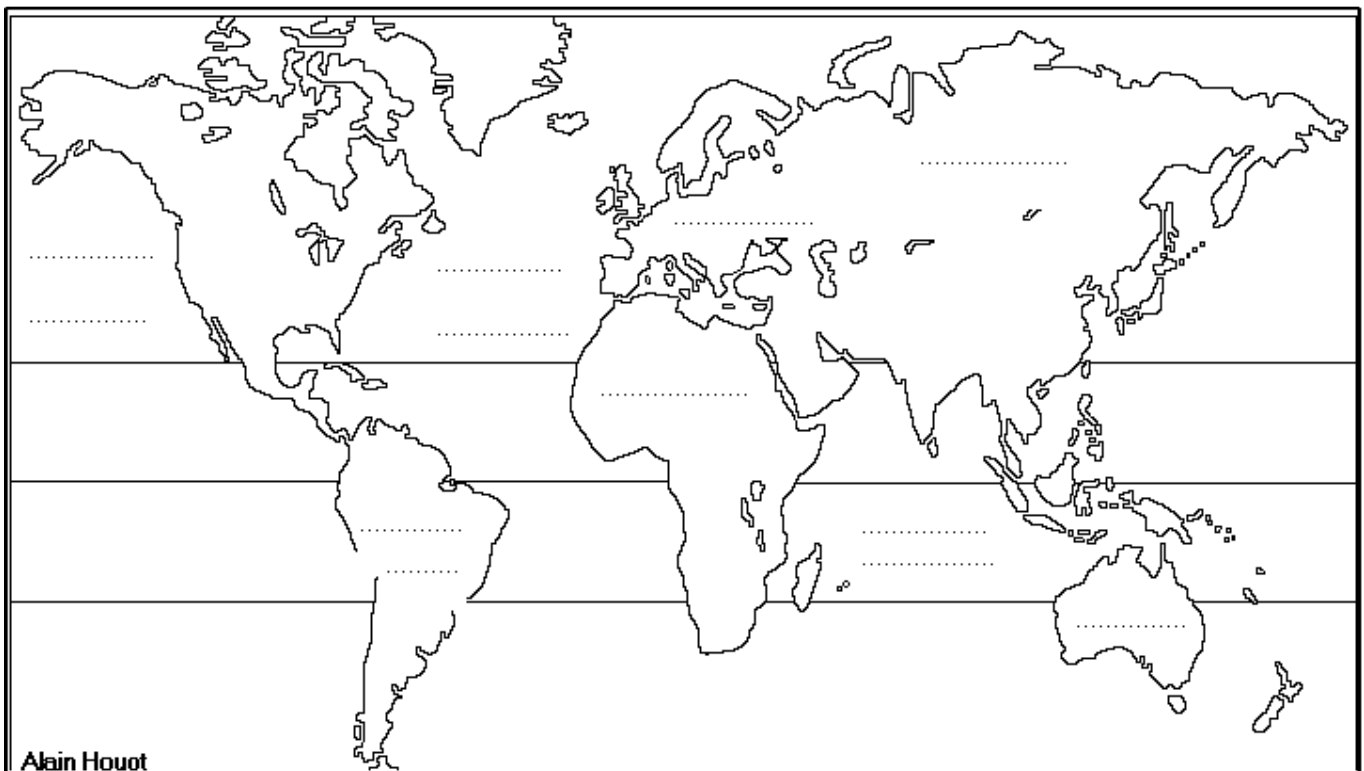
Le ..... représente la terre à plat.

Les planisphères donnent une représentation de la terre .....

Il y a sur la Terre 5 ..... et 6 .....

**2) Complète la carte :**

- Colorie en jaune la France.
- Colorie les océans et les mers en bleu et complète les pointillés.



3) Je connais des définitions en géographie.

Densité de population :

.....  
.....



Population d'un pays :

.....  
.....

4) Complète le tableau :

« Les représentations de la Terre. »

La terre peut être représentée de deux façons différentes :

	
.....	.....