



Bilan de géographie n°4

Le paysage urbain (1/2)

Nom : _____

Prénom : _____


Date : __ / __ / __

1. Reconnaître et décrire une ville.

..... / 11

Qu'est-ce qu'une ville?

Ecris "ville" ou "campagne" sous les dessins.



Qu'est-ce qu'une agglomération ?

Entoure 3 équipements que l'on ne trouve généralement que dans les grandes villes:

école – université – Mairie – hôpital – aéroport – stade de football – Préfecture – médecin – Tribunal – église – gare – boulangerie.

2. Reconnaître et décrire un paysage de centre-ville.

..... / 4

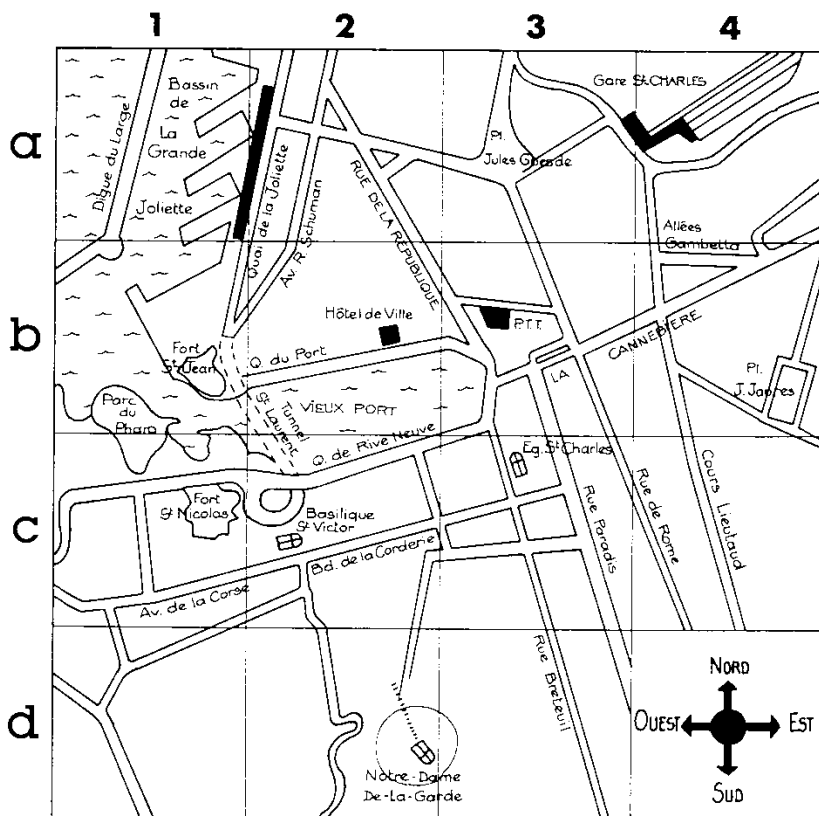
Quel est l'autre appellation du centre-ville?

Quels sont les 3 quartiers qui entourent le centre-ville?

3. Lire et utiliser un plan.

..... / 5

Observe ce vieux plan de Marseille et entoure Vrai ou Faux.



La gare est au nord du plan. VRAI-FAUX

La rue de la République va de A2 à B3 VRAI-FAUX

L'allée Gambetta est en A4. VRAI-FAUX

La Mairie figure sur le plan. VRAI-FAUX

Trace au surligneur un itinéraire rapide pour aller en voiture du Fort St Nicolas au quai de la Joliette.



Bilan de géographie n°4

Le paysage urbain (2/2)

Nom : _____

Prénom : _____

Date : __ / __ / __

4. Reconnaître et décrire un paysage de périphérie.

..... / 8

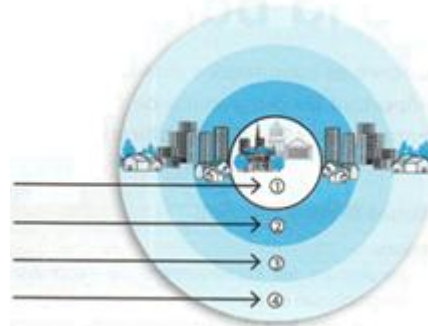
Numérote les éléments d'après le schéma

..... bureaux et banlieue résidentielle


..... centre historique

..... grands ensembles

..... banlieue pavillonnaire



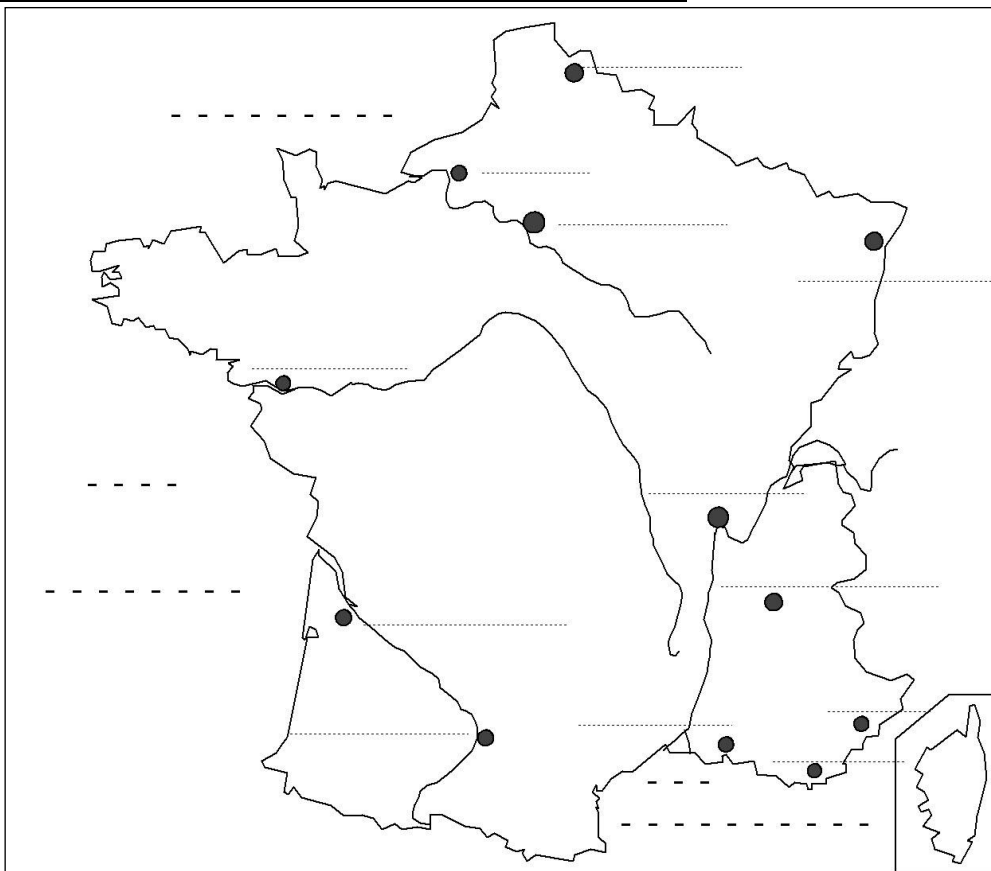
Ecris le nom des différents types d'habitations ?



5. Connaître et localiser les 12 plus grandes villes françaises.

..... / 12

Place sur la carte de France, le nom des 12 plus grandes villes françaises.



1 (18 à 20 pts)

2 (14 à 17 pts)

Résultat : / 40

Signature des parents :

3 (10 à 13 pts)

4 (moins de 10 pts)

Résultat : / 20