



Bilan de géographie n°5

Le paysage rural (1/2)

Nom : _____

Prénom : _____

Date : __ / __ / ____


1. Reconnaître un paysage rural.

..... / 17

Coche les éléments qui font partie des paysages ruraux:

- | | | |
|------------------------------------|---|--|
| <input type="checkbox"/> un champ | <input type="checkbox"/> un boulevard | <input type="checkbox"/> un bois |
| <input type="checkbox"/> une vigne | <input type="checkbox"/> une ferme | <input type="checkbox"/> une mairie de village |
| <input type="checkbox"/> une forêt | <input type="checkbox"/> un centre commercial | <input type="checkbox"/> un opéra |
| <input type="checkbox"/> une ville | <input type="checkbox"/> un chemin | <input type="checkbox"/> un verger |

Indique le nom de ces paysages ruraux:



Un paysage rural est-il forcément naturel? (Justifie ta réponse.)

.....

.....

2. Connaître les constituants d'une exploitation agricole.

..... / 15

Complète le texte à trous:

Une exploitation agricole est une Elle se consacre à différentes et possèdent donc différents espaces :

- Les espaces
- Les espaces (..... pour les vaches, pour les cochons, pour les volailles);
- Les espaces de
- Les espaces de (les à matériel agricole, les de nourriture pour les bêtes).

Grâce à ces différentes activités, la ferme produit : de la (bovine, porcine et de volaille), du de vache, des de poule, des et/ou autres cultures.



Bilan de géographie n°5
Le paysage rural (2/2)

Nom : _____


Prénom : _____

Date : __ / __ / ____

3. Distinguer les trois paysages agricoles: bocage, openfield, culture délicate.

..... / 6


Écris sous chaque dessin le nom du paysage agricole:




1.



2.



3.



4.



5.



6.

4. Différencier l'agriculture traditionnelle et biologique.

..... / 2

Quelle est la différence entre l'agriculture traditionnelle et l'agriculture biologique?

.....

.....

Dessine le logo de l'agriculture biologique:



1 (18 à 20 pts)

2 (14 à 17 pts)

Résultat :/ 40

Signature des parents :

3 (10 à 13 pts)

4 (moins de 10 pts)

Résultat :/ 20