



Bilan de géographie

TERRITOIRES À DIFFÉRENTES ÉCHELLES

La France dans le monde

CORRECTION

www.cenicienta.fr

Compétences évaluées:

Connaître et identifier sur une carte les principaux caractères géographiques physiques et humains de l'échelle du monde. (moyenne 1 à 4)

☆ S.C A B C D

Mémoriser les connaissances et le vocabulaire indispensables. (ex. 1)

A B C D

Lire et utiliser différents langages : textes, cartes, croquis, graphiques. (moyenne 2 à 4)

☆ S.C A B C D

Savoir situer les grandes métropoles du monde sur une carte. (ex. 2)

A B C D

Savoir situer les zones denses et vides de population du monde. (ex. 2)

A B C D

Lire une image pour décrire une région. (ex. 3)

A B C D

Connaître les trois grandes zones de climat du monde. (ex. 4)

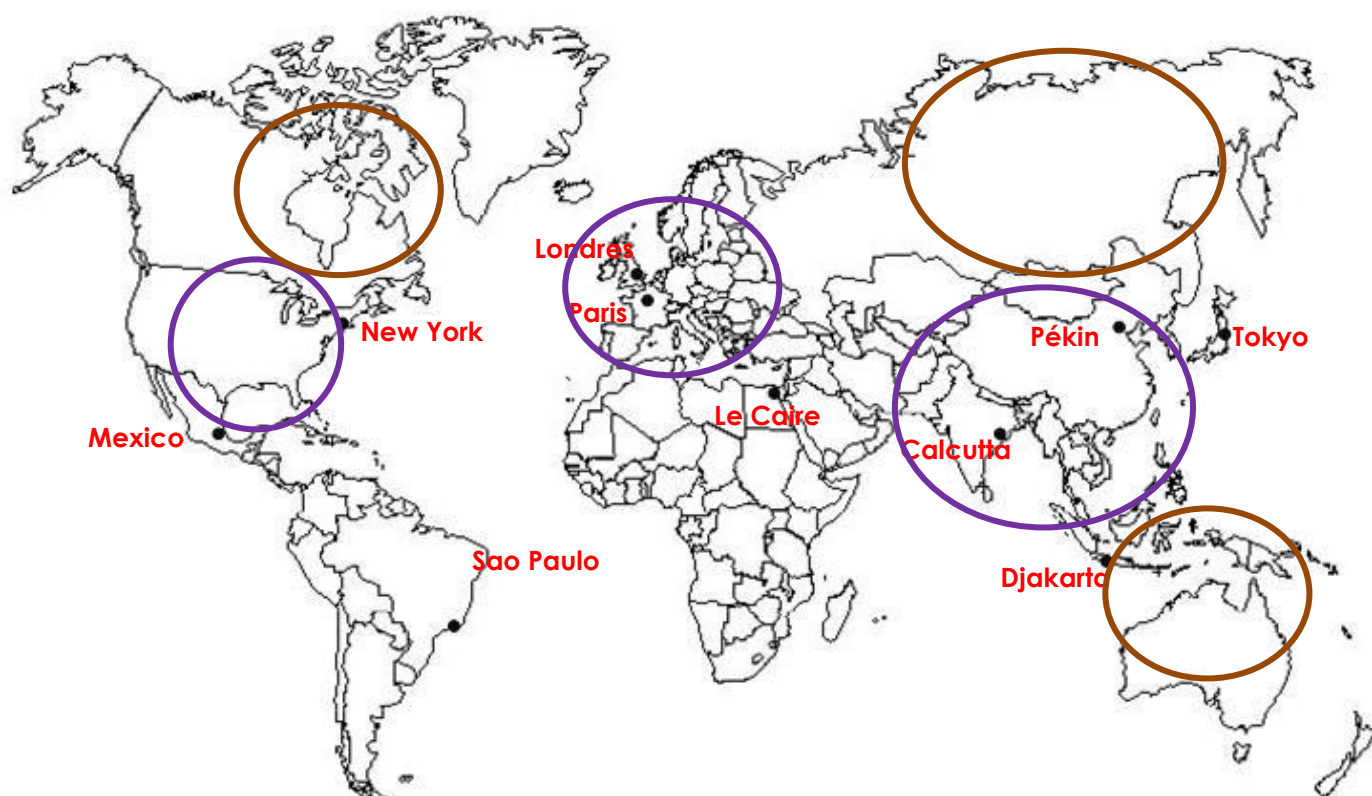
A B C D

1 Questions de cours :



- a) Qu'est-ce qu'une métropole ? **ville géante où la population est très concentrée, en zones urbaines**
- b) Qu'appelle-t-on un pays « riche » ? **un pays qui permet un niveau de vie correct à ses habitants**
- c) Quelles sont les richesses dont un pays peut disposer ? (donne trois exemples)
eau, nourriture, soins, éducation, ressources naturelles, ...
- d) Qu'est-ce qu'un pays « pauvre » ? **un pays dont la population n'a pas les ressources nécessaires pour vivre correctement**
- e) Cite les quatre « régions » du monde les plus riches : **Amérique du Nord, Europe, Australie, Japon**
- f) Cite les deux « régions » du monde les plus pauvres : **Chine et Inde**

2 Sur le planisphère suivant :

- a) Devant les points, écris le nom des dix grandes métropoles mondiales : **Beijing (Pékin), Calcutta, Jakarta, Le Caire, Londres, Mexico, New York, Paris, Sao Paulo, Tokyo.**
- b) Entoure en violet les trois régions du monde les plus peuplées.
- c) Entoure en marron les trois régions du monde les moins peuplées.



③ Indique, pour chacune des photos ci-dessous, si cette région est « très peuplée » ou « peu peuplée », et dis pourquoi.

	Car climat rude (il fait très chaud, c'est un désert).		Car végétation très dense (forêt amazonienne)
Région peu peuplée		Région peu peuplée	
	Car climat rude (il fait très froid), aucune végétation.		Car climat et végétation propices.
Région peu peuplée		Région très peuplée	

④ Voici le tableau des moyennes de températures de 3 villes différentes, en été et en hiver.
A quelles zones de climat appartiennent-elles ? Justifie ta réponse.

MANDALAY		Zone de climat	Pourquoi ?
Eté	32°	tropicale	Il fait toujours chaud été comme hiver.
Hiver	23°		
THULE		Zone de climat	Pourquoi ?
Eté	3°	polaire	Il fait toujours froid été comme hiver.
Hiver	- 20°		
LORIENT		Zone de climat	Pourquoi ?
Eté	17°	tempérée	Il ne fait ni trop chaud ni trop froid.
Hiver	7°		