



Titre: _____



Légende:

 Pays appartenant à l'Europe.

 Limite de l'Europe.

Etude de documents du manuel p. 108 – 109

Questions:

1. Doc 1. Quelles sont les grandes zones de montagne d'Europe ?
2. Dans quelle partie de l'Europe y a-t-il peu de relief ?
3. Observe les docs 2, 3, 4 et 5. Retrouve sur le doc. 1 l'emplacement de ces montagnes.
4. Décris ces montagnes. Quelles sont les différences que tu remarques?



Doc. 1 : Les formes de relief en Europe.

Etude de documents du manuel p. 108 – 109

Questions

1. Doc 1. Quelles sont les grandes zones de montagne d'Europe ?

On trouve les Hautes terres du Nord, et les monts Oural au Nord,

On trouve le Caucase à l'est,

On trouve les chaînes alpines au sud et les massifs anciens du centre de l'Europe.

2. Dans quelle partie de l'Europe y a-t-il peu de relief ?

Il y a peu de relief au centre-est de l'Europe.

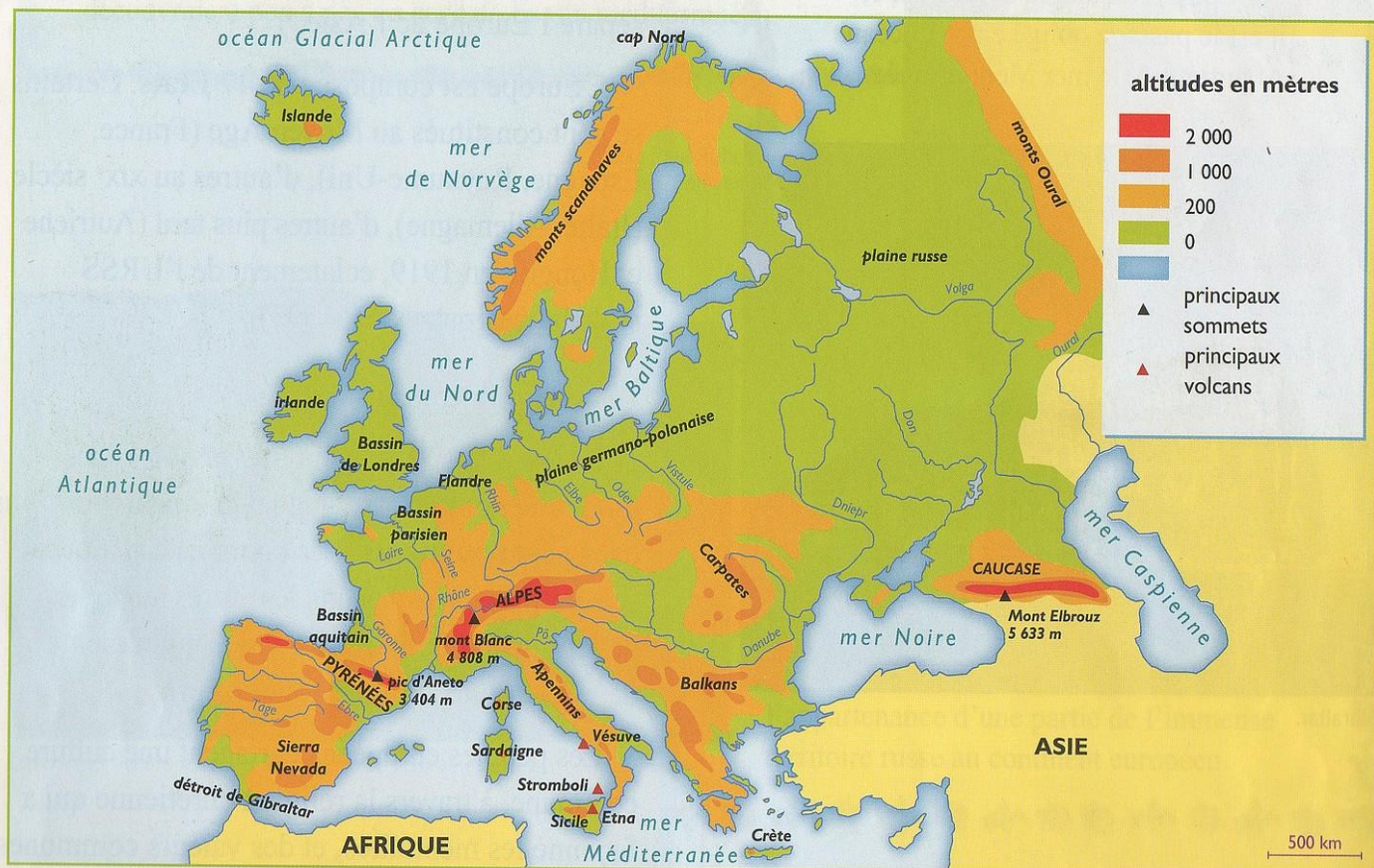
3 et 4. Observe les docs 2, 3, 4 et 5. Retrouve sur le doc. 1 l'emplacement de ces montagnes. Décrites. Quelles sont les différences que tu remarques ?

Doc. 2: Dans le Caucase, ce sont des montagnes jeunes, elles sont très élevées et « pointues ».

Doc. 3: En Ecosse, ce sont des montagnes anciennes, elles sont peu élevées et sont « usées » (érodées).

Doc. 4: En Espagne, ce sont des montagnes jeunes, élevées et « pointues ».

Doc. 5: En République Tchèque, ce sont des montagnes anciennes, peu élevées et érodées.



Doc. 1 : Les formes de relief en Europe.

De quel type de paysage s'agit-il ?

Paysage de plaine	Paysage de littoral	Paysage de montagne	Paysage fluvial

De quel type de paysage s'agit-il ?

Paysage de plaine	Paysage de littoral	Paysage de montagne	Paysage fluvial

De quel type de paysage s'agit-il ?

Paysage de plaine	Paysage de littoral	Paysage de montagne	Paysage fluvial

Doc. 7 – Groupe 1

www.cenicienta.fr

1



Paysage de montagnes (Pyrénées - Espagne)

2



Paysage fluvial (Danube – Hongrie)

Doc. 7 – Groupe 2

3



Paysage de plaine (Pays Bas)

6



Paysage fluvial (Tamise - Angleterre)

Doc. 7 – Groupe 3

5



Paysage de littoral (Aran - Irlande)

4



Paysage de plaine (Lazy - Pologne)

Doc. 7 – Groupe 4

www.cenicienta.fr

7



Paysage de littoral (Iles Féroé - Danemark)

8



Paysage de montagnes (Highlands - Ecosse)

Doc. 7 – Groupe 5

9



Paysage de montagnes (Tatras - Slovaquie)


10



Paysage fluvial (Seine – France)

Doc. 7 – Groupe 6

11



Paysage de montagnes (Bohème- Rép. Tchèque)

12



Paysage de plaine (Assise - Italie)

www.cenicienta.fr

13



Paysage fluvial (Rhin - Allemagne)

14



Paysage de littoral (Suède)

15



Paysage de plaine (Transylvanie - Roumanie)

16

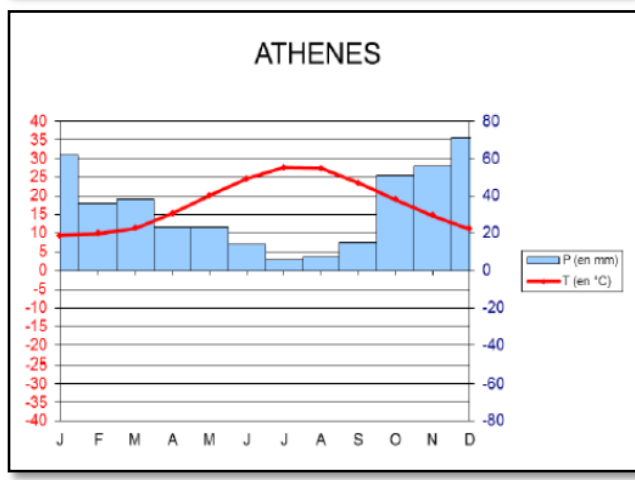
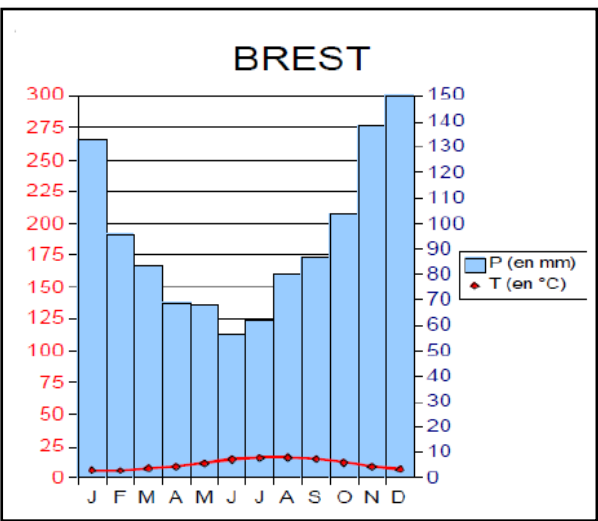
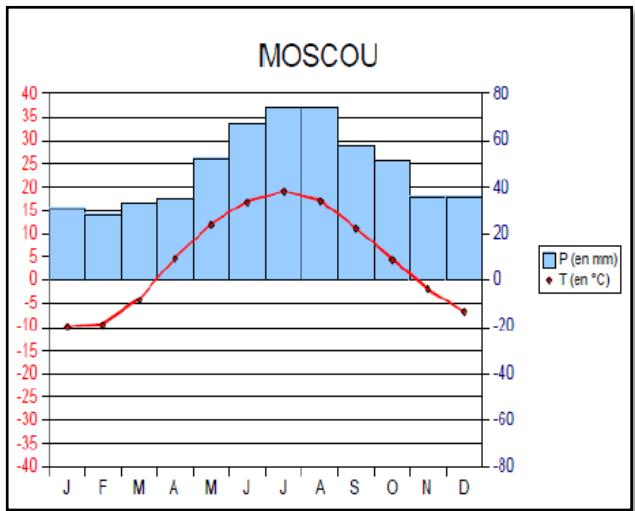


Paysage de littoral (Mykonos - Grèce)

Etude de quatre villes européennes


I. Pour chaque ville, indique sur ton cahier :

- Le mois le plus chaud de l'année,
- Le mois le plus froid,
- Le mois le plus humide,
- Le mois le plus sec,
- Ta conclusion: quel type de climat ?



2. A ton tour, construis le diagramme ombrothermique de la ville de Marseille.

	J	F	M	A	M	J	J	A	S	O	N	D
T° (en °C)	5	6	10	13	17	21	23	23	20	15	10	7
P (en mm)	43	32	43	42	46	24	11	34	60	76	69	66



Etude de documents

Le traité de Paris – 1951

Signé à Paris le 18 avril 1951, le traité de Paris instituant la Communauté Européenne du Charbon et de l'Acier (CECA) a été conclu pour 50 ans. Par ce traité, les six pays signataires (l'Allemagne, la France, l'Italie, la Belgique, le Luxembourg et les Pays-Bas) mettent en œuvre un espace de paix, de coopération et d'échanges commerciaux.

Le traité de Rome – 1957

Le 25 mars 1957, l'Allemagne, la France, l'Italie, la Belgique, le Luxembourg et les Pays-Bas signent à Rome un traité, qui crée la Communauté Economique Européenne (CEE). Elle fait suite au succès de la CECA : elle a pour but de créer une politique économique commune dans les domaines de l'agriculture, de la pêche et des transports.

1. Que crée le Traité de Paris ?

2. Que propose-t-il ?

3. Pourquoi est-ce important que la France et l'Allemagne le signent ?

4. Que crée le Traité de Rome ?

5. Que propose-t-il ?

Source : http://orpheecole.com

Etude de documents

Le traité de Paris – 1951

Signé à Paris le 18 avril 1951, le traité de Paris instituant la Communauté Européenne du Charbon et de l'Acier (CECA) a été conclu pour 50 ans. Par ce traité, les six pays signataires (l'Allemagne, la France, l'Italie, la Belgique, le Luxembourg et les Pays-Bas) mettent en œuvre un espace de paix, de coopération et d'échanges commerciaux.

Le traité de Rome – 1957

Le 25 mars 1957, l'Allemagne, la France, l'Italie, la Belgique, le Luxembourg et les Pays-Bas signent à Rome un traité, qui crée la Communauté Economique Européenne (CEE). Elle fait suite au succès de la CECA : elle a pour but de créer une politique économique commune dans les domaines de l'agriculture, de la pêche et des transports.

1. Que crée le Traité de Paris ?

2. Que propose-t-il ?

3. Pourquoi est-ce important que la France et l'Allemagne le signent ?

4. Que crée le Traité de Rome ?

5. Que propose-t-il ?

Source : http://orpheecole.com

Colorie la carte suivant la légende.

violet 1957: Allemagne, Belgique, France, Italie, Luxembourg, Pays-Bas.

Bleu foncé 1981: Grèce

orange 1995: Autriche, Finlande, Suède

marron 2007: Bulgarie, Roumanie

jaune 1973: Danemark, Irlande, Royaume-Uni

vert 1986: Espagne, Portugal

rose 2004: Chypre, Estonie, Hongrie, Lettonie, Lituanie, Malte, Pologne, République Tchèque, Slovaquie, Slovénie

rouge 2013: Croatie

