



Bilan de géographie

TERRITOIRES À DIFFÉRENTES ÉCHELLES

La France dans le monde

CORRECTION

www.cenicienta.fr

Compétences évaluées:

Connaître et identifier sur une carte les principaux caractères géographiques physiques et humains de l'échelle du monde. (moyenne 1 à 7)

☆ S.C A B C D

Mémoriser les connaissances et le vocabulaire indispensables. (ex : 1 et 2)

A B C D

Comprendre un document géographique simple : le planisphère. (ex : 3 et 4)

A B C D

Lire et utiliser différents langages : textes, cartes, croquis, graphiques. (moyenne 5 à 7)

☆ S.C A B C D

La France dans le monde (en appui, étude du globe et des planisphères : les océans et continents.) (ex : 5 et 6)

A B C D

Connaître les repères terrestres et savoir les utiliser. (ex : 7)

A B C D

❶ Donne la définition la plus complète possible des termes suivants :

La Terre : 3^e planète du système solaire, elle a 6 milliards d'années.

Un planisphère : C'est une représentation déformée de la Terre, à plat.

Un parallèle : Repère imaginaire horizontal qui sépare la Terre en deux hémisphères nord et sud et détermine la latitude

Un méridien : Repère imaginaire vertical qui sépare la Terre entre est et ouest et détermine la longitude.

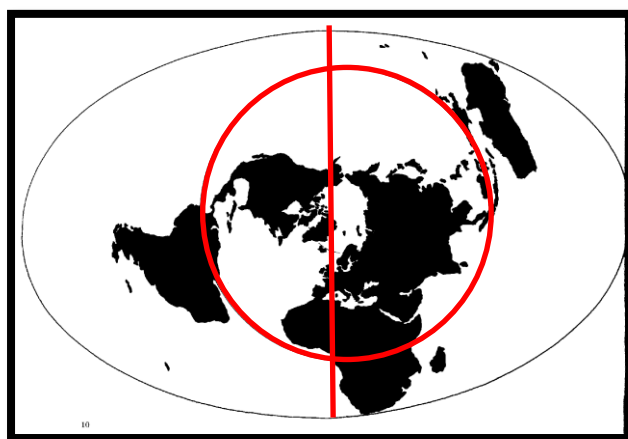
Un continent : Large étendue de terre bordée par des océans et comprenant plusieurs pays.

❷ Pourquoi la planète Terre est-elle appelée la Planète Bleue ? (Fais une phrase)

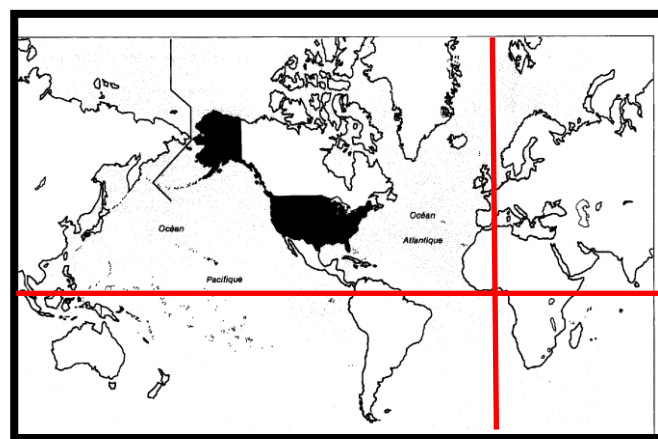
La Terre est composée à 71% d'eau. C'est pourquoi on l'appelle la planète bleue.

❸ Complète le nom des planisphères suivants.

❹ Places-y ensuite en rouge, le plus précisément possible, l'équateur et le Méridien de Greenwich.



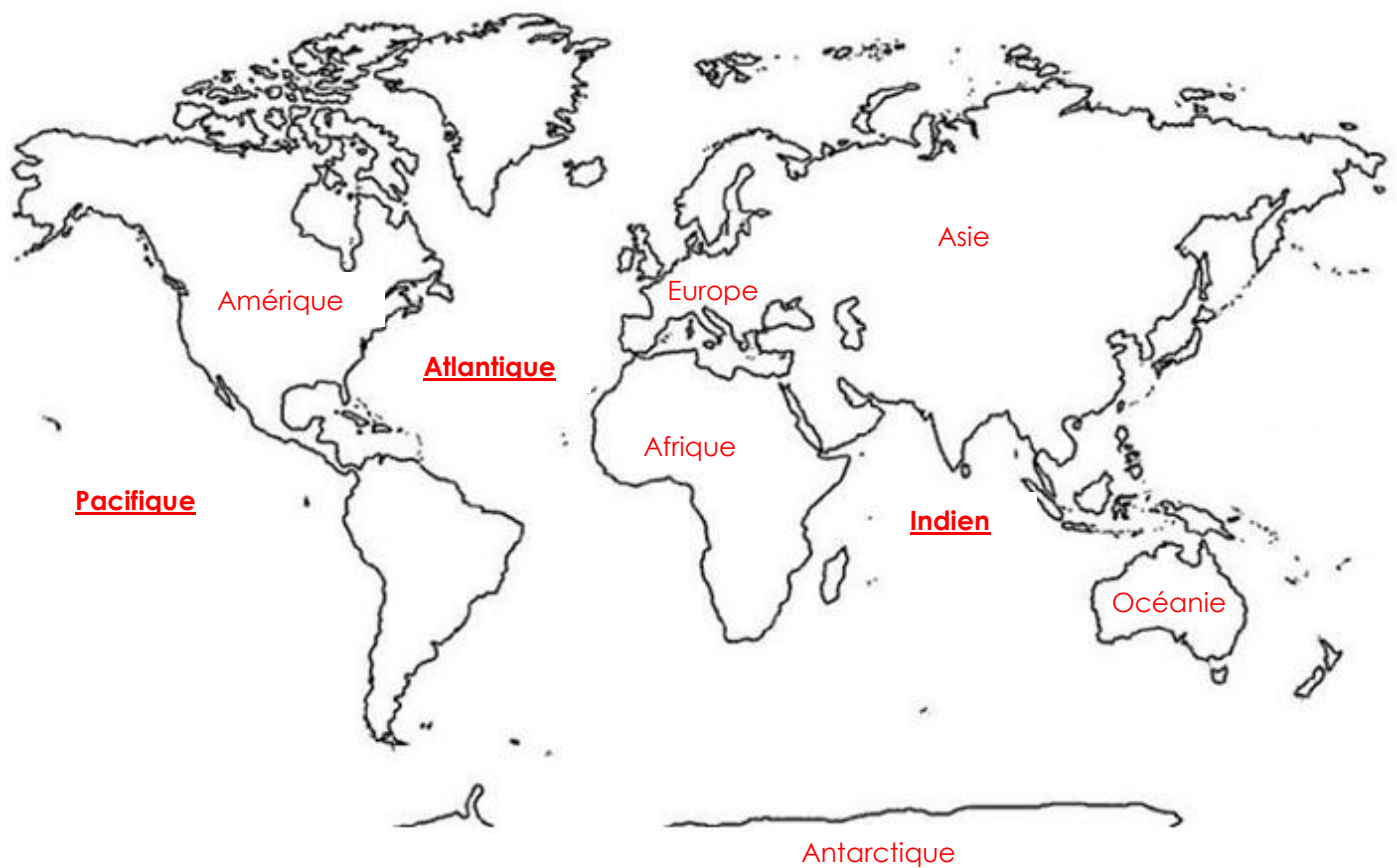
Projection sur L'arctique



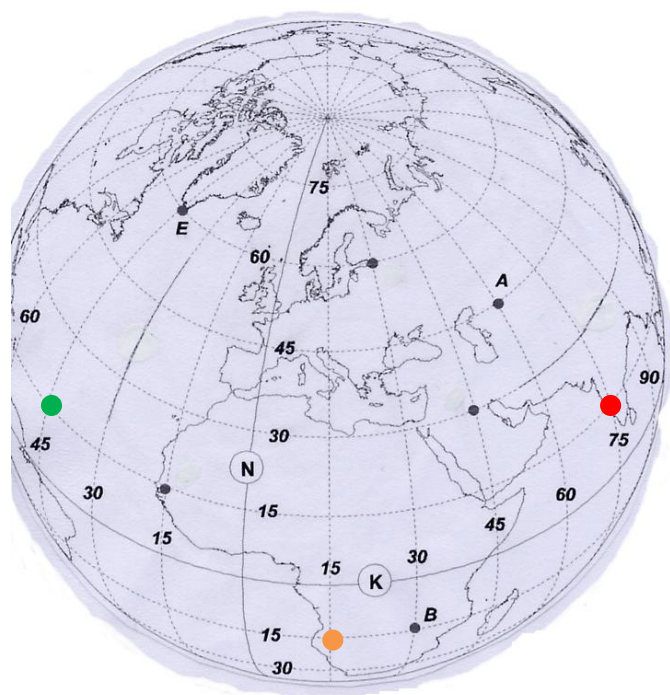
Projection sur L'Amérique

⑤ Indique sur la carte le nom des continents. (Suivant ce qui aura été arrêté en classe)

⑥ Indique sur la carte le nom des 3 principaux océans.



⑦ Complète :



- La ligne N représente : Le méridien de Greenwich

Elle sert de point de départ pour mesurer la : longitude

- La ligne K représente : l'équateur

Elle sert de point de départ pour mesurer la : latitude

- Place les points suivants :

H	15°N	75°E
M	15°N	45°W
R	15°S	15°E

- Indique les coordonnées des points suivants :

A	45°N	60°E
B	15°S	30°E
E	60°N	45°W