

Prénom: \_\_\_\_\_

Signature des parents

Mon programme:     

Bilan du plan de travail:

- Programme tenu
- Programme non tenu
- Programme dépassé

Commentaire: \_\_\_\_\_  
\_\_\_\_\_

## ORTHOGRAPHE



Trouve pour chaque nom, un verbe de la même famille:

attelage: \_\_\_\_\_ affirmation: \_\_\_\_\_

arrosoir: \_\_\_\_\_ accroc: \_\_\_\_\_

apprenti: \_\_\_\_\_ affiche: \_\_\_\_\_

accusation: \_\_\_\_\_ offrande: \_\_\_\_\_

## ORTHOGRAPHE



Les mots sont incomplets. Ecris-les en choisissant l'une des terminaisons suivantes:

-au

-eau

-o

-ot

Tu peux t'aider  
d'un  
dictionnaire.

un tuy..... - le noy..... - un haric..... - le châ..... - un râ..... - un p..... - la mété..... - l

a noix de coc..... - un morc..... - un cad..... - un paqueb.....

## ORTHOGRAPHE



Entoure l'intrus:

- le terreau – le bourreau – le rot – le rameau
- le boyau – le flot – le pot – le mot
- le tuyau – le fléau – un noyau – le couteau
- le bobo – la cacao – le dos – le dodo

## VOCABULAIRE



Trouve le mot générique pour chaque liste de mots:

- villa – ferme – chalet - mas: \_\_\_\_\_
- lustre – plafonnier – lampe de chevet - réverbère: \_\_\_\_\_
- buffet – table basse - commode: \_\_\_\_\_

## VOCABULAIRE



Complète ces phrases avec un nom générique:

- Les moineaux, les pigeons sont des \_\_\_\_\_.
- Les carpes, les sardines sont des \_\_\_\_\_.
- Les colliers, les bagues, les boucles d'oreilles sont des \_\_\_\_\_.

## VOCABULAIRE



Classe chaque liste de mots dans l'ordre alphabétique:

film – finir – file – fixe – fiole – fille - finesse: \_\_\_\_\_

octave – occuper – oiseau – obus – œuf: \_\_\_\_\_

## MESURE



Complète les égalités:

5 m = ..... cm      2 m = ..... mm      3 m = ..... dm      8 cm = ..... mm

2 000 m = ..... mm      600 cm = ..... dm      30 dm = ..... m      800 mm = ..... dm

## MESURE



Ecris les nombres dans la même unité, puis additionne-les::

9 m + 8 dm = ..... + ..... = .....      3 dm + 400 mm = ..... + ..... = .....

63 mm + 41 cm = ..... + ..... = .....      80 cm + 4 dm = ..... + ..... = .....

## NUMERATION



Range les nombres dans l'ordre croissant:

• 745 ; 823 ; 598 : \_\_\_\_\_

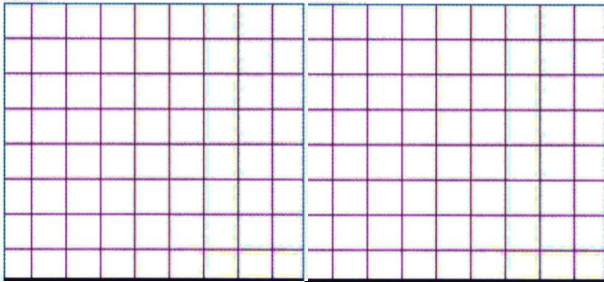
• 903 ; 799 ; 927 : \_\_\_\_\_

• 781 ; 754 ; 745 : \_\_\_\_\_

## PROBLEME



Mme Jeanne est fleuriste; elle reçoit pour la fête des mères 270 roses rouges. Combien de bouquets de 10 roses peut-elle préparer?




## CALCUL




Pose les opérations en colonnes, puis calcule-les:

$749 + 73$





$306 + 258$



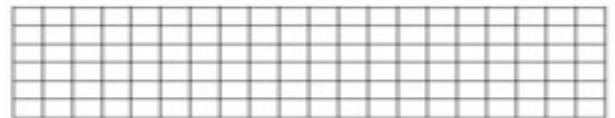

## GEOMETRIE



Reproduis cette frise



Reproduis cette frise



## LECTURE



Tu peux prendre un livre dans le carton.

## GEOMETRIE



Tu peux prendre le fichier de reproduction sur quadrillage et faire une photocopie.

## DETENTE



Tu peux prendre le fichier de mandalas et faire une photocopie.