

L'EURO

1) Combien en faut-il pour faire un euro ? Complète le tableau suivant :

	50 centimes	2
	20 centimes	
	10 centimes	
	5 centimes	
	1 centime	

2) Barre la pièce de cette liste qui n'existe pas.

2 € - 50 cents - 1€ - 20 cents - 10 cents - 30 cents

3) Combien y a-t-il dans chaque porte-monnaie ? Ecris la somme de 2 façons différentes.



.....€.....c

.....€






.....€.....c

.....€



.....€.....c

.....€

		
.....€.....c€.....c€.....c
.....€€€

4) Barre le billet de cette liste qui n'existe pas.

20 € - 50 € - 10 € - 100€ - 300€ - 500€ - 200€

5) Ecris les sommes suivantes.























.....

























.....



6) Combien manque-t-il pour arriver à l'euro supérieur ?

Complète.

7€ 5c + = 8€

7,99€ + = 8€

9€ 20 c + = 10€

9,05€ + = 10€

0€ 55 c + = 1€

11,01€ + = 12€

5€ 11c + = 6€


7,55€ + = 8€


7) Combien manque-t-il pour arriver à 10 euros.


7€ 30c + = 10€ 

5 € 55c + = 10€ 

2€ 60 c + = 10€ 

7,20€ + = 10€ 

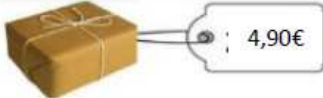

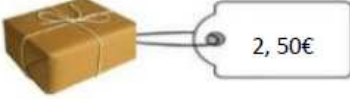

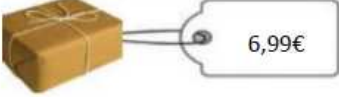

0€ 5 c + = 10€ 



















9,80€ + = 10€ 









8) Combien doit-on lui rendre ?



Regarde la vidéo !

		<input type="text"/>
		<input type="text"/>
		<input type="text"/>

	<input type="text" value="8,79 €"/>		<input type="text"/>	
	<input type="text" value="15,95€"/>		<input type="text"/>	
	<input type="text" value="9,10 €"/>		<input type="text"/>	
	<input type="text" value="9,01 €"/>		<input type="text"/>	
	<input type="text" value="445€"/>		<input type="text"/>	
	<input type="text" value="13.90€"/>		<input type="text"/>	

	<input type="text" value="29.90€"/>		<input type="text"/>	
	<input type="text" value="172€"/>		<input type="text"/>	
	<input type="text" value="59.70€"/>		<input type="text"/>	