

Prénom : _____

Date : / /

Evaluation Problèmes


Mars 2013

Je sais résoudre les problèmes additifs et soustractifs.


Note sur 10 : /10










Moyenne classe : /10

1- Chez le boulanger

Tu veux acheter les 3 gâteaux avec 20 euros. 

Quel est le prix total des 3 gâteaux ? As-tu assez d'argent ?




 2 euros 	 3 euros  	 8 euros   
--	--	--


Fais tes essais.

 **Écris** l'opération et  **calcule**.

..... =

 **Écris** la réponse.

Le prix total des 3 gâteaux est euros.

 **Coche** la bonne réponse.

J'ai assez d'argent avec 20 euros.

OUI

NON

2- Les billes de Lucas

Lucas a 18 billes.

À la récréation, il joue et il en perd 7.


Combien de billes lui reste-t-il ?



Fais tes essais.

123  **Écris** l'opération et 2-1  **calcule**.

$$\boxed{\text{.....}} - \boxed{\text{.....}} = \boxed{\text{.....}}$$

abc  **Écris** la réponse.

Il lui reste billes.