

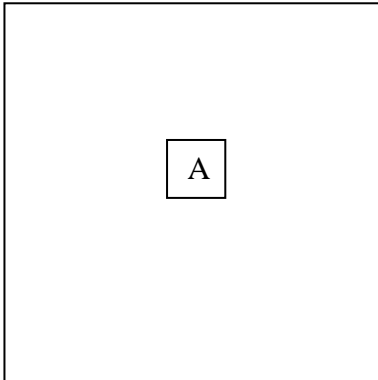
Prénom :

Date :

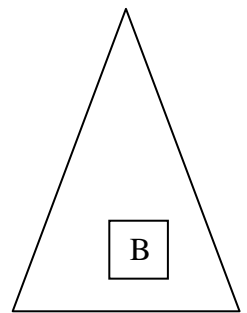
Evaluation de mesures: le périmètre

<u>Compétences évaluées</u>	Acquis	En voie d'acquisition	Non acquis
savoir calculer et tracer le périmètre d'un polygone			

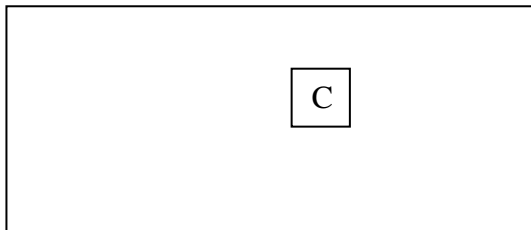
1) Calcule le périmètre de chaque polygone



Périmètre de A = _____

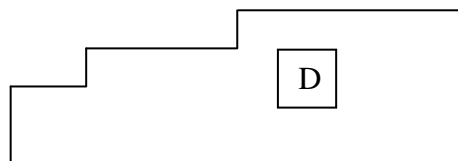


Périmètre de B = _____



Périmètre de C = _____

Périmètre de D = _____



2) Johnny veut tondre tout le tour de sa pelouse. Observe le dessin ci-dessous et calcule la distance qu'il va devoir parcourir avec sa tondeuse.

