

Prénom: _____

Signature des parents

Mon programme:     

Bilan du plan de travail:

- Programme tenu
- Programme non tenu
- Programme dépassé

Commentaire: _____

GRAMMAIRE



Complète avec un verbe de ton choix.

J'adoredu chocolat en le laissantdoucelement sur ma langue.

Trop n'est pas bon pour la santé.

Les feuillesde couleur etdepuis quelques semaines déjà.

Nicolas souvent.

LECTURE



Reconstruis les phrases en plaçant les mots dans l'ordre.

quitte – fusée – La – sol. – le

aime – sport? – le – Qui

élèves – absents. – Quatre – sont

le – Qui – gagner – pari? – va

camionnette. – Le – répare – la – garagiste

trapézistes – numéro. – Les – répètent - leur

Feuilles. – couvrent – Les – de – arbres – se

s'ouvrent – un – Les – à – parachutes – un.

VOCABULAIRE



Pour chaque famille de mots, trouve la partie commune. Écris-la.

- mur – emmurer – muraille – mural – muret:
- légèreté – légèrement – alléger – léger:
- emplacement – placer – place – déplacer – remplacer:
- régulier – régulièrement – régularité – irrégularité:
- déchausser – chausse – chausson – chaussure:

GRAMMAIRE



Transforme les phrases en mettant le sujet au pluriel:

J'ai un chien.

Tu es mon amie.

Ma petite sœur est au cirque.

Il est triste.

Mon frère a une nouvelle voiture.

CALCUL



Calcule les différences:

$$97 - 66 = \dots\dots\dots \quad 500 - 371 = \dots\dots\dots \quad 228 - 115 = \dots\dots\dots \quad 550 - 245 = \dots\dots\dots$$

$$430 - 214 = \dots\dots\dots \quad 136 - 83 = \dots\dots\dots$$

LOGIQUE



Retrouve le moyen de locomotion utilisé par les personnes.

Le cousin de Marion fait du vélo.

La sœur de Rémi n'aime pas marcher.

La personne qui fait de la voiture a son prénom qui commence par un A.

Le frère d'Audrey fait de la moto.

Alain n'est pas le cousin de Marion.

	En voiture	À vélo	À moto	À pied
Marion				
Audrey				
Rémi				
Alain				

Marion se déplace _____, Audrey _____,

Rémi _____ et Alain _____.

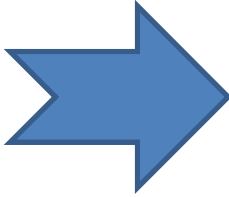
NUMERATION




Observe les polygones et remplis le tableau.



A



B



C

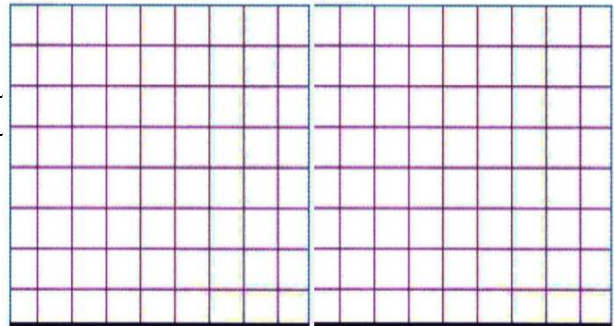
	A	B	C
Nb de côtés			
Nb de sommets			

CALCUL



Louis Pasteur est né en 1 822; il a découvert le vaccin contre la rage en 1 885.

Quel âge avait-il à ce moment-là?



FRANCAIS



Fais la fiche de Topscore ... de VOCABULAIRE et inscris ton score sur ta fiche de suivi..

MATHEMATIQUES



Fais la fiche de Topscore ... GEOMETRIE et inscris ton score sur ta fiche de suivi..

GEOMETRIE



Tu peux faire une reproduction sur quadrillage.

LECTURE



Tu peux prendre un livre dans le carton.