

Leçon 5 – Les reliefs de France

A/ Qu'est-ce que le relief ?

Le relief est l'ensemble des irrégularités du sol qui se mesurent par rapport au niveau de la mer.

Le relief des continents comporte : les **plaines**, les **plateaux** et les **chaînes de montagnes**.

Le relief dépend de la nature des roches, des failles et de l'érosion (dégradation par l'eau, le vent ou le gel).

1- Légende les illustrations suivantes avec les noms de chaque type de relief.



.....

.....

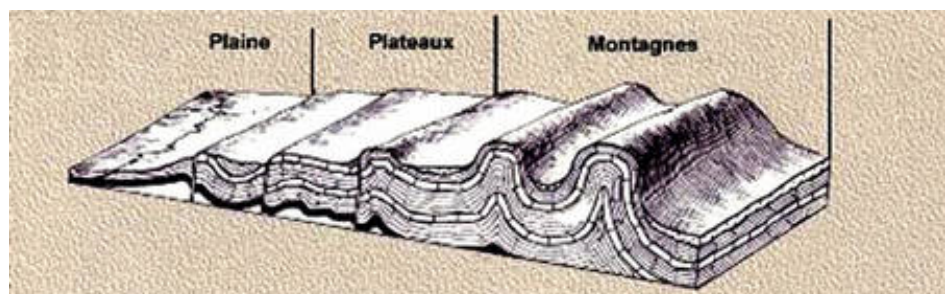



Les **plaines** sont des étendues planes de faible altitude et dont les cours d'eau coulent dans des vallées peu encaissées. Les plaines sont en général de grandes régions agricoles.

Les **plateaux** sont des étendues planes d'altitude plus élevée que la plaine où les rivières creusent de profondes vallées.

Les **montagnes** présentent des reliefs de grande altitude et des pentes escarpées.

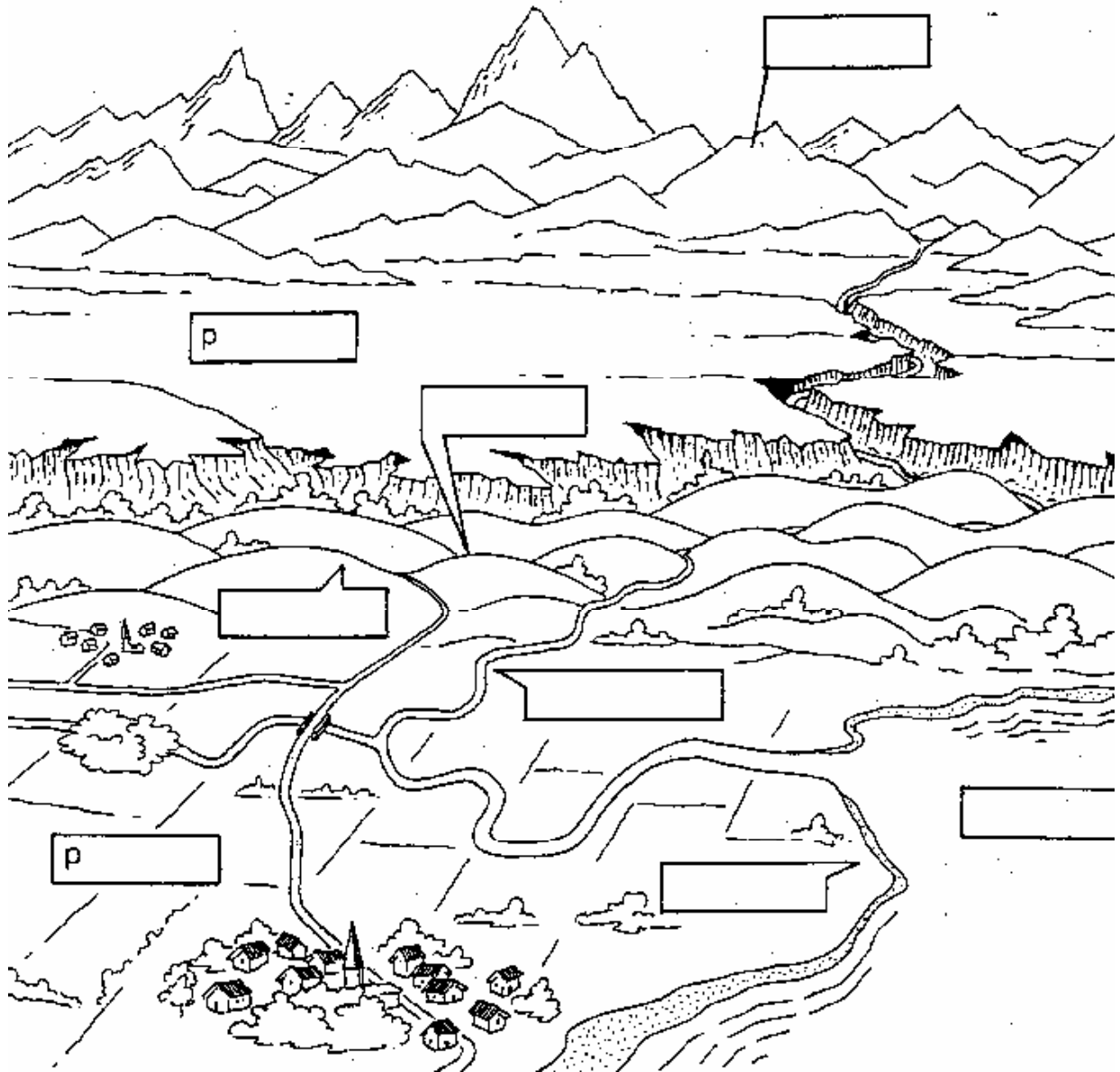
.....





Leçon 5 – Les reliefs de France

2- Complète le dessin avec les mots soulignés



Les plateaux et les plaines sont des pays relativement plats.

Dans la plaine, les cours d'eau ne s'enfoncent pas profondément.


Le plateau est plus élevé que la plaine et où les rivières creusent de profondes vallées.

Les collines sont constituées de bosses de terrain arrondi.

Le creux qui sépare deux collines est un vallon.

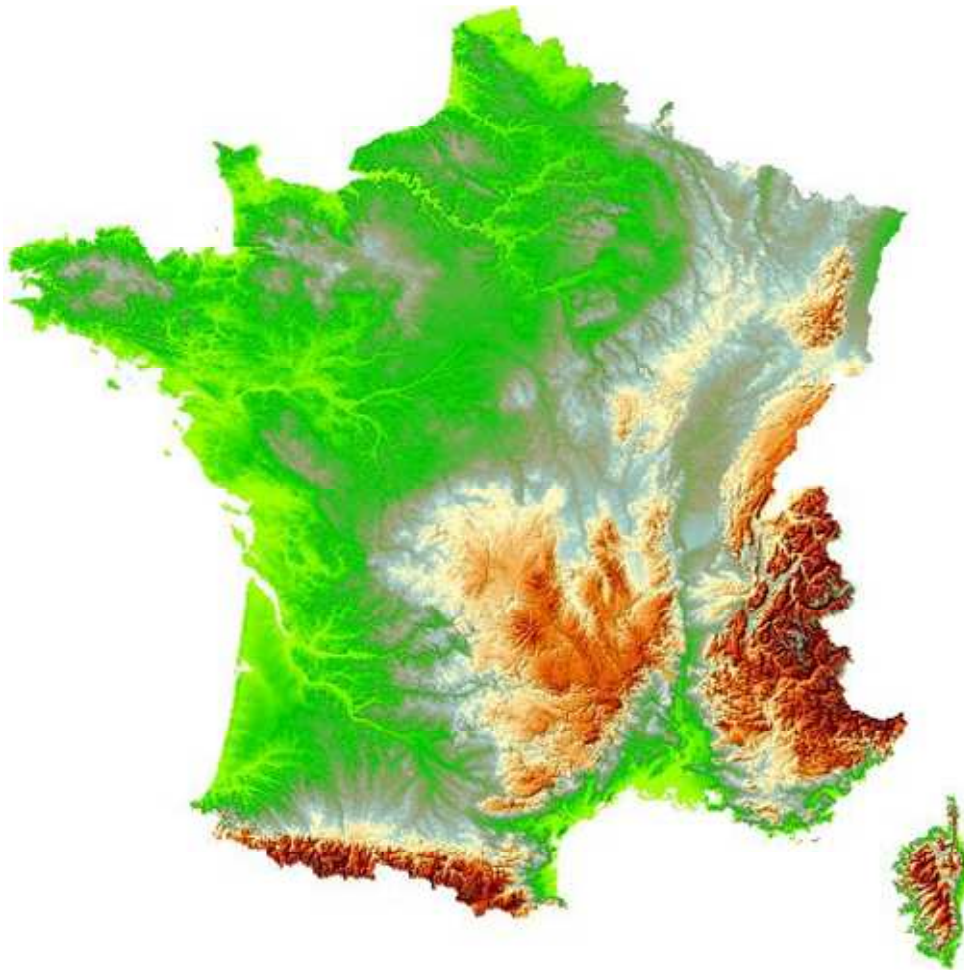
Les montagnes sont des énormes amas de terre et de rochers aux formes variées et avec des sommets pointus.

La bande de terre le long de laquelle la terre entre en contact avec la mer s'appelle le littoral (ou la côte).

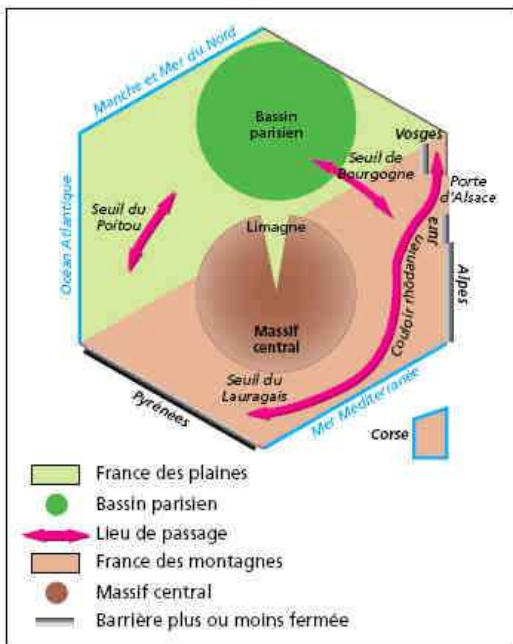


Leçon 5 – Les reliefs de France

B/ La place des reliefs en France




France métropolitaine vue depuis un satellite



1- Repère et localise sur la photo satellite chaque élément écrit sur le schéma ci-contre puis réponds aux questions :

- Par quelle figure géométrique a-t-on schématisé la France ?
.....
- Est-il facile de se rendre en Espagne, en Italie ou en Suisse ? Pourquoi ?
.....
.....
.....
- Quel mot de la légende décrit chaque massif montagneux qui nous sépare des pays voisins de la France ?
.....

- Entre quelles montagnes passerais-tu pour te rendre en Allemagne ? Comment s'appelle ce passage ?
.....
.....



Leçon 5 – Les reliefs de France

- Par quels endroits particuliers dois-tu passer en quittant le bassin Parisien pour te rendre facilement dans le Sud ? Pourquoi la Bourgogne et le Poitou sont-elles ainsi qualifiées?

.....

- Pour te rendre sur le littoral méditerranéen, entre quelles montagnes vas-tu passer ? Comment se nomme ce passage ?

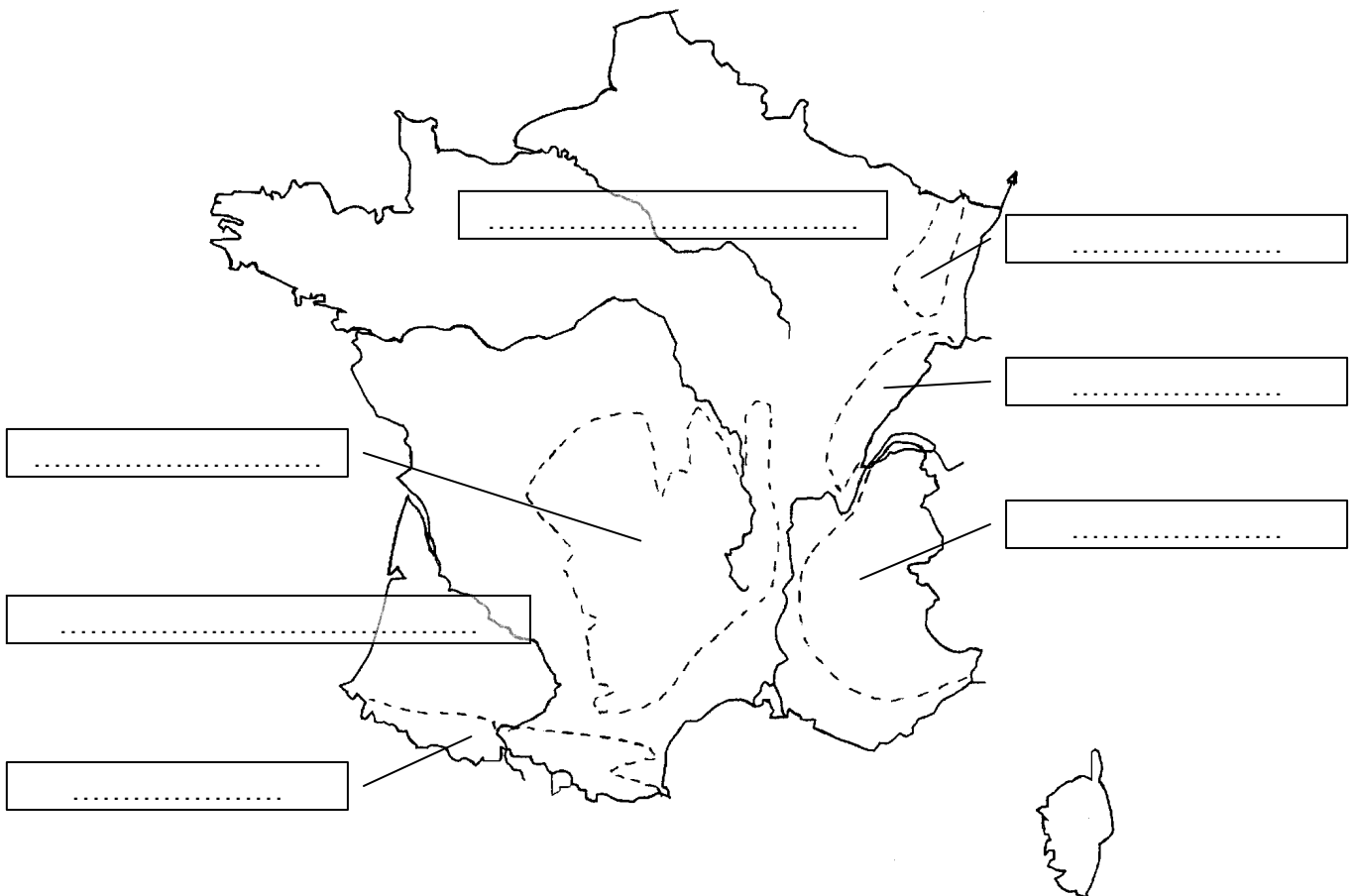
.....


2- Si tu traces une ligne entre le sud-ouest et le nord-est de la France, la place des reliefs apparaît :

- Au nord et à l'ouest, l'altitude est, les obstacles sont rares et les communications C'est la France des et des
- Au Sud, à l'Est et en Corse, l'altitude est, les obstacles sont nombreux. Les grandes voies de communication sont C'est la France des

C/ Les noms des reliefs de France

Colorie puis nomme les reliefs de montagnes et de plaines.





Leçon 5 – Les reliefs de France

Je retiens...



Le relief est composé de trois grands types :

- Les
- Les
- Les

Au nord et à l'ouest, la France a un relief peu marqué, composé de et de Ce sont le bassin et le bassin

Au sud et à l'est, la France a un relief très marqué, composé de cinq massifs de

- Les (point culminant :))
- Les (point culminant :))
- Les (point culminant :))
- Le (point culminant :))
- Le (point culminant :))