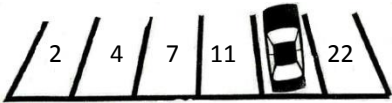
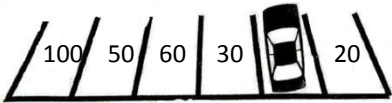
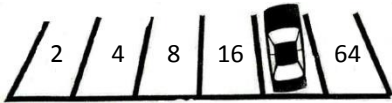
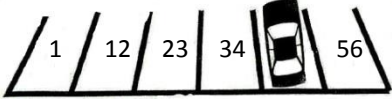
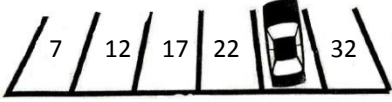
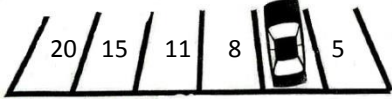




1	Je suis plus petit que 100. Mon chiffre des dizaines est le double de celui des unités. La somme de mes chiffres fait 6.	2	Je suis plus petit que 100. Je suis un nombre pair. La somme de mes chiffres fait 8. (1).....	3	Je suis plus petit que 100. Je suis un nombre pair. La somme de mes chiffres fait 8. (2).....
4	Je suis plus petit que 100. Je suis un nombre pair. La somme de mes chiffres fait 8. (3).....	5	Je suis plus petit que 100. Je suis un nombre pair. La somme de mes chiffres fait 8. (4).....	6	Je suis plus petit que 100. Je suis un nombre pair. La somme de mes chiffres fait 8. (5).....
7	3 amis se partagent 100 bonbons. L'un en prend la moitié, l'autre en prend 32. Combien en prend le 3ème ? _____	8	J'achète pour 24 euros de bonbons. Je paye avec un billet de 100 euros. Combien va me rendre la caissière ? _____	9	J'ai 100 bonbons. Je les pose dans des cases qui se suivent. Dans la 1 ^{ère} , j'en mets 1, dans la 2 ^{ème} j'en mets 2, dans la 3 ^{ème} j'en mets 3... Quelle est la dernière case que je vais pouvoir remplir complètement ? _____
10	Je veux 100 bonbons, ils sont vendus par paquet de 20. Combien dois-je acheter de paquets ? -----	11	J'ai 100 bonbons car ma tante vient de m'en donner 25. Combien en avais-je avant ? -----	12	J'ai 100 bonbons car je viens d'en donner 18 à la récréation. Combien en avais-je avant d'en donner ? -----
13	Faire 100 euros : (1)	14	Faire 100 euros : (2)	15	Faire 100 euros : (3)
16	Faire 100 euros : (4)	17	Faire 100 euros : (5)	18	Faire 100 euros : (6)




19	Je suis la moitié de 100. -----	20	Je suis la moitié de la moitié de 100. -----	21	Je suis le double de 100. -----
22	Quand mon frère est né j'avais 4 ans. Il a maintenant 8 ans. Quel est mon âge ? -----	23	Ma grand-mère a eu ma mère à 24 ans. Ma mère m'a eu à 28 ans. Quel âge a ma grand-mère le jour de mes 10 ans ? -----	24	Mon père et ma mère ont 50 ans à eux deux. Ma mère a 4 ans de plus que mon père. Quel âge a mon père ? -----
25	Le 29 décembre était un jeudi. Quel jour était le jeudi suivant ? -----	26	Je suis en vacances 10 jours. Elles commencent le 25 juillet au matin. A quelle date seront-elles finies ? -----	27	Si je regarde devant moi, 2 personnes attendent. Derrière moi, il y a des triplés. Combien sommes-nous dans la file ? -----
28	Chez mon oncle, il y a 2 cochons, 3 poules et 4 canards. Combien y a-t-il de pattes en tout ? -----	29	Chez mon oncle, il y a des cochons et des poules. On peut voir en tout 8 têtes et 22 pattes. Combien y a-t-il de cochons ? -----	30	Chez mon oncle, il y a 5 poules. Elles pondent un œuf par jour. Combien mon oncle a-t-il ramassé d'œufs à la fin de la semaine ? -----
31	Sur quelle place est garée la voiture ?  -----	32	Sur quelle place est garée la voiture ?  -----	33	Sur quelle place est garée la voiture ?  -----
34	Sur quelle place est garée la voiture ?  -----	35	Sur quelle place est garée la voiture ?  -----	36	Sur quelle place est garée la voiture ?  -----
37	3 chats mangent 5 souris chacun. Il reste encore 2 souris. Combien y avait-il de souris en tout ? -----	38	Mon père a 4 fois mon âge. Il a 48 ans. Quel est mon âge ? -----	39	Un homme a 5 filles. Chacune de ses filles a 1 frère. Combien l'homme a-t-il d'enfants ? -----



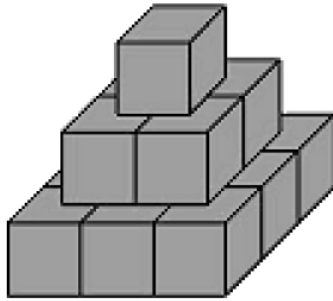
Combien y a-t-il de cubes ?

40



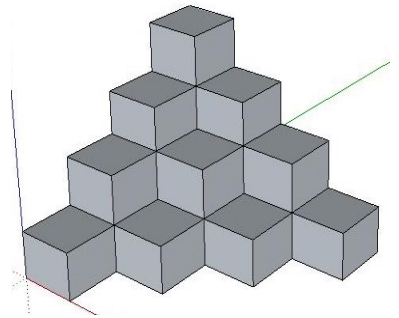
Combien y a-t-il de cubes ?

41




Combien y a-t-il de cubes ?

42



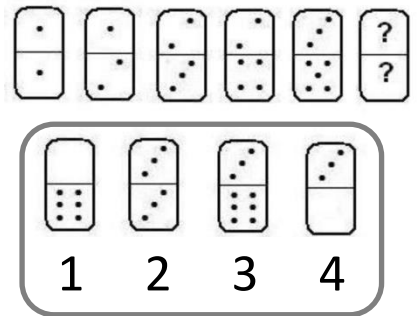
4	4	?
2	3	6
8	12	12

43



44

Quel domino complète la série ?



45

Dans mon sac, j'ai 10 billes de 3 couleurs différentes. 4 sont rouges. Il y a autant de jaunes que de vertes. Combien ai-je de billes jaunes ?

46

Dans mon sac, j'ai 15 billes de 4 couleurs différentes. 5 sont rouges. Il y a autant de jaunes que de vertes. J'ai deux fois plus de billes jaunes que bleues ? Combien ai-je de billes jaunes ?

47

Dans mon sac, j'ai 20 billes de 3 couleurs différentes. 5 sont rouges. Si je mets ensemble les rouges et les vertes, j'en ai 9. Combien ai-je de billes jaunes ?

48

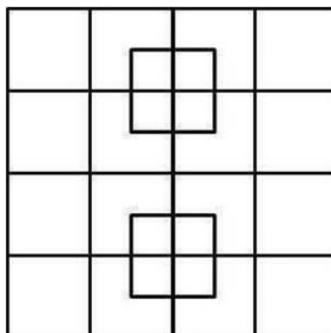
Combien d'animaux ?

49



Combien de carrés ?

50



Les défis du **100!** ème



jour d'école !



1	42	2	80 - 62 - 44 - 26 - 8	3	80 - 62 - 44 - 26 - 8
4	80 - 62 - 44 - 26 - 8	5	80 - 62 - 44 - 26 - 8	6	80 - 62 - 44 - 26 - 8
7	18	8	76	9	13
10	5	11	75	12	118
13	Représentation 100 euros	14	Représentation 100 euros	15	Représentation 100 euros
16	Représentation 100 euros	17	Représentation 100 euros	18	Représentation 100 euros

19	50	20	25	21	200
22	12	23	62	24	23
25	05 (janvier)	26	03 (août)	27	6
28	22	29	3	30	35
31	16	32	40	33	32
34	45	35	27	36	6
37	17	38	12	39	6

40	38	41	14	42	20
43	2	44	27	45	3
46	3	47	4	48	11
49	6	50	40		