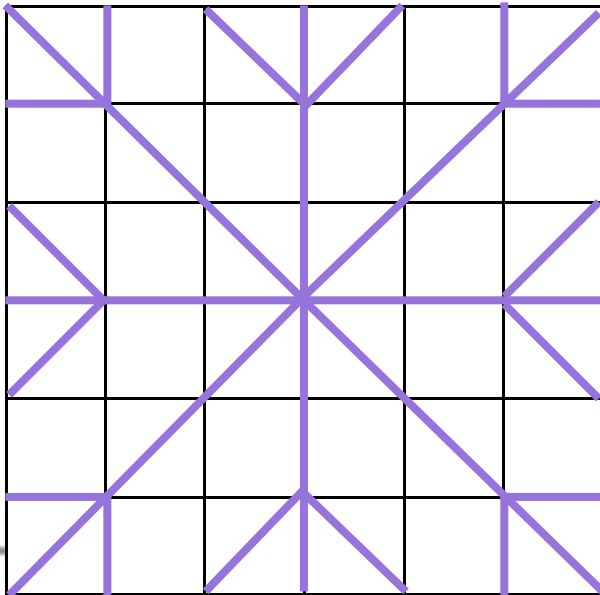


Défi

1


Reproduisez la même chose :



Défi

2

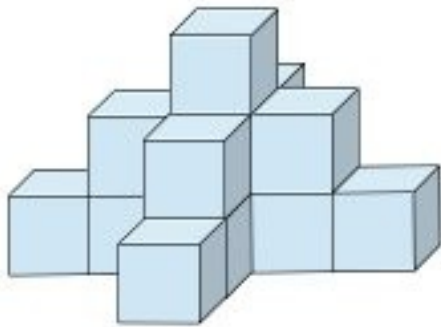
Coloriez tous les triangles :



Défi

3

Combien faut-il de cubes pour réaliser cette figure ?



Défi


4



La maîtresse a 15 gâteaux et elle veut les partager entre Jade et Tibo.



Combien de gâteaux chacun aura-t-il ?



Défi

5

Qui a les plus longs skis ?



JADE



TIBO




TOMA



Défi

6

Continuez la suite...



Défi

7

Ecris les codes de chaque personnage comme dans l'exemple des gants.



C;5

6						
5						
4						
3						
2						
1						
	A	B	C	D	E	F

Défi

10

Toma veut faire une bataille de boules de neige, il veut en lancer 4 sur ses 3 camarades. Combien de boules doit-il préparer ?



Défi

8

Dans la neige, Malia retrouve 8 paires de gants.

Combien de gants Malia a-t-elle trouvé ?



Défi

11

Pour partir en classe de neige, Tibo prend son argent de poche.

Combien va-t-il emmener ?



Défi

9

Un peu de calcul...

Ecrivez les résultats des opérations suivantes :

$10 + 15$	$39 - 3$
$30 - 4$	$34 + 5$
$10 + 27$	$20 + 9 + 2$
$13 + 27$	$10 + 10$
$16 - 4$	$20 - 4$
$10 + 5 + 7$	$10 + 20 + 4$

Défi

12

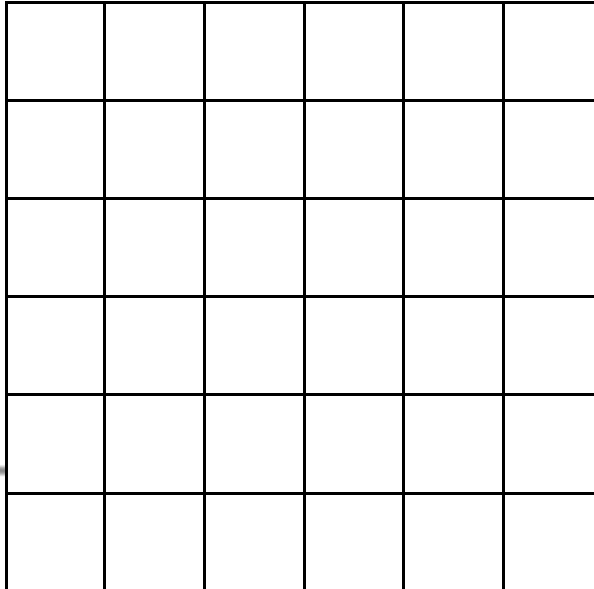
Hier, nous étions lundi, quel jour serons-nous demain ? Quel jour étions-nous avant-hier ?






Défi

①



Défi

②



Défi

③

Il faut \_\_\_\_\_ cubes pour réaliser cette figure.



Défi

④

Ils en auront \_\_\_\_\_ chacun.



Défi

⑤

C'est \_\_\_\_\_ qui a les plus longs skis.



malia



Défi 6

18

Défi 7

C,5					



Défi 8

Malia a trouvé \_\_\_\_\_ gants.



Défi 9

Réponses aux calculs :




Défi 10

Toma doit préparer boules de neige.



Défi 11

Tibo va emmener  €.



Défi 12

Demain Nous serons \_\_\_\_\_ .  
 Avant-hier nous étions \_\_\_\_\_ .



VALIDÉES

TOTAL :