

# Les quadrilatères

1. Donne la définition d'un quadrilatère

.....

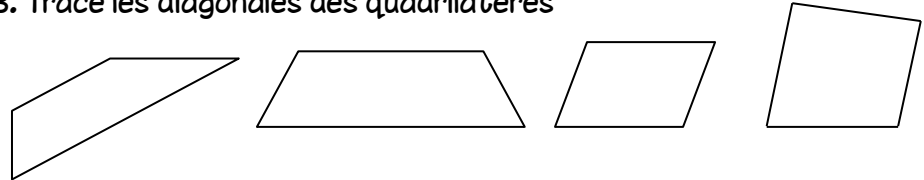
.....

2. Complète le tableau

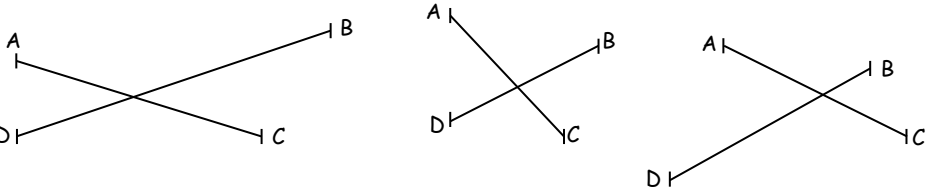


	Quadrilatère	Pourquoi?
A		
B		
C		
D		
E		

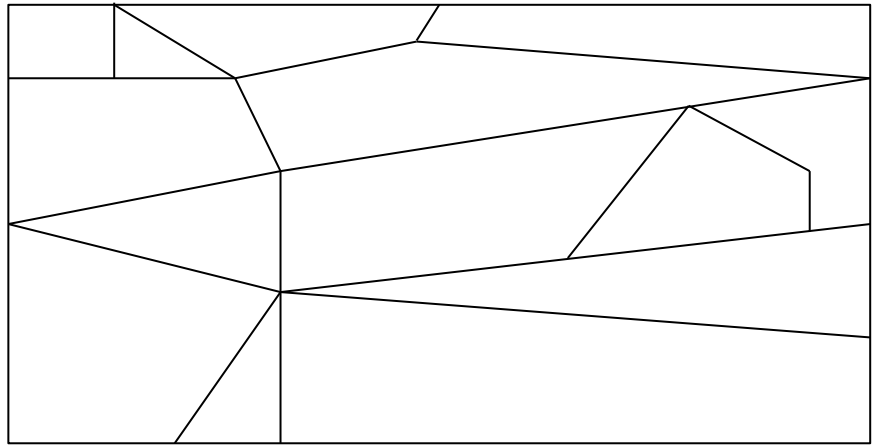
3. Trace les diagonales des quadrilatères



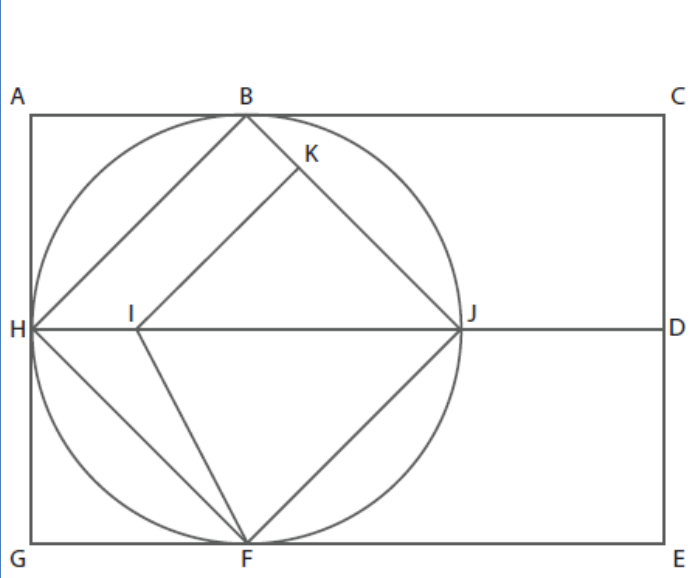
4. Trace les quadrilatères à partir des diagonales données



5. Dans la figure suivante, colorie en jaune les quadrilatères



6. Nomme les 13 quadrilatères dans la figure suivante:



1	
2	
3	
4	
5	
6	
7	
8	
9	
10	
11	
12	
13	

# Les quadrilatères

1. Donne la définition d'un quadrilatère

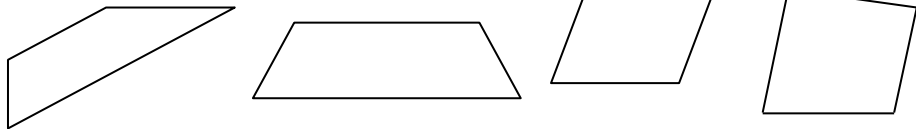
.....  
 .....

2. Complète le tableau

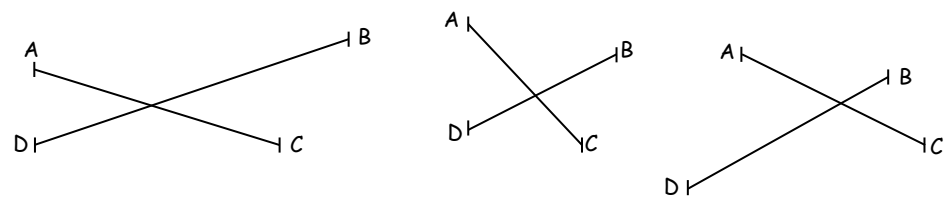


	Quadrilatère	Pourquoi?
A		
B		
C		
D		
E		

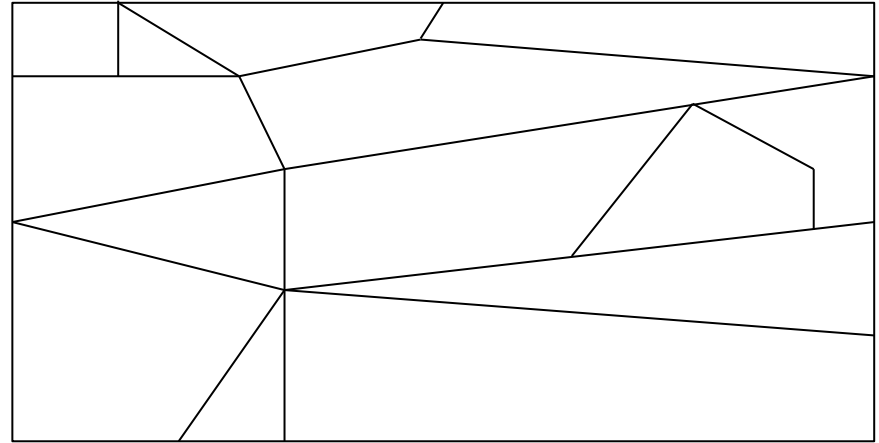
3. Trace les diagonales des quadrilatères



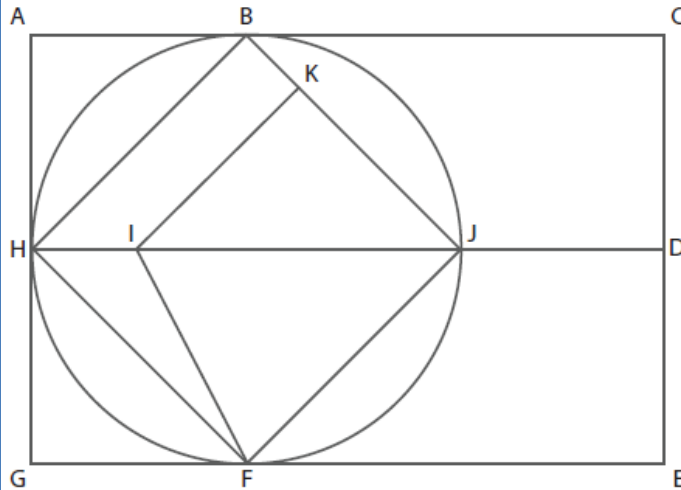
4. Trace les quadrilatères à partir des diagonales données



5. Dans la figure suivante, colorie en jaune les quadrilatères



6. Nomme les 13 quadrilatères dans la figure suivante:



1	
2	
3	
4	
5	
6	
7	
8	
9	
10	
11	
12	
13	