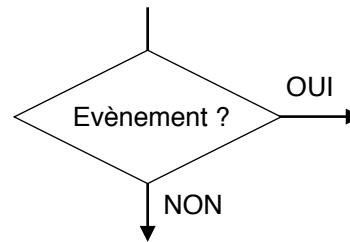
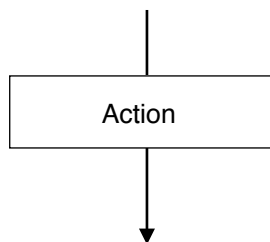
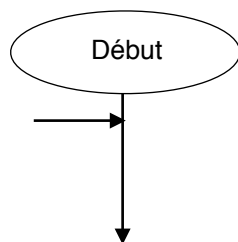


Niveau 6

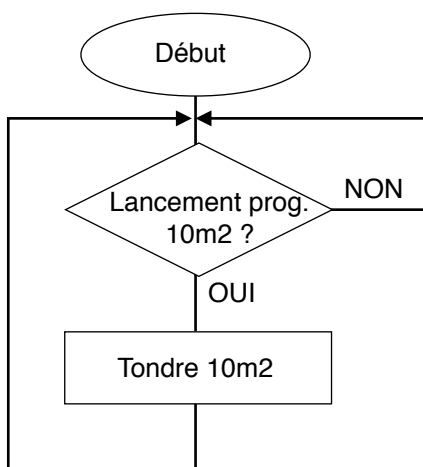
ALGORITHME

A TOI DE RÉALISER LES ALGORITHMES PERMETTANT
LES FONCTIONNEMENTS SUIVANTS



Nous souhaitons utiliser un robot tondeuse en mode automatique.
La notice indique que 1 cycle de programmation permet de tondre 10m^2 . Modifie l'algorithme afin de pouvoir tondre 30m^2 .
C'est à dire 3 fois 10m^2 .

Ce fonctionnement n'est absolument pas représentatif de la réalité ! Mais idéal pour comprendre les notions de variable.



| Evènements | Actions |
|-------------------------|-------------------------|
| Variable compteur = 3 ? | Compteur = Compteur + 1 |
| | Compteur = 0 |