

### Complète

$$\boxed{80} = \boxed{10} + \boxed{30} + \dots\dots\dots$$






$$\boxed{90} = \boxed{30} + \boxed{40} + \dots\dots\dots$$






$$\boxed{80} = \boxed{20} + \dots\dots\dots + \boxed{30}$$






$$\boxed{70} = \boxed{10} + \dots\dots\dots + \boxed{10} + \boxed{20}$$






$$\boxed{60} = \boxed{30} + \dots\dots\dots + \boxed{20}$$

**Entoure** les billets qu'il faut pour réaliser la somme d'argent indiquée.

	
	
	
$\boxed{60} \text{ €}$	

	
	
	
$\boxed{80} \text{ €}$	

	
	
	
$\boxed{30} \text{ €}$	

	
	
	
$\boxed{90} \text{ €}$	

Sur une boîte de craies, Arthur lit : « 18 craies ». Il ouvre la boîte et il compte les craies. Il n'y a plus que 10 craies dans la boîte.

**Ecris** combien de craies ont déjà été utilisées.

..... craies ont déjà été utilisées.



**Colorie** les cartes que chacun doit choisir pour atteindre la cible.



$\boxed{4}$

$\boxed{2}$

$\boxed{8}$

$\boxed{1}$

$\boxed{2}$



$\boxed{9}$

$\boxed{4}$

$\boxed{7}$

$\boxed{1}$

$\boxed{3}$



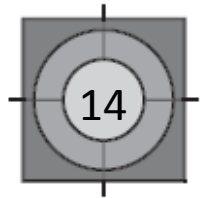
$\boxed{5}$

$\boxed{4}$

$\boxed{3}$

$\boxed{4}$

$\boxed{6}$



Ecris les nombres dans les cases grises.

0	1	2		4	5	6		8	9
				14	15	16	17	18	19
				24					
				34					
				44					
50	51	52	53	54					
				74			77		79
80				84	85				89
		92		94	95	96	97		99

**Complète**

$$\boxed{70} = \boxed{10} + \boxed{40} + \dots\dots$$

$$\boxed{60} = \boxed{20} + \boxed{20} + \dots\dots$$

$$\boxed{80} = \boxed{20} + \boxed{30} + \dots\dots$$

$$\boxed{90} = \boxed{30} + \boxed{10} + \dots\dots$$

Ecris les nombres à leur place dans le tableau.

$\boxed{37}$     $\boxed{76}$     $\boxed{15}$     $\boxed{83}$     $\boxed{68}$

$\boxed{7}$     $\boxed{49}$     $\boxed{55}$     $\boxed{70}$     $\boxed{97}$

									9
	11						17		
			23						
									39
40					45				
	61								
				74					
						86			
		92							