

# Jeux de logique

## SUDOKU\*\*



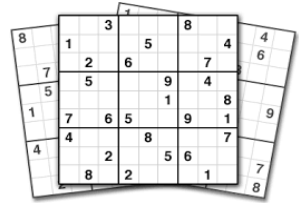
Complète les cases vides avec des chiffres de 1 à 6.



6	5		1		4
	4	1	5		6
4	3	6		1	5
1	2		6	4	3
5		3	4	6	
2		4		5	1

D'après Helene Mam des Moulins - Illustration E. Thuillier

VALidées



# Jeux de logique

## SUDOKU\*\*



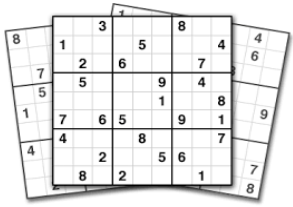
Complète les cases vides avec des chiffres de 1 à 6.



3	2		6		5
6	5	1	3		2
5	3	6			4
4			5	6	3
2		3	4	5	1
1		5		3	6

D'après Helene Mam des Moulins - Illustration E. Thuillier

VALidées



# Jeux de logique

## SUDOKU\*\*



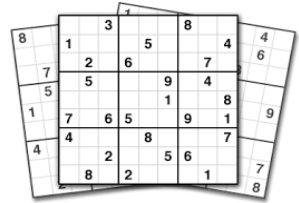
Complète les cases vides avec des chiffres de 1 à 6.



1		3		2	4
4	6	1	2		5
2	3		5		1
3		2		5	6
5		6	3	4	2
6	2		4		3

D'après Helene Mam des Moulins - Illustration E. Thuillier

VALidées



# Jeux de logique

## SUDOKU\*\*



Complète les cases vides avec des chiffres de 1 à 6.

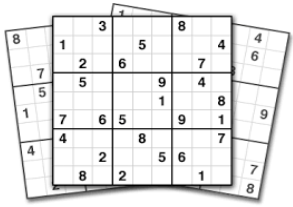


6		4	2	3	1
4		6	3	5	2
3	2				4
2				4	5
5	6	2	4		3
1	4	3	5		6

D'après Helene Mam des Moulins - Illustration E. Thuillier

VALidées





# Jeux de logique

## SUDOKU\*\*



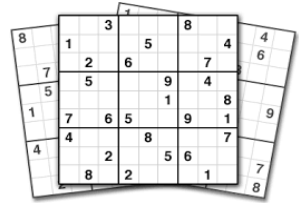
Complète les cases vides avec des chiffres de 1 à 6.



1	6	3		5	
2		5	6		3
	1	2		4	
	5		1	3	
6		1	4		5
	2		3	6	1

D'après Helene Mam des Moulins - Illustration E. Thuillier

VAL'Idées



# Jeux de logique

## SUDOKU\*\*



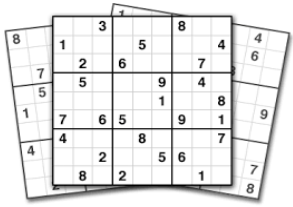
Complète les cases vides avec des chiffres de 1 à 6.



	6		3	1	5
1		5		6	4
	1		4		3
3		4		2	
6	2		5		1
5	4	1		3	

D'après Helene Mam des Moulins - Illustration E. Thuillier

VAL'Idées



# Jeux de logique

## SUDOKU\*\*



Complète les cases vides avec des chiffres de 1 à 6.

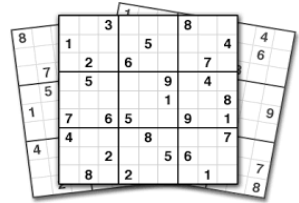


4	3			1	2
1	5	4			
	6	3	1	4	
	2	1	6	5	
			3	2	1
5	1			3	6



D'après Helene Mam des Moulins - Illustration E. Thuillier

VALidées



# Jeux de logique

## SUDOKU\*\*



Complète les cases vides avec des chiffres de 1 à 6.



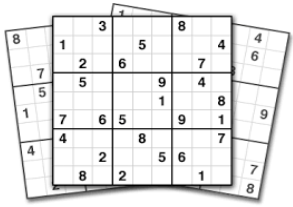
	4	3			5
	3	4		1	
1	6	2	5		4
4		6	2	5	3
	2		3	4	
3			4	2	



D'après Helene Mam des Moulins - Illustration E. Thuillier

VALidées





# Jeux de logique

## SUDOKU\*\*



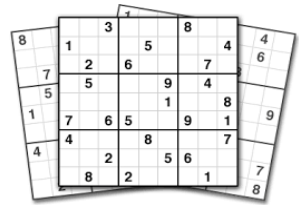
Complète les cases vides avec des chiffres de 1 à 6.



5			2	4	
		2		1	5
6			3	2	
	3	4			6
4	2		5		
	5	3			2

D'après Helene Mam des Moulins - Illustration E. Thuillier

VALidées



# Jeux de logique

## SUDOKU\*\*



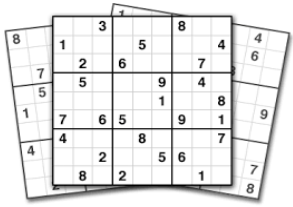
Complète les cases vides avec des chiffres de 1 à 6.



		2		1	3
1	5		2		6
	1				2
5				3	
2		1		6	5
4	6		3		

D'après Helene Mam des Moulins - Illustration E. Thuillier

VALidées



# Jeux de logique

## SUDOKU\*\*

11

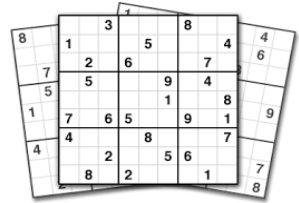
Complète les cases vides avec des chiffres de 1 à 6.



6	3		5		
1					6
5			4		3
4	6	3			5
2		5			1
		6		5	4

D'après Helene Mam des Moulins - Illustration E. Thuillier

VALidées



# Jeux de logique

## SUDOKU\*\*

12

Complète les cases vides avec des chiffres de 1 à 6.

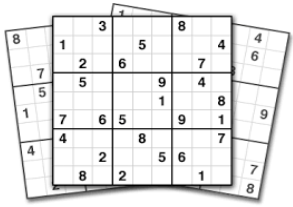


		6	3	4	
3		5			
					2
4			5		6
		4			
	2	3	1	5	

D'après Helene Mam des Moulins - Illustration E. Thuillier

VALidées





# Jeux de logique

## SUDOKU\*\*

13

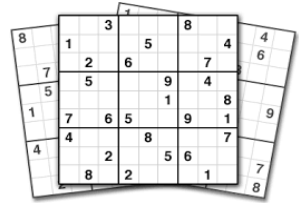
Complète les cases vides avec des chiffres de 1 à 6.



1	6				5
		5	2		
5				3	
	4				1
		4	1		
3				5	4

D'après Helène Mam des Moulins - Illustration E. Thuillier

VALidées



# Jeux de logique

## SUDOKU\*\*

14

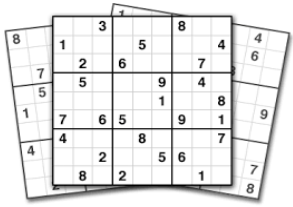
Complète les cases vides avec des chiffres de 1 à 6.



	3	1			
					3
					1
6			4		
1	2				5
		3		2	4

D'après Helène Mam des Moulins - Illustration E. Thuillier

VALidées



# Jeux de logique

## SUDOKU\*\*

15

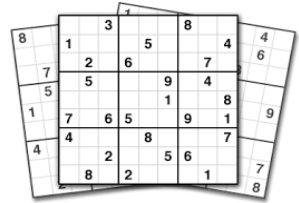
Complète les cases vides avec des chiffres de 1 à 6.



4		1			
6			2	1	
	3			4	
			1		
					2

D'après Helene Mam des Moulins - Illustration E. Thuillier

VALidées



# Jeux de logique

## SUDOKU\*\*

16

Complète les cases vides avec des chiffres de 1 à 6.

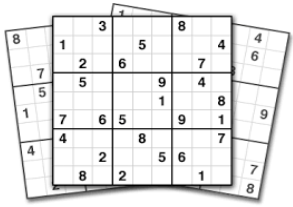


3		1			2
	4		3		
	3			5	
		4		1	

D'après Helene Mam des Moulins - Illustration E. Thuillier

VALidées





# Jeux de logique

## SUDOKU\*\*

17

Complète les cases vides avec des chiffres de 1 à 6.

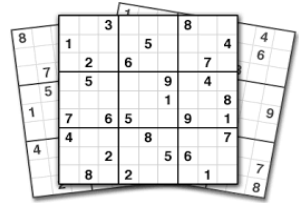


			4	1	
					2
6		3			
		1			3
	1			2	
	2	6			



VALidées

D'après Helene Mam des Moulins - Illustration E. Thuillier



# Jeux de logique

## SUDOKU\*\*

18

Complète les cases vides avec des chiffres de 1 à 6.



	4	5			3
		2			
		3	4		
	2		5	3	
3		4			
				4	



VALidées

D'après Helene Mam des Moulins - Illustration E. Thuillier