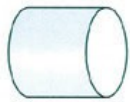


Reconnaître et nommer les solides


Voici les noms de ces solides :



Cylindre



Cube



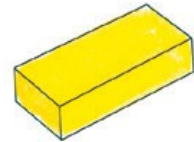
Pyramide



Boule

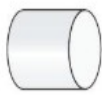


Cône



Pavé

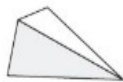
1 Les polyèdres sont des solides qui ne possèdent que des faces planes.
Parmi ces solides, **colorie** les polyèdres.



Cylindre



Cube



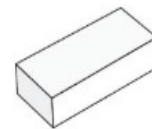
Pyramide



Boule

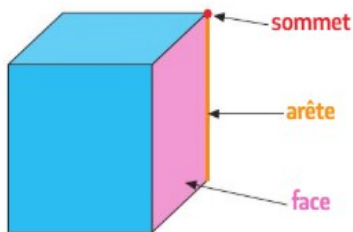





Cône






Pavé

2 Observe, puis **complète** le tableau.



Solide			
Nombre de faces
Nombre d'arêtes
Nombre de sommets

Voici les réponses à l'exercice 2

Solide			
Nombre de faces	...6...	...6...	...5...
Nombre d'arêtes	...12...	...12...	...8...
Nombre de sommets	...8...	...8...	...5...