


Explorer le monde : Nombres et quantités

Objectifs : Retrouver les décompositions additives des nombres jusqu'à 8


Consigne. Ecris le calcul qui correspond au dessin. Calcule ensuite le nombre total de fleurs.


Exemple :  = 4 + 2 = 6


4 fleurs blanches + 2 fleurs vertes , ça fait 6 fleurs en tout.


 = + =

 = + =


 = + =


 = + =


 = + =

 = + =

 = + =

 = + =

 = + =

 = + =

