


Calcul CP - 1

Dessine autant de fleurs qu'il y a de doigts.



Calcul CP - 2

Lis les nombres sur la file numérique, le plus loin possible sans te tromper.

J'ai lu sans erreur jusqu'à

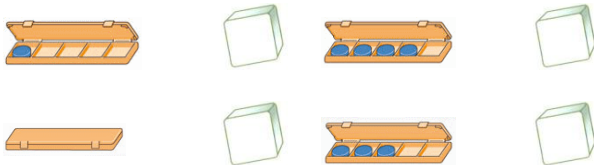
Calcul CP - 3

Complète la bande numérique et entraîne-toi à la lire.

				5	6	7	8	9	10
11	12	13	14	15	16				

Calcul CP - 5

Complète les dés.



Calcul CP - 4

Lis rapidement les nombres sur les dés.



Calcul CP - 6

Complète la bande numérique et entraîne-toi à la lire.

1					7	8	9	10
11	12	13	14	15	16			

Calcul CP - 7

Ecris dans le nuage le nombre de jetons manquant pour remplir la boîte.



Calcul CP - 8

Dessine les jetons comme dans l'exemple et complète l'égalité.



Calcul CP - 9

Compte et complète.



Il y a fraises.

Il y a bananes.

En tout, il y a fruits.

Calcule : $2+3 = \dots\dots\dots$

Calcul CP - 10

Ecris les égalités.







Calcul CP - 11

Colorie le nombre de doigts demandé.

5



8



6



Calcul CP - 12

Complète la bande numérique et entraîne-toi à la lire.

1	2	3						9	10
---	---	---	--	--	--	--	--	---	----

11	12	13	14	15	16	17	18	19	20
----	----	----	----	----	----	----	----	----	----

Calcul CP - 13

Calcule les additions.

$2 + 1 = \dots\dots\dots$ $2 + 0 + 1 = \dots\dots\dots$

$1 + 1 + 2 = \dots\dots\dots$ $3 + 1 = \dots\dots\dots$

$1 + 0 + 1 = \dots\dots\dots$ $0 + 2 + 2 = \dots\dots\dots$

Calcul CP - 14

Lis les nombres sur la file numérique, le plus loin possible sans te tromper.

J'ai lu sans erreur jusqu'à

Calcul CP - 15

Complète les égalités en t'aidant des dessins.

 $5 - 1 = \dots\dots\dots$

 $4 - 2 = \dots\dots\dots$

 $3 - 1 = \dots\dots\dots$

Calcul CP - 16

Calcule les soustractions comme Picbille.

 $5 - 2 = \dots\dots\dots$

$3 - 2 = \dots\dots\dots$

$4 - 1 = \dots\dots\dots$

$3 - 0 = \dots\dots\dots$

Calcul CP - 17

Calcule les additions.




$2 + 2 = \dots\dots\dots$ $3 + 1 = \dots\dots\dots$

$5 + 0 = \dots\dots\dots$ $0 + 3 = \dots\dots\dots$

$2 + 3 = \dots\dots\dots$ $4 + 1 = \dots\dots\dots$

Calcul CP - 18

Dessine les nombres comme Perrine.



Calcul CP - 19

Calcule les soustractions comme Picbille et Perrine.



$5 - 1 = \dots\dots\dots$ $5 - 1 = \dots\dots\dots$

$4 - 2 = \dots\dots\dots$ $4 - 2 = \dots\dots\dots$

Calcul CP - 20

Complète la bande numérique et entraîne-toi à la lire.

1	2	3	4	5	6	7			
				15	16	17	18	19	20

Calcul CP - 21

Qui a le plus de CD ? Combien de plus ?



Clara



Karim

Clara a CD.

autant

Karim a CD.



Calcul CP - 22

Je révisé pour le bilan.

1. Calcule les additions.

$2 + 3 = \dots\dots\dots$ $1 + 1 = \dots\dots\dots$

$4 + 0 = \dots\dots\dots$ $2 + 2 = \dots\dots\dots$

2. Calcule les soustractions.

$3 - 2 = \dots\dots\dots$ $4 - 2 = \dots\dots\dots$

$5 - 3 = \dots\dots\dots$ $5 - 1 = \dots\dots\dots$

3. Complète la bande numérique et entraîne-toi à la lire.


1	2								
11	12	13	14	15	16	17	18	19	20

Calcul CP - 23

Récite la maison du 4 - Leçon

Calcul CP - 24

Ecris dans le nuage le nombre de jetons que contient chaque boîte.



Calcul CP - 25

Calcule les soustractions.

$2 - 1 = \dots\dots\dots$ $5 - 2 = \dots\dots\dots$

$3 - 2 = \dots\dots\dots$ $4 - 1 = \dots\dots\dots$

Calcul CP - 26

Complète la bande numérique et entraîne-toi à la lire.

1	2	3	4	5	6	7	8	9	10	11	12
									19	20	
21	22	23	24	25	26	27	28				

Calcul CP - 27

Ecris dans le nuage le nombre de jetons manquant pour remplir la boîte.



Je vois 6 jetons.

Je vois 8 jetons.

Je vois 5 jetons.



Calcul CP - 28

Colorie le nombre de doigts demandé.

15



18





13





Calcul CP - 29


Dessine comme Dédé et comme Picbille.


Cloud icon → 

→ 

Cloud icon → 

→ 

Cloud icon → 

→ 

Calcul CP - 31

Dessine les jetons comme dans l'exemple et complète l'égalité.

  $6 + 2 = \dots\dots$


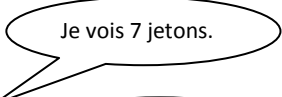

  $7 + 1 = \dots\dots$


  $9 + 2 = \dots\dots$

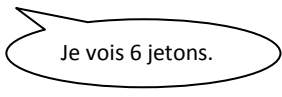
  $5 + 3 = \dots\dots$

Calcul CP - 30

Ecris dans le nuage le nombre de jetons manquant pour remplir la boîte.

Calcul CP - 32

Lis rapidement les nombres sur les cartes.

Calcul CP - 33

Ecris dans le nuage le nombre de jetons manquant pour remplir la boîte.



Je vois 4 jetons.

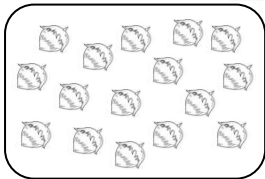
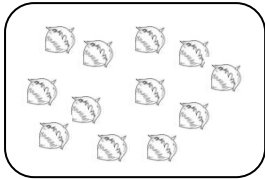
Je vois 3 jetons.

Je vois 1 jeton.



Calcul CP - 34

Ecris le nombre et dessine comme Dédé.



Calcul CP - 35

Calcule les additions.

$6 + 2 = \dots\dots$

$3 + 6 = \dots\dots$

$5 + 3 = \dots\dots$

$5 + 3 = \dots\dots$

$4 + 3 = \dots\dots$

$4 + 2 = \dots\dots$

Calcul CP - 36

Complète la bande numérique et entraîne-toi à la lire.

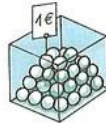
1	2	3	4	5	6	7	8	9			
				16	17	18	19				
				24	25	26	27	28			

Calcul CP - 37

Récite les doubles jusqu'à 5+5. - Leçon

Calcul CP - 38

Combien Luc peut-il acheter de balles.



Luc a



Luc peut acheter _____ balles.

Calcul CP - 39

Qui a le plus d'argent ?

Luc



Louise



C'est _____ qui a le plus d'argent.

Calcul CP - 40

Calcule.

$6 + 3 = \dots\dots$

$5 - 2 = \dots\dots$

$7 + 2 = \dots\dots$

$4 - 3 = \dots\dots$

$5 + 1 = \dots\dots$

$2 - 1 = \dots\dots$

Calcul CP - 41

Dessine 3 fois 4 fleurs.

Calcul CP - 42

Ecris le nombre de fleurs.



Calcul CP - 45

Dessine les nombres comme Perrine.



--	--	--

Calcul CP - 49

Complète



<i>dix</i>
------------	-------	-------



.....
-------	-------	-------

Calcul CP - 43

Calcule les soustractions comme Picbille.



$6 - 3 = \dots\dots$

$7 - 1 = \dots\dots$

$9 - 4 = \dots\dots$

Calcul CP - 46

Combien y a-t-il de fleurs dans 3 bouquets de 5 fleurs ?



Combien y a-t-il de gâteaux dans 4 paquets de 2 gâteaux ?



Calcul CP - 47

Calcule.

$9 - 2 = \dots\dots$ $4 + 5 = \dots\dots$

$10 - 4 = \dots\dots$ $3 + 5 = \dots\dots$

$6 - 4 = \dots\dots$ $6 + 2 = \dots\dots$

Calcul CP - 48

Récite la maison du 6. - *Leçon*

Calcul CP - 44

Calcule les soustractions.

$8 - 3 = \dots\dots$ $7 - 1 = \dots\dots$

$10 - 3 = \dots\dots$ $6 - 2 = \dots\dots$

Calcul CP - 50

Je révise pour le bilan.


1. Calcule

$6 + 3 = \dots\dots$ $8 - 3 = \dots\dots$

$7 + 1 = \dots\dots$ $7 - 2 = \dots\dots$

$5 + 3 = \dots\dots$ $10 - 4 = \dots\dots$

2. Qui a le plus d'argent ?



C'est qui a le plus d'argent.

Calcul CP - 51

Récite la maison du 8. - *Leçon*

Calcul CP - 52

Dessine comme Perrine.



Entraîne-toi à lire les nombres :

- En avançant.
- En reculant.

1	2	3	4	5	6	7	8	9	10
---	---	---	---	---	---	---	---	---	----

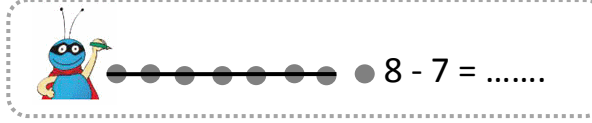
11	12	13	14	15	16	17	18	19	20
----	----	----	----	----	----	----	----	----	----

21	22	23	24	25	26	27	28	29	30
----	----	----	----	----	----	----	----	----	----

31	32	33	34	35	36	37	38	39	40
----	----	----	----	----	----	----	----	----	----

Calcul CP - 53

Calcule les soustractions comme Picbille.



$$9 - 8 = \dots\dots$$


$$7 - 7 = \dots\dots$$

$$8 - 6 = \dots\dots$$

Calcul CP - 54

Récite la maison du 7. - *Leçon*

Lis les nombres.



Calcul CP - 55

Récite la maison du 9. - *Leçon*

Calcul CP - 56

Récite la maison du 10. - *Leçon*

Lis les nombres.

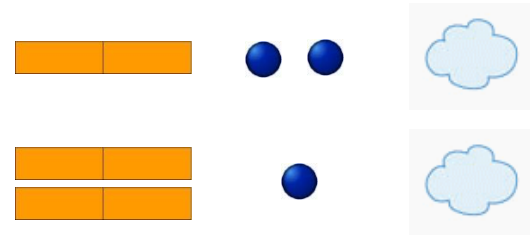


Calcul CP - 57

Complète la bande numérique et entraîne-toi à la lire.

1	2	3	4	5	6	7	8	9	10
11	12							19	20
21	22	23	24	25	26				
31	32					37	38	39	40

Ecris le nombre.



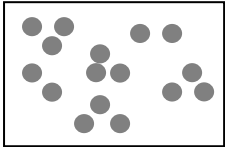
Calcul CP - 59

Ecris les nombres manquants dans les cases grises.

1	2					7	8		
11	12							19	20
				25	26				
31	32					37	38	39	40

Calcul CP - 58

Compte le nombre de points en faisant des groupes de 10.



--



Calcul CP - 60

Calcule.

$$2 + 7 = \dots\dots\dots \quad 6 - 4 = \dots\dots\dots$$


$$6 + 5 = \dots\dots\dots \quad 8 - 7 = \dots\dots\dots$$

$$8 + 3 = \dots\dots\dots \quad 8 - 8 = \dots\dots\dots$$

$$5 + 5 + 2 = \dots\dots\dots$$

Calcul CP - 61

Qui a le plus ? Combien de plus ?



Perrine a
jetons.

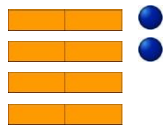


Picbille a
jetons.



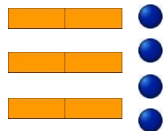
Calcul CP - 62

Complète.



Il y a groupes de
dix et points isolés.

En tout, il y a points.



Il y a groupes de
dix et points isolés.

En tout, il y a points.

Calcul CP - 63

Calcule.

$$8 - 4 = \dots\dots\dots \quad 7 - 6 = \dots\dots\dots$$

$$6 - 5 = \dots\dots\dots \quad 5 - 0 = \dots\dots\dots$$

$$9 - 4 = \dots\dots\dots \quad 6 - 3 = \dots\dots\dots$$

Calcul CP - 64

Compte de 10 en 10.

Calcul CP - 65

Ecris les nombres manquants dans les cases grises.

1									
									60

Calcul CP - 66

Combien y a-t-il de fleurs ?

On peut former
de 10 fleurs et il y a fleurs isolées.
En tout, il y a fleurs.

Calcul CP - 67

Combien y a-t-il de fleurs dans 6 bouquets de 5 fleurs ?



Combien y a-t-il de gâteaux dans 5 paquets de 10 gâteaux ?



Calcul CP - 68

Complète



dix

.....

.....



.....

.....

.....

Calcul CP - 69

Ecris les nombres manquants dans les cases grises.

1										
---	--	--	--	--	--	--	--	--	--	--

--	--	--	--	--	--	--	--	--	--	--

--	--	--	--	--	--	--	--	--	--	--

--	--	--	--	--	--	--	--	--	--	--

--	--	--	--	--	--	--	--	--	--	--

										60
--	--	--	--	--	--	--	--	--	--	----

Calcul CP - 70

Je révise pour le bilan.

1. Lis les nombres.



2. Calcule

$7 + 2 = \dots\dots\dots$

$10 - 3 = \dots\dots\dots$

$3 + 8 = \dots\dots\dots$

$8 - 7 = \dots\dots\dots$

$5 + 5 = \dots\dots\dots$

$6 - 5 = \dots\dots\dots$

3. Compte le nombre de points en faisant des groupes de 10.



Calcul CP - 71

Lis les nombres sur la file numérique, le plus loin possible sans te tromper.

J'ai lu sans erreur jusqu'à

Calcul CP - 72

Calcule en dessinant comme Perrine.



$12 + 26$

$12 + 26 = \dots\dots\dots$

Calcule en dessinant comme Picbille.



$12 + 26$

$12 + 26 = \dots\dots\dots$

Calcul CP - 73

Qui a le plus de CD ? Combien de plus ?



Clara



Karim



Clara a CD.

autant

Karim a CD.



Calcul CP - 74

Récite les doubles jusqu'à 5+5. – *Leçon*

Calcul CP - 75

Récite les doubles jusqu'à 10+10. – *Leçon*

Calcul CP - 76

Calcule.

$10 + 4 + 2 = \dots\dots$ $9 + 3 = \dots\dots$

$8 + 10 + 8 = \dots\dots$ $9 + 9 = \dots\dots$

$5 + 7 + 4 = \dots\dots$ $6 + 6 = \dots\dots$

Calcul CP - 77

Récite les doubles jusqu'à 10+10. – *Leçon*

Calcul CP - 78

Calcule en dessinant comme Picbille ou Perrine.



$24 + 19$

$24 + 19 = \dots\dots$

Calcul CP - 79

Entraîne-toi à lire les nombres :

- En avançant.
- En reculant.

1	2	3	4	5	6	7	8	9	10
11	12	13	14	15	16	17	18	19	20
21	22	23	24	25	26	27	28	29	30
31	32	33	34	35	36	37	38	39	40
41	42	43	44	45	46	47	48	49	50
51	52	53	54	55	56	57	58	59	60
61	62	63	64	65	66	67	68	69	

Calcul CP - 80

Partage les jetons.



6 jetons		
8 jetons		
14 jetons		
18 jetons		

Calcul CP - 81

Calcule.


$9 + 3 = \dots\dots$ $7 - 5 = \dots\dots$

$9 + 7 = \dots\dots$ $9 - 3 = \dots\dots$

$9 + 5 = \dots\dots$ $6 - 6 = \dots\dots$

Calcul CP - 82

Complète en lettres.



Calcul CP - 83

Entraîne-toi à réciter la comptine numérique en reculant.

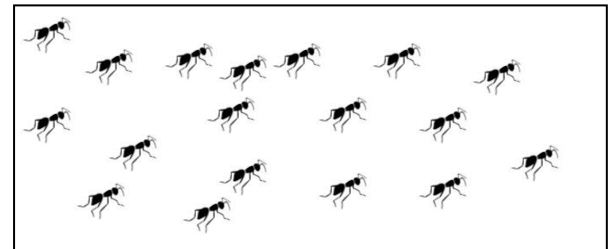
- Départ de 30.
- Départ de 60.

Calcul CP - 84

Récite les moitiés – *Leçon*

Calcul CP - 85

Compte le nombre de fourmis.



Ici, il y a fourmis.

Calcul CP - 86

Calcule.

$$8 + 3 = \dots\dots \quad 3 + 9 = \dots\dots$$

$$8 + 7 = \dots\dots \quad 7 + 5 = \dots\dots$$

$$8 + 5 = \dots\dots \quad 4 + 8 = \dots\dots$$

Calcul CP - 87

Récite les doubles jusqu'à 10+10. – *Leçon*

Calcul CP - 88

Combien y a-t-il d'enfants dans 3 équipes de 10 enfants ?



Combien y a-t-il de gâteaux dans 2 paquets de 5 gâteaux ?



Calcul CP - 89

Dessine les jetons de Maxibille et des croix à la place de ceux de Minibille, cache avec la main ce qui est pareil et complète la soustraction.

J'ai 10 jetons



J'ai 6 jetons



$$\dots\dots - \dots\dots = \dots\dots$$

Maxibille a jetons de plus que Minibille.

Calcul CP - 90

Calcule.

$$9 + 4 = \dots\dots \quad 9 - 4 = \dots\dots$$

$$3 + 8 = \dots\dots \quad 8 - 2 = \dots\dots$$

$$7 + 6 = \dots\dots \quad 9 - 1 = \dots\dots$$

Calcul CP - 91

Ecris en chiffres.








Calcul CP - 92

Entraîne-toi à compter de 10 en 10.

Calcul CP - 93

Je révise pour le bilan.

1. Lis les nombres.



2. Combien y a-t-il d'argent ?



Il y a €.

3. Calcule en dessinant comme Picbille ou Perrine.



$$27 + 32$$

$$27 + 32 = \dots\dots$$

Calcul CP - 94

Combien y a-t-il d'enfants dans 5 équipes de 4 enfants ?



Combien y a-t-il de gâteaux dans 3 paquets de 6 gâteaux ?



Calcul CP - 95

Calcule.


$24 + 8 = \dots\dots$ $36 + 5 = \dots\dots$


Calcul CP - 96

Qui a le plus de CD ? Combien de plus ?




Clara a CD.
 Karim a CD.

autant 



Calcul CP - 97

Ecris les nombres manquants dans les cases grises.



Calcul CP - 98

Calcule.

$24 + 8 = \dots\dots$ $35 + 6 = \dots\dots$


Calcule en barrant à la fin comme Picbille.

$11 - 3 = \dots\dots$

$16 - 8 = \dots\dots$

Calcul CP - 99

Lis les nombres.




Calcul CP - 100


Récite les moitiés – *Leçon*

Calcul CP - 101

Ecris en chiffres.



Complète en lettres.



Calcul CP - 102

Calcule.

$54 + 8 = \dots\dots$ $62 + 9 = \dots\dots$
 $39 + 2 = \dots\dots$ $48 + 2 = \dots\dots$

Calcul CP - 103


Calcule.

$36 + 25 = \dots\dots$

Vérifie en dessinant comme Picbille ou Perrine.

Calcul CP - 104

Lis les nombres.



Calcul CP - 105


Calcule en barrant au début comme Picbille.

14 - 8 =

12 - 9 =

Calcul CP - 106

Lis les nombres.



Calcul CP - 107

Calcule.

49 + 37 = 40 + 30 + 9 + 7
49 + 37 =

29 + 36 =

29 + 36 =

43 + 28 =

43 + 28 =

Calcul CP - 108

Calcule.

20 + 30 = 30 + 40 =

10 + 40 = 20 + 20 =

Calcul CP - 109

Ecris en chiffres.

[Empty rectangular box]



[Empty rectangular box]



Complète en lettres.


[Blue cloud-shaped number]

[Blue cloud-shaped number]

Calcul CP - 110

Dans son aquarium, Bruno a 9 poissons.


Combien y a-t-il de poissons derrière le rocher ?



Il y a Poissons derrière le rocher.

Calcul CP - 111

Lis les nombres.



Calcul CP - 112

Calcule.

Grid for calculations with 10 columns and 10 rows.

