

M9 – Je sais lire l'heure



... h ... min



... h ... min




... h ... min




... h ... min



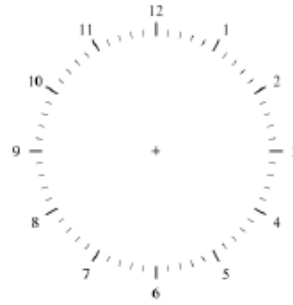
... h ... min




08 : 30



22 : 45



7 h moins le quart



18 : 15

.../ 10

M10 – Je sais utiliser les unités de mesure du temps et calculer le temps écoulé

.../ 10

- Une journée de classe dure 6. . . . .
- L'été, comme les autres saisons, dure 4. . . . .
- Le record du monde du 100 m est inférieur à 10. . . . .
- La récréation du matin dure moins de 20. . . . .

**Complète les égalités suivantes :**

- |                |                 |                         |
|----------------|-----------------|-------------------------|
| 1 min = .... s | 1 jour = .... h | 1 semaine = ..... jours |
| 1 h = .... min | 1 h = ..... s   | 1 année = ..... mois    |

- La séance de cinéma débute à 19 h et se termine à 20 h 30. Combien de temps dure la séance ?  
.....
- La récréation commence à 15 h 15 et dure 15 minutes. À quelle heure se termine la récréation ?  
.....