

NC1

Compter et comparer des quantités d'objets.

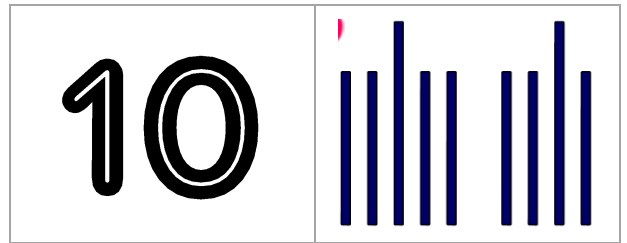

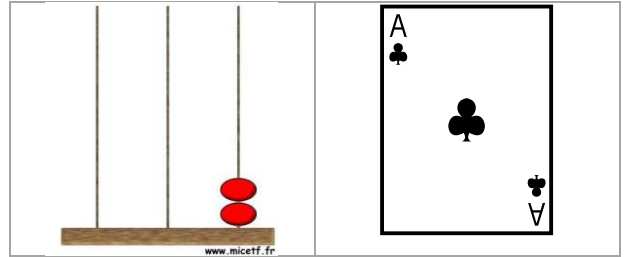
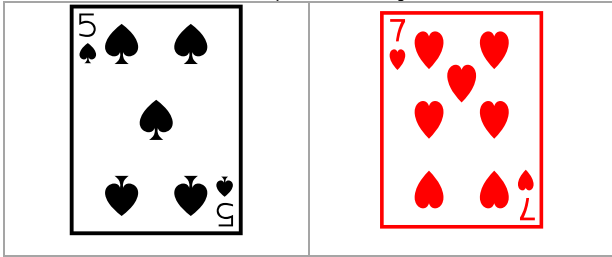
Dépassé

Acquis

En cours
d'acquisition

Non
acquis

Entoure le plus grand à chaque fois.



NC2

Décomposer les nombres



Dépassé



Acquis



En cours
d'acquisition

Non
acquis

Sépare chaque quantité en 2 parties.

NC3

Se repérer sur une suite numérique

Dépassé

Acquis

En cours
d'acquisitionNon
acquisComplète.

4	5	8	9
5	...	7	...	9	...
11	10	9

NC5

Comparer et ranger les nombres

Dépassé

Acquis

En cours
d'acquisitionNon
acquisComplète avec < ou >.

9 ... 4

12 ... 7

8 ... 11

24 ... 18

15 ... 10

17 ... 16

Range du plus petit au plus grand.

3	12	6	8
---	----	---	---

→ _____

NC13

Ajouter 1 ou 2 à un nombre

Dépassé

Acquis

En cours
d'acquisitionNon
acquis

Evaluation orale du furet de 1 en 1 à partir de 19.

Evaluation orale du furet de 2 en 2 à partir de 0.

NC6










Utiliser des représentations différentes des nombres

NC7

Passer d'une représentation d'un nombre à une autre

Dépassé	Acquis	En cours d'acquisition	Non acquis
---------	--------	------------------------	------------

Complète.

NC16

Faire du calcul mental

Dépassé	Acquis	En cours d'acquisition	Non acquis
---------	--------	------------------------	------------

NC11

Résoudre des problèmes

Dépassé

Acquis

En cours
d'acquisition

Non
acquis

Réponds.

Problème 1 :

« Maman a acheté une boîte de 6 œufs pendant les courses. Mais elle a fait tomber le sac et elle a cassé 3 œufs.

Combien reste-t-il d'œufs ? » → _____

Problème 2 :

« Mathéo joue au foot avec Antoine. Il a marqué 4 buts. Puis Antoine a marqué 2 buts.

Combien de buts ont-ils marqués ? » → _____

EG1

Se repérer dans son environnement

Dépassé

Acquis

En cours
d'acquisition

Non
acquis

En fonction des observations réalisées lors du travail en classe (choix des ateliers, savoir où on doit aller etc...)

EG12

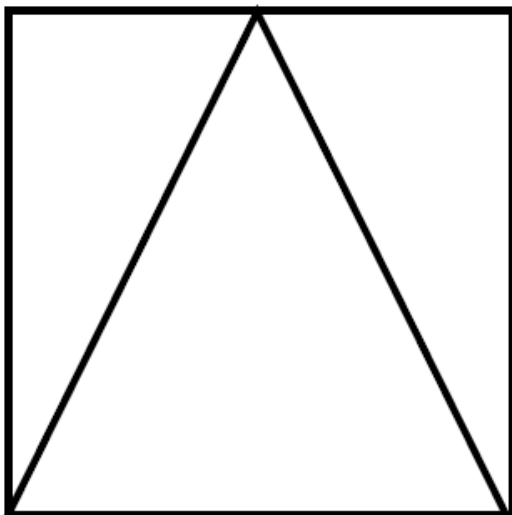
Nommer les figures : en particulier le triangle

Dépassé

Acquis

En cours
d'acquisition

Non
acquis



Combien de triangles ? → _____

