

1. Calcul mental :  **Trouver le complément à 10.**

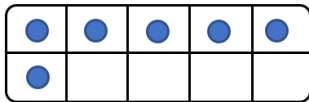


__	__	__	__	__
----	----	----	----	----

2. Complément à 10.



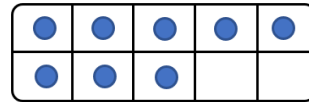
Dessine ce qui manque pour faire 10  **et complète le calcul.**



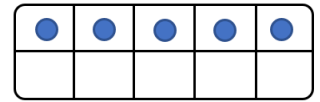
$6 + _ = 10$



$3 + _ = 10$



$8 + _ = 10$



$5 + _ = 10$

3. Décomposer le nombre 10 :

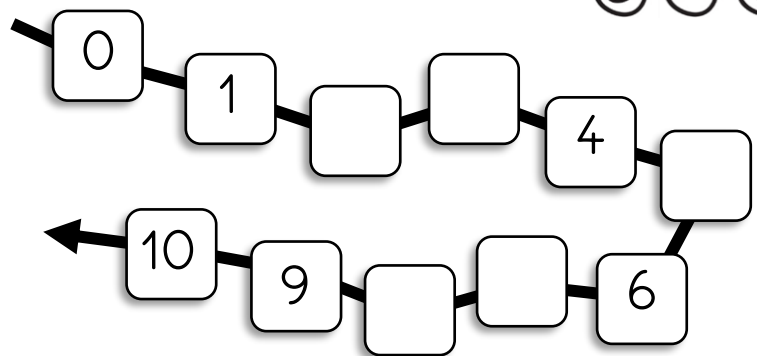


Complète la maison du 10.



10	
0 + 10	10 + _
1 + 9	9 + _
2 + 8	8 + _
3 + 7	7 + _
4 + 6	6 + _
5 + _	

4.  écrit les nombres manquants.



5.  écrit le nombre qui vient avant et après.

□	3	□	□	7	□
□	2	□	□	9	□

6.  Problème



Il y a 9 mouches dans mon salon.
3 mouches sont sorties par la fenêtre.

Combien reste-t-il de mouches ?

→ Il reste ___ mouches.

