

Ton prénom :

Date :

Évaluation le corps humain - CE2

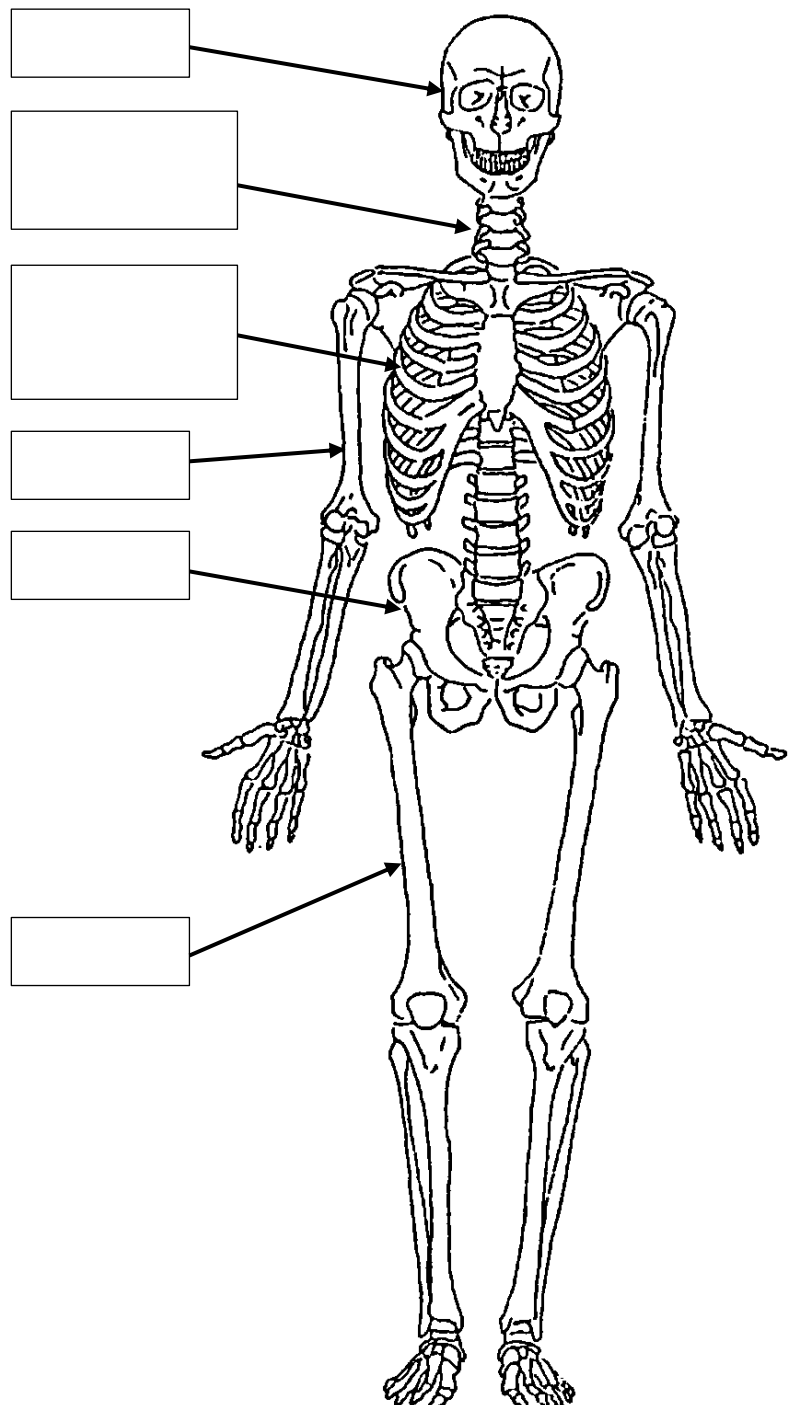
<http://le-stylo-de-vero.eklablog.com>

1. Réponds aux questions.

- Comment s'appelle l'ensemble des os du corps humain ?
- Comment s'appellent les endroits où le corps se plie ?
- Si je bloque l'articulation du coude, que se passe-t-il ?
- Qu'est-ce qu'une fracture ?

2. Il y a 6 groupes d'os, nomme-les sur le dessin du squelette.

Jambe
Bassin
Cage thoracique
Crâne
Bras
Colonne vertébrale

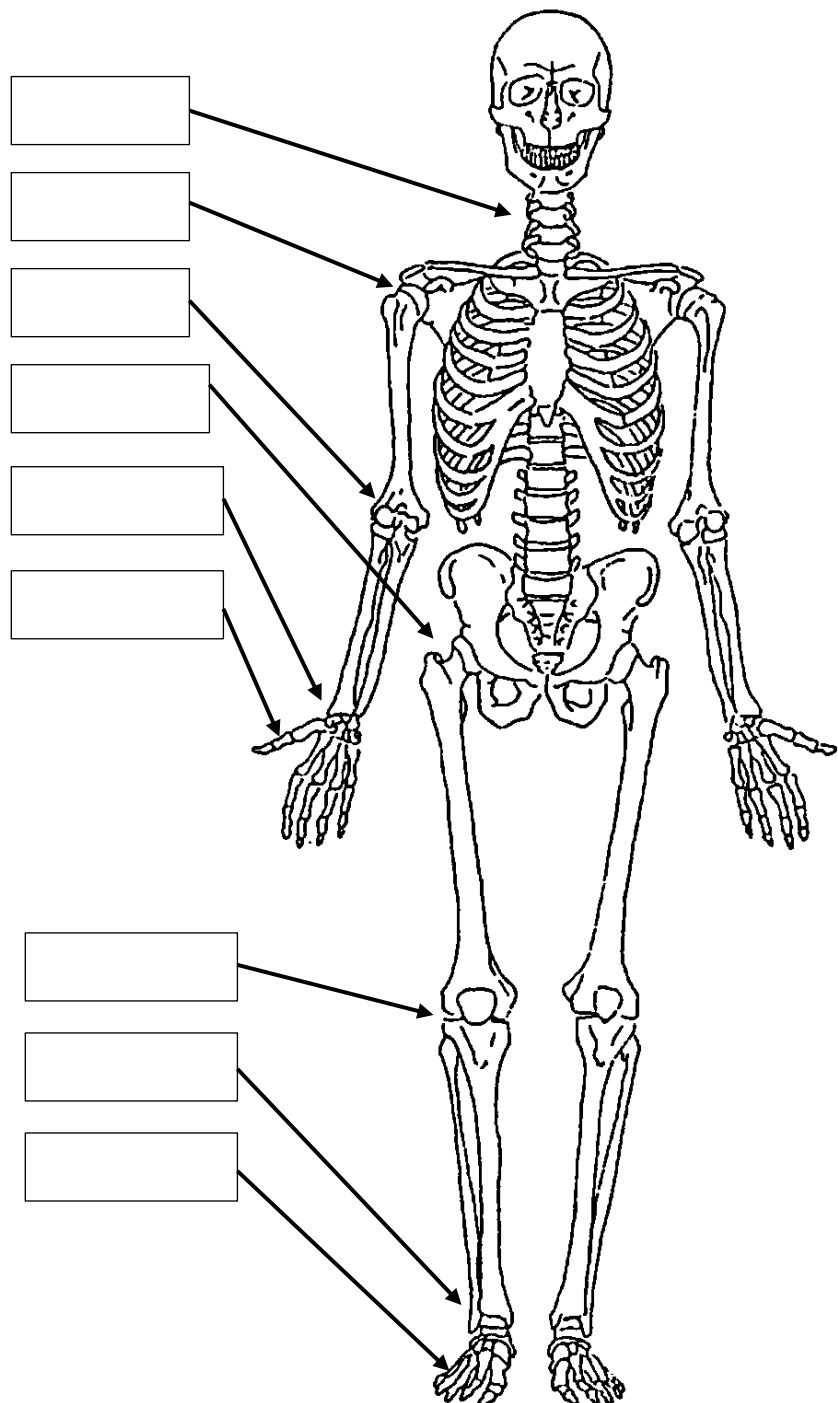


3. Coche par VRAI ou FAUX

	VRAI	FAUX
Notre squelette est formé de 206 os		
Les os sont rigides		
Sans squelette je tiendrais quand même debout		
Nous avons 4 membres : 2 bras et 2 jambes		
Il y a plus d'os chez l'adulte que chez l'enfant		
Après une fracture l'os fabrique de nouveau de la matière osseuse		

4. Sur le dessin,

- repère puis entoure au crayon rouge toutes les articulations.
- Remplis les étiquettes en écrivant les noms des articulations.



5. **Il existe deux types d'articulations : type pivot et type charnière.**
Remplis le tableau en mettant une croix dans la bonne colonne.

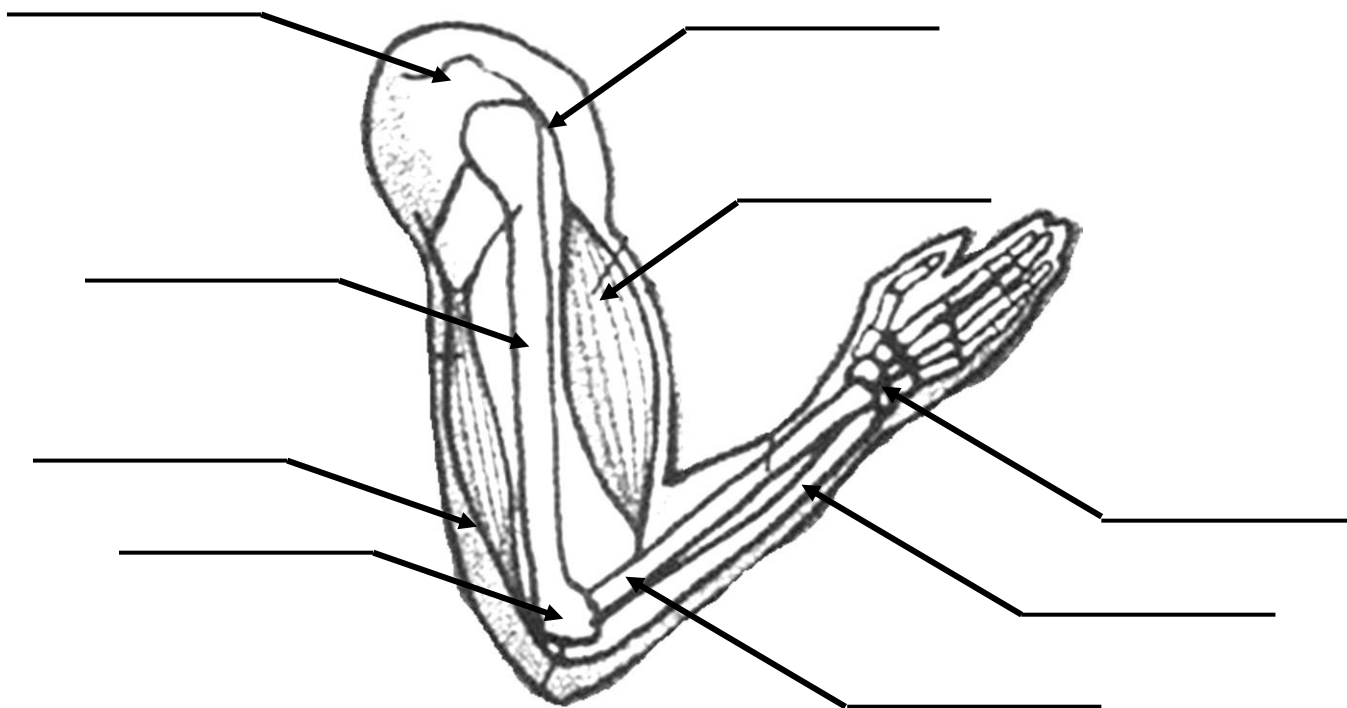
	Articulation pivot qui me permet de bouger dans plusieurs directions	Articulation charnière qui ne me permet de bouger que dans deux directions.
Genou		
Epaule		
Coude		
Cheville		

6. **Complète avec les mots :** os / muscles / tendons / gonfle / raccourcit / contracte.

Ce sont les _____ qui permettent le déplacement des _____ l'un par rapport à l'autre. Les muscles se terminent par des _____ qui sont attachés aux os.

Quand le muscle se _____, il se _____ et se _____ en même temps, alors il tire sur l'os qui se déplace.

7. **Légende le schéma avec les mots :** épaule / radius / biceps / coude / humérus / poignet / cubitus / triceps / tendon



Je connais le rôle du squelette (questions 1 et 3)	
Je sais légender un schéma (questions 2, 4 et 7)	
Je connais le nom et le fonctionnement des articulations (questions 4 et 5)	
Je connais le fonctionnement des muscles (questions 6 et 7)	

