



JE MESURE DES LONGUEURS ...


Quel tortue parcourt le chemin le plus court pour atteindre la salade ?



A



B



C



La tortue A parcourt : cm

La tortue B parcourt : cm

La tortue C parcourt : cm

JE MESURE DES SURFACES

Combien de carrés te faut-il pour remplir la figure ?




Il faut : carrés

Combien de rectangles te faut-il pour remplir la figure ?



Il faut : rectangles

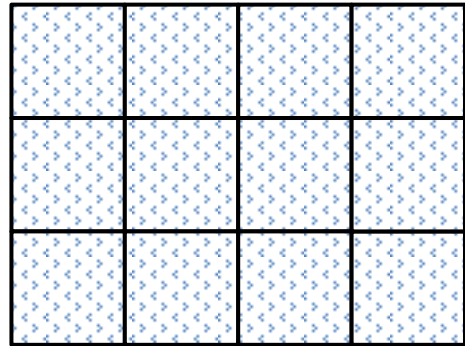

Combien de triangles te faut-il pour remplir la figure ?



Il faut :
..... triangles

LES PETITS JARDINS

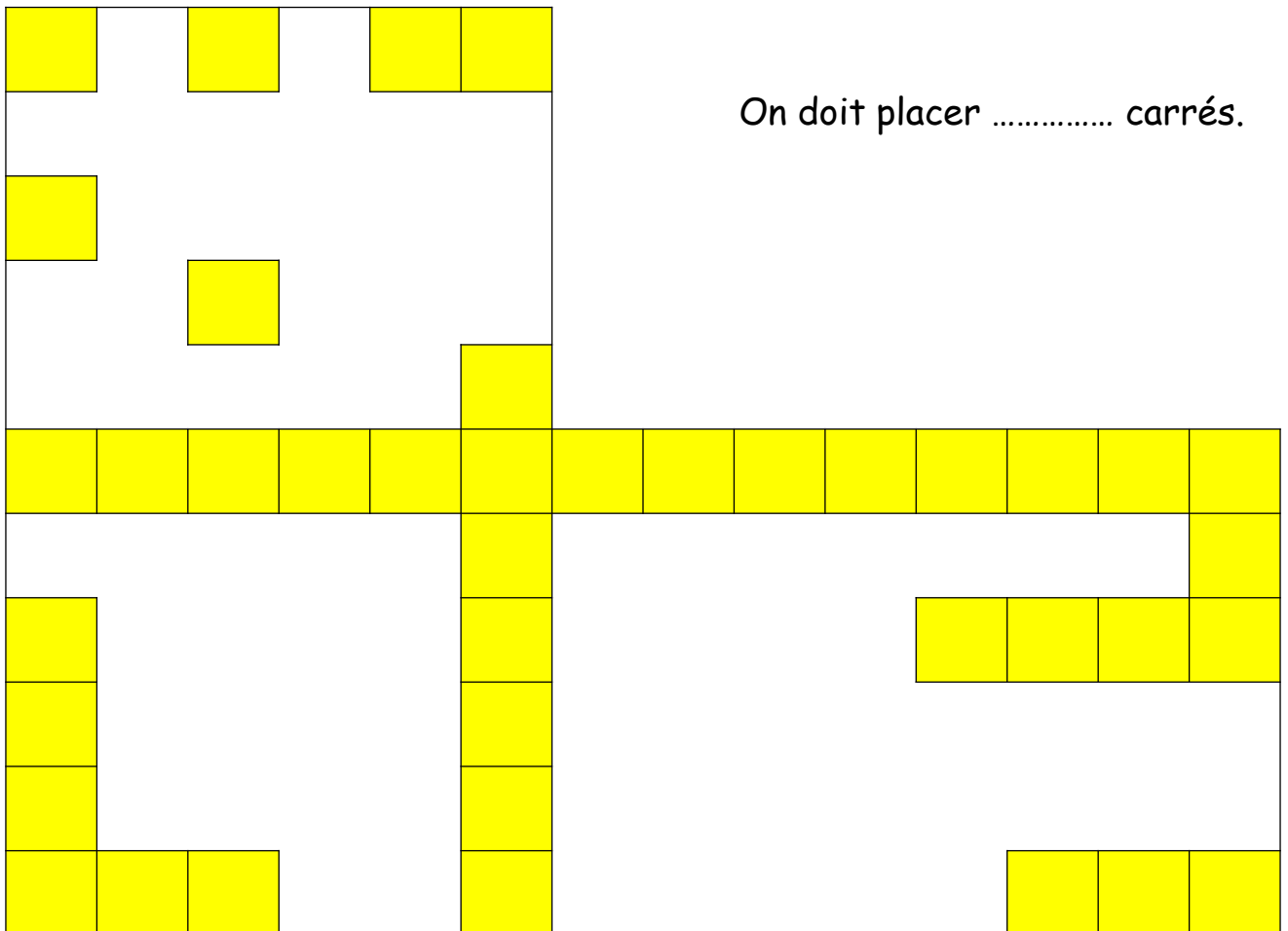
Recouvre les jardins ! Attention, les pièces ne doivent pas dépasser de la figure et il ne doit pas y avoir de trous !



LES MOSAIQUES

Sur la mosaïque, on a placé une partie des carrés.

Combien de carrés doit-on encore placer pour recouvrir entièrement la mosaïque ?



On doit placer carrés.

