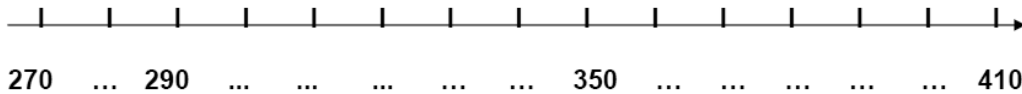
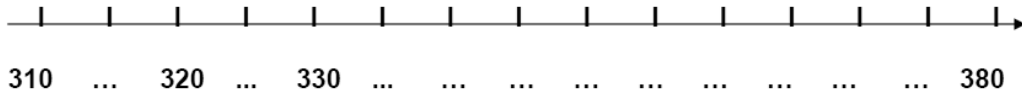


Prénom : \_\_\_\_\_ Date : \_\_\_\_\_

**1. Ecris les nombres qui manquent.**



**2. Classe les nombres suivants dans l'ordre décroissant.**

109 - 94 - 470 - 804 - 592 - 686 - 419 - 539 - 935 - 241

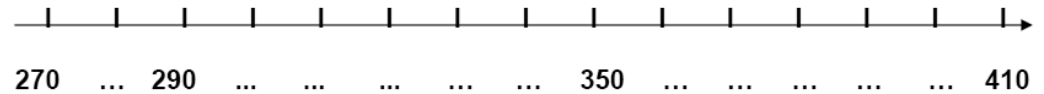
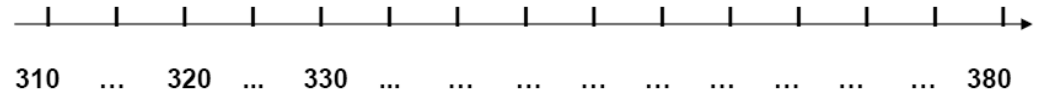
--	--	--	--	--	--	--	--	--	--

**3. Complète le tableau suivant.**

572	$500 + 70 + 2$	Cinq cent soixante-douze
695		
	$300 + 50 + 9$	
		Deux cent quarante deux
200		
	$800 + 5$	

Prénom : \_\_\_\_\_ Date : \_\_\_\_\_

**1. Ecris les nombres qui manquent.**



**2. Classe les nombres suivants dans l'ordre décroissant.**

109 - 94 - 470 - 804 - 592 - 686 - 419 - 539 - 935 - 241

--	--	--	--	--	--	--	--	--	--

**3. Complète le tableau suivant.**

572	$500 + 70 + 2$	Cinq cent soixante-douze
695		
	$300 + 50 + 9$	
		Deux cent quarante deux
200		
	$800 + 5$	