




Prénom :

Date :

Compte les formes et écris combien il y en a.Compte les formes et choisis le bon nombre.

11	13	19
----	----	----



15	16	17
----	----	----