



Piet Mondrian (1872 – 1944)



Visite au musée d'Art moderne

Nos amis visitent la galerie d'art abstrait.

Le guide s'arrête devant un tableau de Mondrian.



Questions :


1. Quelles figures reconnais-tu sur ce tableau ?
2. Comment l'artiste a-t-il construit son tableau ?
3. Quelles couleurs emploie-t-il dans ce tableau ?
4. Décris la position des droites.

Réalise toi aussi un dessin en t'inspirant de la technique de Mondrian.

Visite au musée d'Art moderne

Nos amis visitent la galerie d'art abstrait.

Le guide s'arrête devant un tableau de Mondrian.



Questions :


1. Quelles figures reconnais-tu sur ce tableau ?
2. Comment l'artiste a-t-il construit son tableau ?
3. Quelles couleurs emploie-t-il dans ce tableau ?
4. Décris la position des droites.

Réalise toi aussi un dessin en t'inspirant de la technique de Mondrian.

Défi : Les couleurs de Mondrian

Le grand carré a un périmètre de 28 cm.

Il est composé de 2 carrés et de 2 rectangles. Le carré rouge a un périmètre de 16 cm. Quel est le périmètre du rectangle bleu ?



Défi : Les couleurs de Mondrian

Le grand carré a un périmètre de 28 cm.

Il est composé de 2 carrés et de 2 rectangles. Le carré rouge a un périmètre de 16 cm. Quel est le périmètre du rectangle bleu ?

