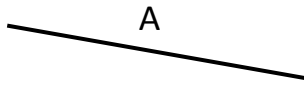


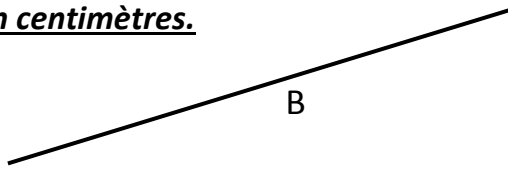


Ton prénom : \_\_\_\_\_

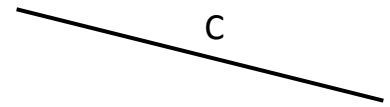
1. Mesure ces segments en centimètres.



A = ..... cm

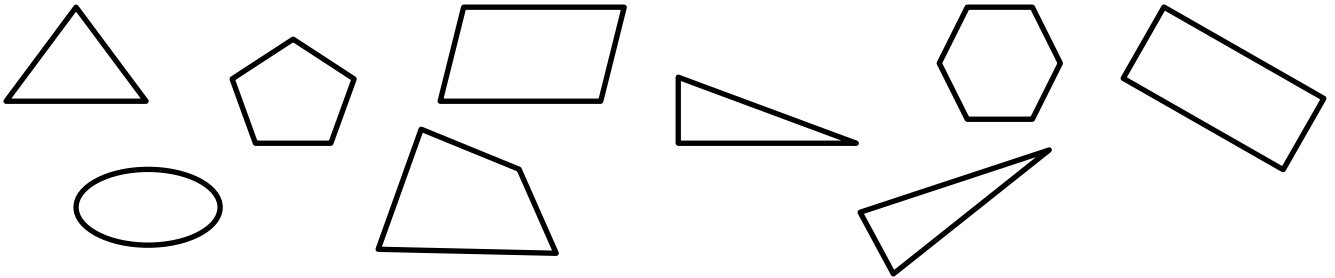


B = ..... cm



C = ..... cm

2. Colorie en vert les triangles, en rouge les quadrilatères



3. Complète les additions

30 + ..... = 100

90 + ..... = 100

50 + ..... = 100


65 + ..... = 100

85 + ..... = 100

35 + ..... = 100

4. Avec ta règle,

trouve les trois points alignés :



trouve le milieu du segment :




5. **Ce matin Jules avait 8 images. Emilie lui a donné ses images.**

**A présent Jules a 13 images.**

Calcul : .....

Emilie avait ..... images.

Combien d'images avait Emilie ?



Je sais mesurer des segments avec la règle (exercice 1)	
Je sais reconnaître des figures géométriques simples (exercice 2)	
Je sais trouver des compléments à 100 (exercice 3)	
Je sais vérifier l'alignement de points et trouver le milieu d'un segment (exercice 4)	
Je sais résoudre un problème soustractif (exercice 5)	

