






CE2 : Exercice 2 : Observe le quadrillage et **réponds** aux questions.

	1	2	3	4
A				
B				
C				
D				

Écris la position de chaque objet :





 (.....;.....)  (.....;.....)

 (.....;.....)  (.....;.....)



Dessine ces objets dans les bonnes cases :



△ (A ; 3) ○ (B ; 1)
 ♥ (D ; 2) □ (C ; 4)

CE2 : Exercice 2 : Observe le quadrillage et **réponds** aux questions.

	1	2	3	4
A				
B				
C				
D				

Écris la position de chaque objet :





 (.....;.....)  (.....;.....)

 (.....;.....)  (.....;.....)

Dessine ces objets dans les bonnes cases :

△ (A ; 3) ○ (B ; 1)
 ♥ (D ; 2) □ (C ; 4)

CE2 : Exercice 2 : Observe le quadrillage et **réponds** aux questions.

	1	2	3	4
A				
B				
C				
D				

Écris la position de chaque objet :





 (.....;.....)  (.....;.....)

 (.....;.....)  (.....;.....)



Dessine ces objets dans les bonnes cases :



△ (A ; 3) ○ (B ; 1)
 ♥ (D ; 2) □ (C ; 4)

CE2 : Exercice 2 : Observe le quadrillage et **réponds** aux questions.

	1	2	3	4
A				
B				
C				
D				

Écris la position de chaque objet :

 (.....;.....)  (.....;.....)

 (.....;.....)  (.....;.....)

Dessine ces objets dans les bonnes cases :

△ (A ; 3) ○ (B ; 1)
 ♥ (D ; 2) □ (C ; 4)