







Dessine les pièces qui manquent pour faire la somme demandée :

	<p>18€</p>
	<p>5€</p>
	<p>7€</p>
	<p>10€</p>
	<p>4€</p>
	<p>6€</p>

Ecris la somme qui manque pour faire la somme demandée :

Somme de départ :	Ce qui manque :	Total :
5€50c		6€
6€60c		7€
8€20c		9€
9€90c		10€
4€75c		5€
3€60c		4€
2€50c		3€

Ecris la somme qui manque pour faire la somme demandée :

Somme de départ :	Ce qui manque :	Total :
9€25c		10€
7€50c		10€
4€20c		5€
6€90c		10€
7€75c		10€
12€60c		15€
22€50c		25€

Précise la somme contenue dans chacun des portemonnaies :

