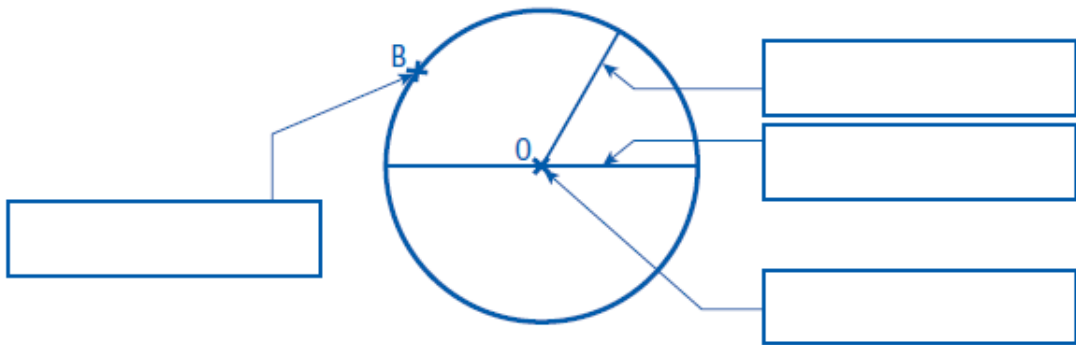


Note : la plus basse ..... -- moyenne ..... -- la plus haute .....

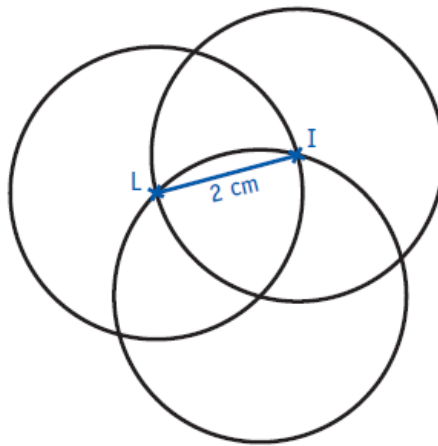
Mes réussites :	A	ECA	NA	→ points
1 : Je connais le vocabulaire relatif au cercle.				/4
2 : Je sais reproduire des cercles à partir d'un modèle.				/4
3, 4, 5 et 6 : Je sais reproduire des cercles à partir d'un programme de construction.				/12

Date : ..... / ..... / .....

1 Complète la légende de cette figure avec le vocabulaire géométrique.



2 Reproduis cette figure aux dimensions indiquées. (4pts)



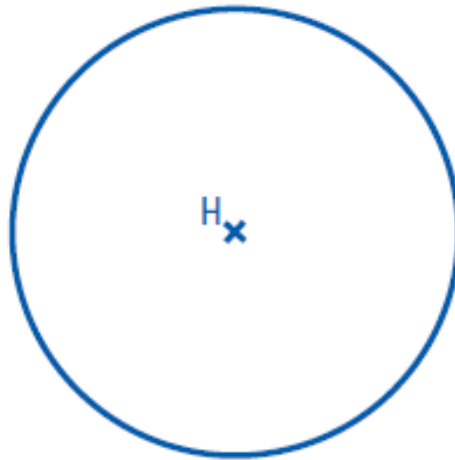
3 Trace un cercle de centre G de 3 cm de rayon. (1pts)

4 Trace un cercle de centre F de 5 cm de diamètre. (2pts)

5 Trace un cercle de centre O et de 4 cm de rayon. Place un point B sur le cercle. Trace un cercle de centre B de 6 cm de diamètre. (3pts)

NOM + Prénom :

6 Complète le cercle en suivant l'énoncé. (6pts)



- a. Trace un diamètre [ST] de ce cercle. Repasse-le en rouge.
- b. Trace un rayon [CH] de ce cercle. Repasse-le en vert.
- c. Place un point V sur le cercle.
- d. Place un point N à l'intérieur du cercle.
- e. Place un point P à l'extérieur du cercle.
- f. Place un point M, milieu du rayon [CH].