

1. Observe les polygones puis complète le tableau.

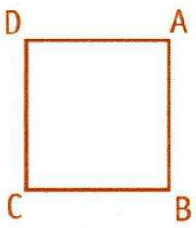


Figure A

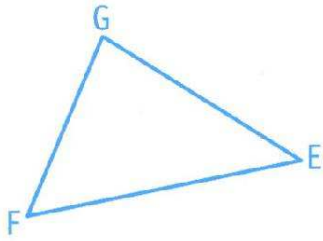


Figure B

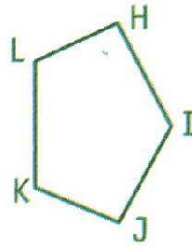


Figure C

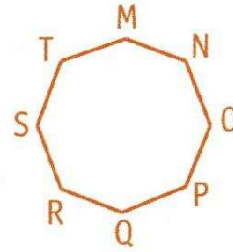


Figure D

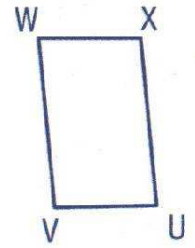


Figure E

	Nombre de côté	Nombre de sommet	Nombre de diagonales	Côtés opposés égaux	Côtés parallèles entre eux	Désignation	Nom du polygone
A	4	4	2	oui	oui	ABCD	quadrilatère
B							
C							
D							
E							

1. Observe les polygones puis complète le tableau.

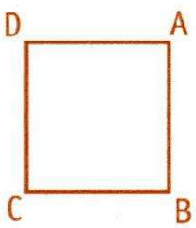


Figure A

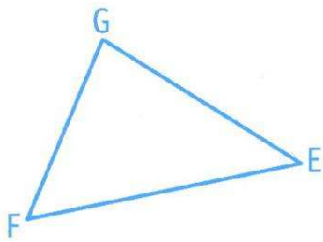


Figure B

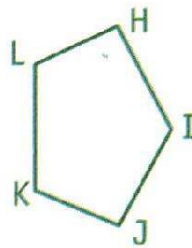


Figure C

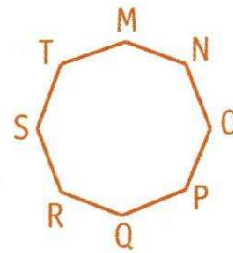


Figure D

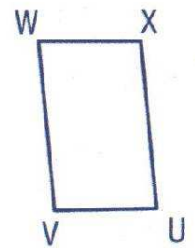


Figure E

	Nombre de côté	Nombre de sommet	Nombre de diagonales	Côtés opposés égaux	Côtés parallèles entre eux	Désignation	Nom du polygone
A	4	4	2	oui	oui	ABCD	quadrilatère
B							
C							
D							
E							