

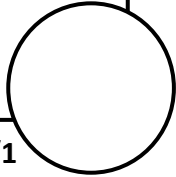
Nom : ..... Prénom : .....

## Evaluation d'Histoire : la Préhistoire

\*Connaitre les évènements, le rôle des personnages et des groupes sociaux :

\*Connaitre quelques dates et leur signification :

\*Savoir interpréter un document écrit ou imagé :



**1/ De quel continent viennent les premiers Hommes (entoure la bonne réponse) :** /1

- A/ Asie                      B/ Amérique                      C/ Europe                      D/ Afrique

**2/ Dans quel lieu fut trouvé le plus vieux squelette d'Europe (entoure la bonne réponse):** /1

- A/ Cro-Magnon                      B/ Néandertal                      C/ Tautavel                      D/ Lascaux

**3/ Quand l'Homme maîtrise-t-il la création du feu (entoure la bonne réponse) ?** /1

- A/ 2022                      B/ - 4 000 ans avant J.C.                      C/ - 400 000 ans avant J.C.                      D/ - 4 milliards d'année

**4/ Donne le nom d'une grotte célèbre pour ses peintures préhistoriques:** /1

.....

**5/ Donne les 8 utilisations possibles du feu au Paléolithique :** /8



1 : .....

.....

2 : .....

.....

3 : .....

.....

4 : .....

.....

5 : .....

.....

6 : .....

.....

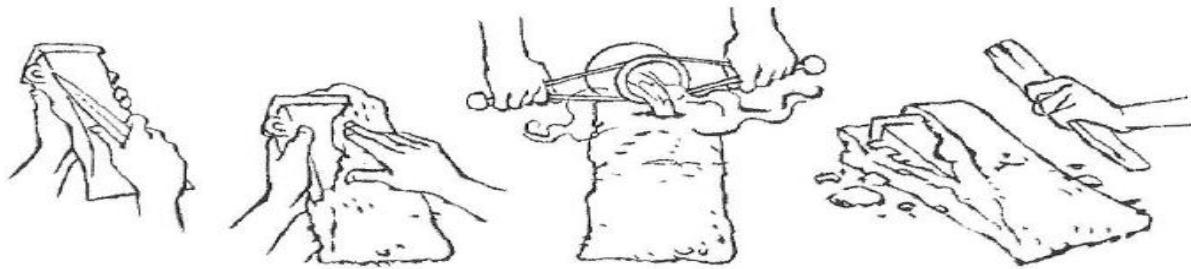
7 : .....

.....

8 : .....

.....

Observe les dessins. Puis complète le texte avec les mots suivants :  
*métal cire forgeron terre hache moule*



Pour fabriquer une hache en métal, le ..... façonne d'abord un modèle dans de la cire puis l'enveloppe de ..... Par un trou, il verse du ..... liquide et brûlant, qui fait ressortir la ..... Lorsque le métal est refroidi, il casse le ..... et en sort la .....

7/ Complète :

## Les grands sites préhistoriques de France

**Carnac**  
 On y trouve des alignements de menhirs. Ils ont été installés il y a environ 4 000 ans. C'étaient des sortes de tombes.

**Terra-Amata**  
 Ce lieu préhistorique date de 400 000 ans. À cet endroit, des chasseurs avaient construit des cabanes de peau tendue avec des os.

**La grotte de Lascaux**  
 Des peintures d'il y a 17 000 ans ont été découvertes à l'intérieur, en 1940. Elles représentent des animaux : cerfs, mammouths. Cette grotte a été fermée au public en 1963, car les peintures s'abîmaient. Une fausse grotte a été construite à côté.

**Filitosa**  
 Ce site date d'il y a environ 7 000 ans. Il abrite de nombreuses statues-menhirs.

**Aurignac**  
 Ce site était habité par des chasseurs. On a retrouvé des outils : burins...

**La grotte Chauvet**  
 Cette grotte a été découverte en 1994. Elle contient les peintures les plus anciennes : elles datent d'il y a plus de 30 000 ans. On peut voir des animaux dangereux : des rhinocéros, des lions, des panthères...

**La grotte Cosquer**  
 C'est une grotte sous-marine unique au monde. On y accède par un tunnel long de 175 mètres, dont l'entrée est située à 37 mètres sous l'eau.

**Dico**

- \*Entoure en vert le rond représentant le site de Carnac et en rouge le site d'Aurignac: /2
- \*Donne le nom de la grotte découverte par un plongeur sous-marin : ..... /1
- \*Quelle grotte abrite les peintures les plus anciennes ? ..... /1
- \*Pourquoi a-t-on construit une fausse grotte de Lascaux à côté de la vraie ? /1

.....





**9/ Complète :**


/2

\*Dans les ronds, écris un « M » pour Menhir ou un « D » pour dolmen :



Mise en place d'un menhir.




\*Numérote les étapes de 1 à 5 en les mettant dans le bon ordre



**10/ Complète :**

/3

Écris le travail de chaque artisan (*tisserand, vannier ou potier*) et ce qu'ils fabriquent.

	nom du métier	fonction
		
		
		

**11/ Définitions :**

/2

Nomade :

.....

.....

.....

Sédentaire :

.....

.....

.....

**12/ Complète :**

/3

**Nomme les activités agricoles représentées dans cette image :**

.....

.....

.....

.....

.....

.....

.....

.....

