

Prénom : _____

Date : / /

Evaluation Problèmes

Octobre 2012

Je sais résoudre un problème additif. (addition jusqu'à 9).


Note sur 10 : /10

Moyenne classe : /10

1- Lilou a invité 3 filles et 2 garçons pour son anniversaire.
Combien d'enfants Lilou a invité à son anniversaire ?


➤ Dessine

Les filles




+

Les garçons



=

Total d'enfants



➤ Ecris l'opération

..... + =

➤ Ecris la réponse à la question.


Lilou a invité _____ enfants à son anniversaire.

2- A la fin de sa journée, la maîtresse a trouvé dans sa classe 5 crayons bleus et 4 crayons verts.

Combien de crayons la maîtresse a-t-elle trouvé ?


➤ Dessine

Les crayons bleus




+

Les crayons verts



=

Total de crayons



➤ Ecris l'opération

..... + =

➤ Ecris la réponse à la question.

La maîtresse a trouvé _____ crayons.


3- Au début de la récréation, Medhi a 2 billes. Il en gagne 6.
Combien en a-t-il à la fin de la récréation ?

➤ Dessine

Au début

Gain

Total à la fin



➤ Ecris l'opération

..... + =

➤ Ecris la réponse à la question.

Medhi a _____ billes à la fin de la récréation.