

..... de ..... : espace dans lequel nous ..... C'est à la fois l'endroit où nous ..... et les lieux que nous fréquentons ..... (école, travail, activités et loisirs).

..... : plus ..... division administrative du territoire français (ville ou village). Il y a un peu plus de 36 000 communes en ..... (outre-mer compris).

..... : division administrative du territoire français.  
Il y a 101 ..... français (96 en métropole et 5 en outre-mer).

..... : division administrative du territoire français, composée d'un ou plusieurs départements. Il y a ..... régions en France (13 en France métropolitaine et 5 en outre-mer).

..... de ..... : espace dans lequel nous ..... C'est à la fois l'endroit où nous ..... et les lieux que nous fréquentons ..... (école, travail, activités et loisirs).

..... : plus ..... division administrative du territoire français (ville ou village). Il y a un peu plus de 36 000 communes en ..... (outre-mer compris).

..... : division administrative du territoire français.  
Il y a 101 ..... français (96 en métropole et 5 en outre-mer).

..... : division administrative du territoire français, composée d'un ou plusieurs départements. Il y a ..... régions en France (13 en France métropolitaine et 5 en outre-mer).

..... de ..... : espace dans lequel nous ..... C'est à la fois l'endroit où nous ..... et les lieux que nous fréquentons ..... (école, travail, activités et loisirs).

..... : plus ..... division administrative du territoire français (ville ou village). Il y a un peu plus de 36 000 communes en ..... (outre-mer compris).

..... : division administrative du territoire français.  
Il y a 101 ..... français (96 en métropole et 5 en outre-mer).

..... : division administrative du territoire français, composée d'un ou plusieurs départements. Il y a ..... régions en France (13 en France métropolitaine et 5 en outre-mer).

Lieu de vie : espace dans lequel nous vivons. C'est à la fois l'endroit où nous habitons et les lieux que nous fréquentons régulièrement (école, travail, activités et loisirs).

Commune : plus petite division administrative du territoire français (ville ou village). Il y a un peu plus de 36 000 communes en France (outre-mer compris).

Département : division administrative du territoire français. Il y a 101 départements français (96 en métropole et 5 en outre-mer).

Région : division administrative du territoire français, composée d'un ou plusieurs départements. Il y a 18 régions en France (13 en France métropolitaine et 5 en outre-mer).

un pays ou les personnes chargées de l'organiser (le gouvernement).

l'ensemble des conseillers régionaux élus (pour 6 ans) pour organiser la vie de la région.

Dans chaque région, les habitants élisent   
 a notamment la charge des lycées ; des transports ; des actions en faveur de l'agriculture, du tourisme ; de l'environnement... Les conseillers régionaux élisent l'un d'entre eux pour être le président du conseil régional.

L'état : un pays ou les personnes chargées de l'organiser (le gouvernement).

le conseil régional: l'ensemble des conseillers régionaux élus (pour 6 ans) pour organiser la vie de la région.

Dans chaque région, les habitants élisent **des conseillers régionaux**. **Le conseil régional** a notamment la charge des lycées ; des transports ; des actions en faveur de l'agriculture, du tourisme ; de l'environnement... Les conseillers régionaux élisent l'un d'entre eux pour être le président du conseil régional.

L'état : un pays ou les personnes chargées de l'organiser (le gouvernement).

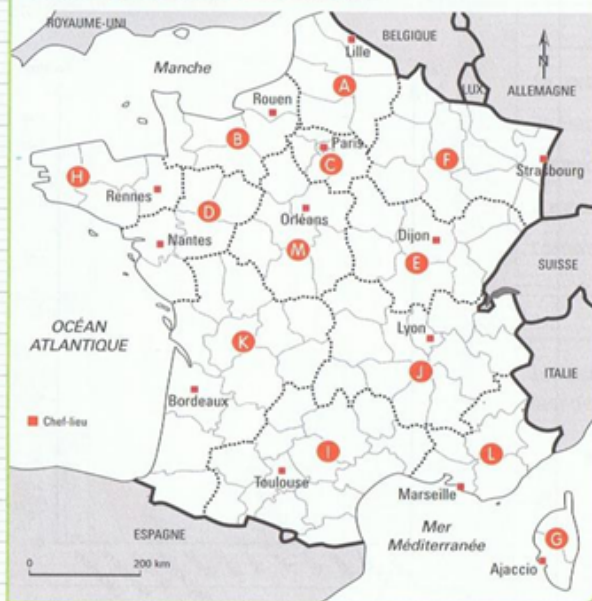
le conseil régional: l'ensemble des conseillers régionaux élus (pour 6 ans) pour organiser la vie de la région.

Dans chaque région, les habitants élisent **des conseillers régionaux**. **Le conseil régional** a notamment la charge des lycées ; des transports ; des actions en faveur de l'agriculture, du tourisme ; de l'environnement... Les conseillers régionaux élisent l'un d'entre eux pour être le président du conseil régional.

## L'organisation administrative de la France



Colorie chaque région d'une couleur différente.



### Les régions métropolitaines

Complète la liste des régions françaises de métropole.

.....: Hauts-de-France

.....: Normandie

**C** : .....

.....: Pays-de-la-Loire

.....: Bretagne

.....: Grand-Est

.....: Centre-Val-de-Loire

.....: Bourgogne-Franche-Comté

**K** : .....

.....: Auvergne-Rhône-Alpes

.....: Occitanie

**L** : .....

.....: Corse

### L'organisation en régions

Depuis ....., la France compte ..... régions en métropole et ..... en outre-mer.

### Les régions d'outre-mer

Écris le nom de chaque région.



### Le rôle des communes et des régions

Coche la division administrative qui a en charge chacune des activités suivantes.

COMMUNE    RÉGION

- Assurer la propreté des rues
- Équiper les écoles primaires
- Construire les lycées
- Gérer le fonctionnement des bibliothèques
- Enregistrer les naissances
- Apporter des aides aux entreprises

<input type="checkbox"/>	<input type="checkbox"/>
<input type="checkbox"/>	<input type="checkbox"/>
<input type="checkbox"/>	<input type="checkbox"/>
<input type="checkbox"/>	<input type="checkbox"/>
<input type="checkbox"/>	<input type="checkbox"/>
<input type="checkbox"/>	<input type="checkbox"/>

### La carte d'identité de ton lieu de vie

Dessine ou colle une image du logo de ta région.



Sur la carte de France, entoure d'un trait épais ta région ainsi que ton département.

Nom de ta commune : .....

Nombre d'habitants : .....

Nom du maire : .....

Nom de ton département : .....

Nom de ta région : .....



## À quoi ressemble(nt) le(s) lieu(x) où j'habite ?

Observe cette carte puis réponds aux questions.



- a. Peux-tu y voir les limites de :
- |                   |                              |                              |
|-------------------|------------------------------|------------------------------|
| ta région ?       | <input type="checkbox"/> oui | <input type="checkbox"/> non |
| ton département ? | <input type="checkbox"/> oui | <input type="checkbox"/> non |
| ton lieu de vie ? | <input type="checkbox"/> oui | <input type="checkbox"/> non |

Pourquoi ? .....

b. Colorie la France en vert. Écris son nom sur la carte.

c. Donne un titre à cette carte. ....

d. Sur cette carte, l'échelle t'explique que 1,6 cm = ..... en réalité.

e. Colorie les pays limitrophes de la France :

- |  |  |  |
|--|--|--|
| <input type="checkbox"/> bleu Allemagne    | <input type="checkbox"/> rose Italie   | <input type="checkbox"/> orange Espagne    |
| <input type="checkbox"/> jaune Belgique    | <input type="checkbox"/> violet Suisse | <input type="checkbox"/> rouge Royaume-Uni |
| <input type="checkbox"/> marron Luxembourg |  |  |





## À quoi ressemble(nt) le(s) lieu(x) où j'habite ?

Complète ce tableau.

Nom de mon lieu de vie	.....
Nom de mon département	.....
Nom de ma région	.....
Nom de mon pays	.....
Nom de mon continent	.....

Complète ce texte avec les mots suivants : *région – plan – distances – cartes – échelles – continent.*

On peut situer notre lieu de vie à différentes ..... :  
 d'abord sur le ..... de la ville ou du village, puis dans le département  
 puis la ....., puis dans mon pays (France), puis sur mon .....  
 (l'Europe) et enfin dans le monde.  
 L'échelle présente sur chacune de ces ..... permet de retrouver  
 les ..... dans la réalité.

Observe cette carte puis réponds aux questions.

a. Indique l'échelle de cette carte :

.....

b. Explique ce que cela signifie :  
1,5 cm sur la carte représente

..... dans la réalité.

c. Mesure avec ta règle la distance  
entre Chartres et Blois :

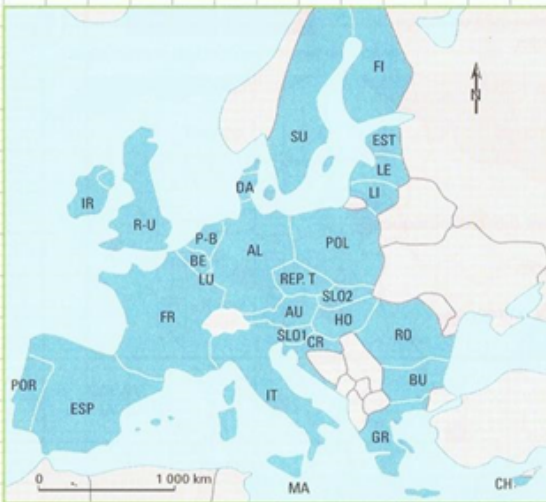
.....

d. Retrouve la distance à vol d'oiseau  
entre ces deux villes dans la réalité :

.....



# La France en Europe



### La carte d'identité de l'Union européenne

Date de naissance : .....

Objectifs de l'Union : .....

Nombre de pays membres en 2018 : .....

Nom de la monnaie de 19 pays de l'Union : .....

### Les pays de l'Union européenne

Écris le nom des pays de l'Union européenne. Puis entoure ceux qui font partie de la zone euro.

- |            |              |
|------------|--------------|
| AL: .....  | IT: .....    |
| AU: .....  | LE: .....    |
| BE: .....  | LI: .....    |
| BU: .....  | LU: .....    |
| CH: .....  | MA: .....    |
| CR: .....  | P-B: .....   |
| DA: .....  | POL: .....   |
| ESP: ..... | POR: .....   |
| EST: ..... | REP.T: ..... |
| FI: .....  | RO: .....    |
| FR: .....  | R-U: .....   |
| GR: .....  | SLO 1: ..... |
| HO: .....  | SLO 2: ..... |
| IR: .....  | SU: .....    |
- Quel pays a prévu de sortir de l'Union européenne en 2019?
- .....



# À quoi ressemble(nt) le(s) lieu(x) où j'habite ?

Observe ce planisphère puis réponds aux questions.

• Que peux-tu y voir ?

Ton pays :

oui  non

Ta région :

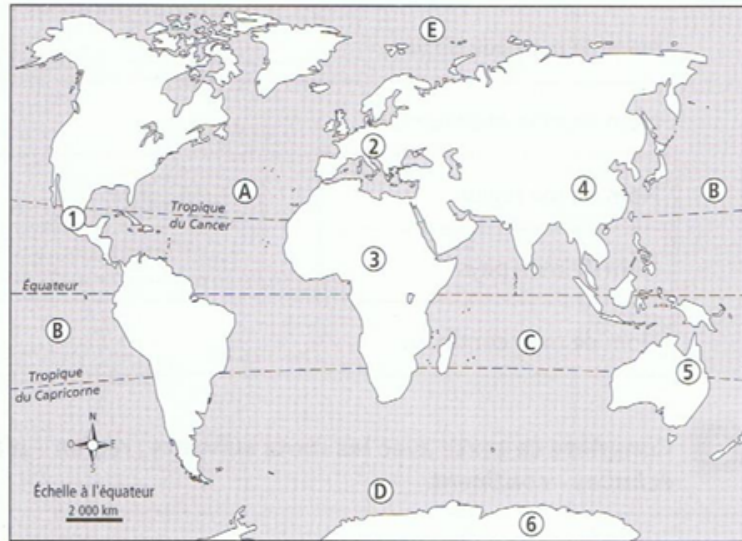
oui  non

Ton département :

oui  non

Ton lieu de vie :

oui  non



Pourquoi ? .....

- Colorie la France en vert.
- Donne un titre à cette carte. ....
- Sur cette carte, l'échelle t'explique que 0,9 cm = ..... en réalité.
- Écris les noms des océans (lettres) et des continents (chiffres).

OCÉANS	CONTINENTS
A : .....	1 : .....
B : .....	2 : .....
C : .....	3 : .....
D : .....	4 : .....
E : .....	5 : .....
	6 : .....

Numérote de 1 à 6 (du plus petit espace vers le plus grand).

pays                       planète Terre                       département  
 continent                       lieu de vie                       région

On peut situer notre lieu de vie à différentes ..... : d'abord sur le plan de la ..... ou du ....., puis dans le ..... puis la ....., puis dans notre ..... (.....), puis sur notre ..... (..... pour la France métropolitaine) et enfin dans le .....

L'..... présente sur chacune de ces cartes permet de retrouver les distances dans la .....

On peut situer notre lieu de vie à différentes ..... : d'abord sur le plan de la ..... ou du ....., puis dans le ..... puis la ....., puis dans notre ..... (.....), puis sur notre ..... (..... pour la France métropolitaine) et enfin dans le .....

L'..... présente sur chacune de ces cartes permet de retrouver les distances dans la .....

On peut situer notre lieu de vie à différentes ..... : d'abord sur le plan de la ..... ou du ....., puis dans le ..... puis la ....., puis dans notre ..... (.....), puis sur notre ..... (..... pour la France métropolitaine) et enfin dans le .....

L'..... présente sur chacune de ces cartes permet de retrouver les distances dans la .....

On peut situer notre lieu de vie à différentes ..... : d'abord sur le plan de la ..... ou du ....., puis dans le ..... puis la ....., puis dans notre ..... (.....), puis sur notre ..... (..... pour la France métropolitaine) et enfin dans le .....

L'..... présente sur chacune de ces cartes permet de retrouver les distances dans la .....

On peut situer notre lieu de vie à différentes échelles : d'abord sur le plan de la ville ou du village, puis dans le département puis la région, puis dans notre pays (France), puis sur notre continent (l'Europe pour la France métropolitaine) et enfin dans le monde.

L'échelle présente sur chacune de ces cartes permet de retrouver les distances dans la réalité .

