

Je sais écrire les sons correctement

1. Orthographe 

Complète les mots avec g ou gu :
 laêpe – la lon....eur – uneoutte
 – un ma.....asin – un ba.....age – se
 dé.....iser – laraisse – leide –
 uneare - ri.....oler -arder -.....ri

2. Orthographe 

Complète les mots avec g ou ge :
 rou....e – unerimace – un villa....e
 – la nei....e – un kan....ourou – un
 dra....on – unendarme – uneste
 – lealop – un escar.....ot – une
 épon.....e – un messa.....e

3. Orthographe 

Complète les mots avec g, qu, ge

une crème an...laise	une ...irafe
unelace à l'oran...e	je man...e
un chien de ...arde	la ...itare
Il ne chan...era pas	le froma...e
une ba...ette ma...ique	un ti...re

Je connais le genre des noms

4. Grammaire 

Classe en 2 colonnes les noms suivants :
 un animal – un canapé – une fenêtre
 le chat – la chaise – la maison –
 le calcul – l'écriture

Noms masculins	Noms féminins
-	-
-	-
-	-

5. Grammaire 

Complète par un ou une et indique le genre des noms :

Exemple : *un crabe, genre : masculin*

.....mer, genre :
phare, genre :
île, genre :
bateau, genre :
port, genre :
plage, genre :
marin, genre :
océan, genre :

6. Grammaire 

Copie les noms suivants en remplaçant l' par un ou une et indique le genre :

Exemple : **l'homme** : un homme, *genre : masculin*

- l'eau	- l'assiette
- l'âne	- l'armoire
- l'histoire	- l'oiseau
- l'école	- l'orage

Je sais retrouver l'infinitif

7. Conjugaison 

Souligne le verbe et écris son infinitif (en choisissant dans la liste)


poser – préparer – mettre – apprendre – rentrer – apporter -

Damien rentre de l'école.....
 Il pose son cartable.
 Il se met tout de suite à ses devoirs...
 Maman lui prépare un gouter.....
 Elle le lui apporte dans sa chambre...
 Damien apprend sa leçon.....

8. Conjugaison 

Souligne le verbe et écris son infinitif.

La journée commence par la visite du zoo. (.....). Les enfants observent toutes sortes d'oiseaux. (.....), puis ils assistent au repas des fauves. (.....). **Bientôt**, ils déjeuneront au restaurant du parc. (.....). **Enfin**, ils retourneront chez eux. (.....)

9. Conjugaison 

Souligne le verbe et écris son infinitif.

Le vent a cassé plusieurs branches...
Aujourd'hui, le soleil brille.....
J'ai fini mon travail.....
La maitresse écrit la date.....
J'apporterai un gâteau.....
Nous apprenons notre leçon.....
Vous partirez en Bretagne.....

Je sais ranger les mots dans l'ordre alphabétique

10. Vocabulaire 







Fais la fiche 1 de vocabulaire

11. Vocabulaire 

Fais la fiche 2 de vocabulaire

12. Vocabulaire 

Fais la fiche 3 de vocabulaire

Je sais me repérer dans l'espace		
<input type="radio"/>	13. Géométrie	
Fais la fiche « se repérer sur un quadrillage »		
<input type="radio"/>	14. Géométrie	
Fais la fiche « Reconnaître des angles droits »		
<input type="radio"/>	15. Problèmes	
Fais une page de prolongations de ton fichier de maths		
Je connais les compléments à 10		
<input type="radio"/>	16. Calcul	
$4 + \dots = 10$ $1 + \dots = 10$ $9 + \dots = 10$ $5 + \dots = 10$ $6 + \dots = 10$ $3 + \dots = 10$ $8 + \dots = 10$ $7 + \dots = 10$		
Je sais calculer en ligne		
<input type="radio"/>	17. Calcul	
vingt + trente = ... dix + quarante = ... trente + dix = ... quarante + vingt = ... vingt + vingt = ... trente + trente = ... vingt + trois = ... douze + deux = ... trente + cinq = ... onze + quatre = ... dix + trois = ... seize + quatre = ...		
<input type="radio"/>	18. Calcul	
Recopie en complétant avec le		

nombre qui manque:		
$16 + \dots = 21$	$3 + 24 = \dots$	
$28 = 19 + \dots$	$54 = 48 + \dots$	
$44 = 37 + \dots$	$37 + 8 = \dots$	
$28 + \dots = 34$	$2 + \dots = 19$	
Je connais les dizaines et les unités		
<input type="radio"/>	19. Numération	
Recopie et entoure le chiffre 2 chaque fois qu'il représente le chiffre des dizaines:		
$12 - 23 - 22 - 32 - 2 - 29 - 25 -$ $42 - 20 - 52 - 29 - 26.$		
Trouve quatre nombres de deux chiffres ayant 3 pour chiffre des dizaines:		
.....		
<input type="radio"/>	20. Numération	
Écris tous les nombres de 2 chiffres qui ont 4 pour chiffre des dizaines:		
.....		
Écris tous les nombres de 2 chiffres situés entre 12 et 59 et qui ont 5 pour chiffre des unités:		
.....		
<input type="radio"/>	21. Numération	
Trouve un nombre plus petit que 44 mais plus grand que 27 ayant 5 pour chiffre des unités.		
.....		
Trouve un nombre plus grand que 17 mais plus petit que 32 ayant 6 pour chiffre des unités		
.....		

Prénom:

Colorie les jours du plan de travail :

- ① ② ③ ④
⑤ ⑥ ⑦

