

Plan d'autonomie n°3 CE2

| | | | | |
|---|---|---------------|-----------------------|--|
| ① | 1 | Mathématiques | La soustraction posée | |
| | 2 | Lexique | L'ordre alphabétique | |
| ② | 3 | Ecriture | Recopier un texte | |
| | 4 | Détente | Mandala | |
| ③ | 5 | Mathématiques | La table de 3 | |
| | 6 | Géométrie | Reproduction | |
| | 7 | Mathématiques | Enigmes | |

Prénom :

Mon programme : ① ② ③

Bilan du plan de travail

Signature des parents

Programme tenu

Programme non tenu

Programme dépassé

Commentaires :

.....

.....

.....

1. Mathématiques : la soustraction posée ①

Pose et calcule ces soustractions :

97 - 25

60 - 10

91 - 20

76 - 22

67 - 28

| | | |
|--|--|--|
| | | |
| | | |
| | | |
| | | |
| | | |
| | | |
| | | |
| | | |
| | | |
| | | |

| | | |
|--|--|--|
| | | |
| | | |
| | | |
| | | |
| | | |
| | | |
| | | |
| | | |
| | | |
| | | |

| | | |
|--|--|--|
| | | |
| | | |
| | | |
| | | |
| | | |
| | | |
| | | |
| | | |
| | | |
| | | |

| | | |
|--|--|--|
| | | |
| | | |
| | | |
| | | |
| | | |
| | | |
| | | |
| | | |
| | | |
| | | |

| | | |
|--|--|--|
| | | |
| | | |
| | | |
| | | |
| | | |
| | | |
| | | |
| | | |
| | | |
| | | |

2. Lexique : l'ordre alphabétique ①

Recopie les mots dans l'ordre alphabétique.


Angleterre - antique - avion - arrivée - Antoine - altère

Londres - long - lointain - libellule - lac - lapin

Elisabeth - empire - études - ennemi - élection - Elysée

voyage - vent - voiture - voyante - vivant - valise

3. Ecriture ②



Lis ce texte. **Recopie**-le en formant tes lettres le mieux possible et en respectant leur taille.

Elisabeth II est reine d'Angleterre, mais elle est aussi chef d'Etat. Elle habite à Buckingham Palace. Comme le président de la République française, elle est chef des armées. Elle nomme le Premier ministre, le consulte toutes les semaines et valide les lois votées. Cela fait plus de 60 ans qu'elle règne sur le Royaume-Uni ainsi que sur des pays lointains comme l'Australie ou la Jamaïque.




<http://2cool4school eklablog.com/>

4. Détente : mandala ②



Colorie ce mandala avec tes **crayons de couleur**.





Pense à colorier avec tes crayons de couleur.



<http://2cool4school.eklablog.com/>

15 : vert

21 : marron

12 : rouge

18 : violet

27 : bleu foncé

6 : rose

9 : jaune

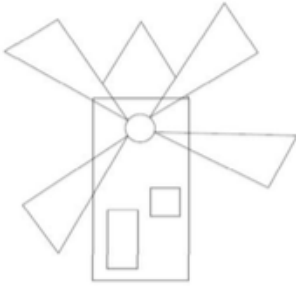

24 : orange

30 : bleu clair

6. Géométrie (3)




Reproduis ces formes avec le plus de précision possible (utilise ta règle) :



<http://2cool4school eklablog.com/>

7. Mathématiques : énigmes (3)



Nous sommes en 2017. Une vieille femme chinoise dit à son arrière-petite-fille :
« Je suis née en janvier 1919. J'avais 27 ans quand ta grand-mère est née. Il y a 35 ans d'écart entre ta grand-mère et ta mère. Toi, tu es née 90 ans après moi ».

Quel âge a l'arrière-grand-mère ? _____

Quel âge a la grand-mère ? _____

Quel âge a la mère ? _____

Quelle âge a la fille ? _____

Trouve les signes qui manquent (+ ou -) pour que les résultats des calculs soient exacts :

$$6 \quad 5 \quad 4 \quad 3 \quad 2 \quad 1 = 7$$

$$7 \quad 6 \quad 5 \quad 4 \quad 3 \quad 2 \quad 1 = 8$$