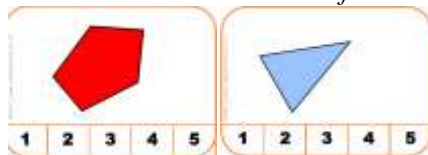


Cartes à compter : "Combien de côtés ?"

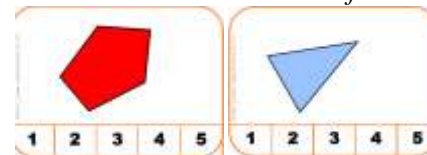
Objectif : Dénombrer les côtés d'une forme complexe.



1	2	3	4	5	6	7	8	9	10
😊	😊	😊	😊	😊	😊	😊	😊	😊	😊
11	12	13	14	15	16	17	18	19	20
😊	😊	😊	😊	😊	😊	😊	😊	😊	😊

Cartes à compter : "Combien de côtés ?"

Objectif : Dénombrer les côtés d'une forme complexe.



1	2	3	4	5	6	7	8	9	10
😊	😊	😊	😊	😊	😊	😊	😊	😊	😊
11	12	13	14	15	16	17	18	19	20
😊	😊	😊	😊	😊	😊	😊	😊	😊	😊

Cartes à compter : "Combien de côtés ?"

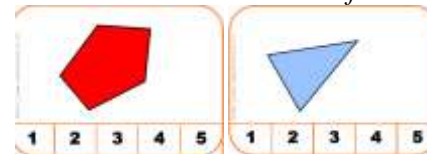
Objectif : Dénombrer les côtés d'une forme complexe.



1	2	3	4	5	6	7	8	9	10
😊	😊	😊	😊	😊	😊	😊	😊	😊	😊
11	12	13	14	15	16	17	18	19	20
😊	😊	😊	😊	😊	😊	😊	😊	😊	😊

Cartes à compter : "Combien de côtés ?"

Objectif : Dénombrer les côtés d'une forme complexe.



1	2	3	4	5	6	7	8	9	10
😊	😊	😊	😊	😊	😊	😊	😊	😊	😊
11	12	13	14	15	16	17	18	19	20
😊	😊	😊	😊	😊	😊	😊	😊	😊	😊