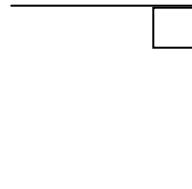
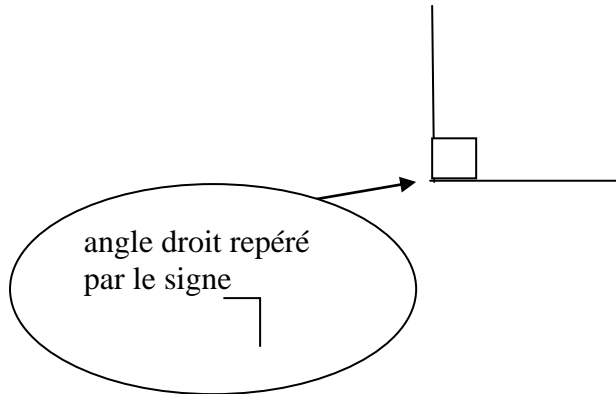



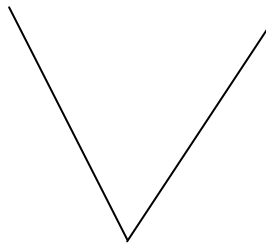
L'ANGLE DROIT

Il existe plusieurs grandeurs d'angles.

Lorsque deux droites (une droite horizontale et une droite verticale) se rejoignent, elles forment un angle droit.



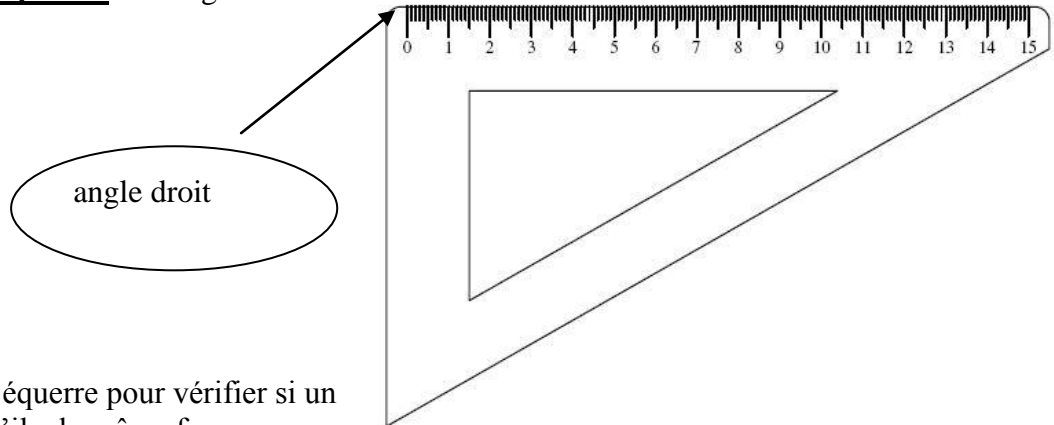
Les angles droits peuvent avoir des positions différentes sur la feuille.



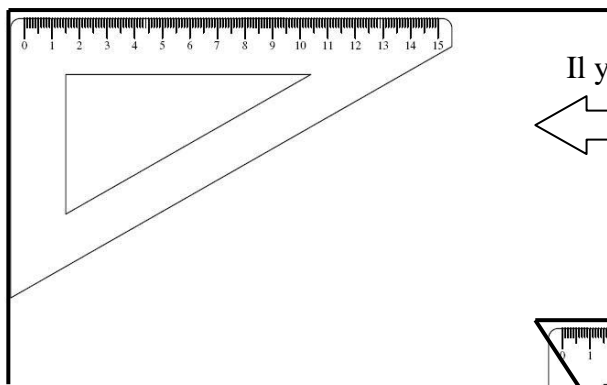
.....

.....


J'observe que l'**équerre** a un angle droit



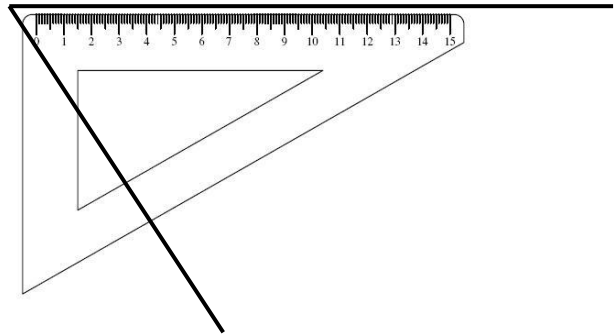

Je dois utiliser l'équerre pour vérifier si un angle est droit, s'il a la même forme que l'angle droit de l'équerre.



Il y a bien un angle droit.



Il n'y a pas d'angle droit.



Consigne : Exerce-toi avec ton gabarit pour trouver des angles droits quand il y en a. Marque les avec le signe 